

SETMANA DEL 25 AL 29 DE MAIG


Observa la imatge i descriu-la. També pots explicar que et suggereix quan la mires.



Mira el vídeo i respon a les preguntes de comprensió que hi trobaràs en aquesta imatge



Quants estoigs es necessiten per col·locar 75 llapis si es posen 5 llapis en cadascun ?



Operació

Resposta

Pensa, repassa i completa

a) $72 : \dots\dots\dots = 9$

b) $40 : \dots\dots\dots = 5$

c) $12 : \dots\dots\dots = 6$

d) $14 : \dots\dots\dots = 2$

e) $63 : \dots\dots\dots = 7$

f) $15 : \dots\dots\dots = 3$

Completa els enunciats dels problemes i col·loca en el lloc corresponent les dades que hi falten

Maria té euros i vol comprar una impressora que val euros. Quants diners li fan falta?

$$\begin{array}{r} 380 \\ - 250 \\ \hline 130 \end{array}$$

Solució: li falten 130 euros

Un grup d' amics van anar d' excursió en moto. En cada moto hi anaven persones i van necessitar motos. Quants amics van anar d' excursió ?

$$34 \times 2 = 68$$

Solució: 68 persones

Pel gimnàs de l' escola s' han comprat pilotes de basquet iguals i que han costat en total euros. Quant ha costat cada pilota?

$$\begin{array}{r} 128 \overline{) 4} \\ 0832 \\ 0 \end{array}$$

Solució: 32 euros

Sara va comprar bruses de euros cada un i una faldilla de euros. Quant va gastar en total ?

$$29 \times 2 = 58 \quad \text{i} \quad 58 + 27 = 85$$

Solució: va gastar en total 85 €

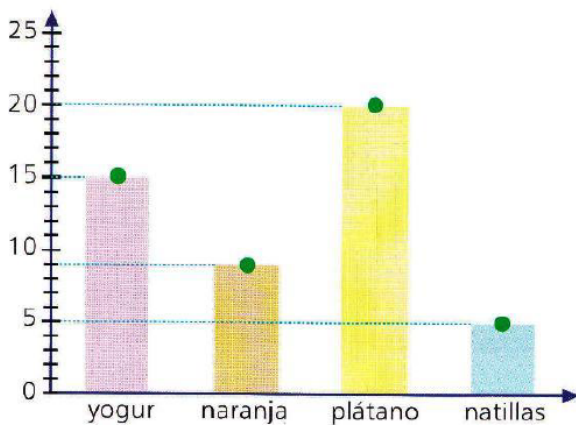


• Marta hizo cuatro veces el recorrido de Calazul a Verdejo con su coche. ¿Cuántos km recorrió en total

• Luis hizo en moto el recorrido desde Aldeamar hasta verdejo pasando por Calazul; ida y vuelta
¿Cuántos km hizo a la ida?
¿Cuántos km hizo en total?

• Daniel conduce un autobús. Cada día va y vuelve de Aldeamar a Calazul. ¿Cuántos km recorre en total al día?

En un colegio han representado en un gráfico de puntos el número de postres de cada tipo que se han consumido en el comedor escolar




1. Observa el gráfico de puntos y responde

- ¿Cuál es el postre que más se ha consumido?
- ¿Cuántos plátanos más que naranjas se han consumido?
- Si todos los alumnos han tomado un postre, ¿cuántos alumnos han comido en el comedor?

Selecciona les dades necessàries per a resoldre les preguntes

Matilde ha comprado 75 kilos de tomates repartidos en cajas de 15 kilos. Cada kilo le cuesta 1 € 60 cent. y los vende a 2 €. Por la mañana ha vendido 25 kilos y por la tarde 15 kilos.

1 ¿Cuántas cajas de tomate ha comprado?



2 ¿Cuánto le cuesta cada caja?



3 ¿Cuánto le han costado todos los tomates?



Per repassar la mecànica de les divisions clica damunt de la imatge

