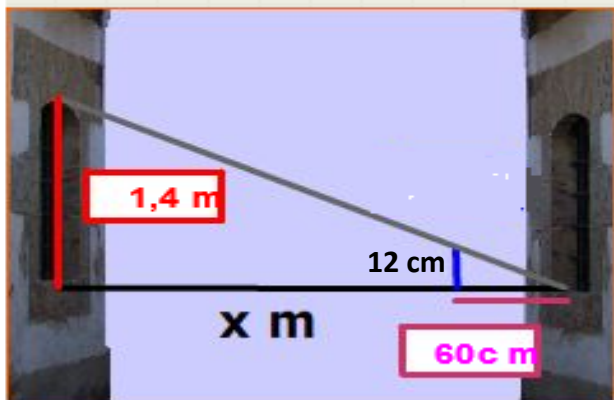


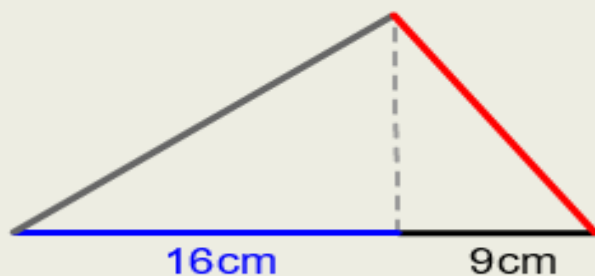
Com que la finestra de la casa de davant és igual que la meua, puc saber la seva altura, i amb la visual d'una vareta, es pot calcular l'amplada del carrer. Calculeu-la.



Solució:

7 m

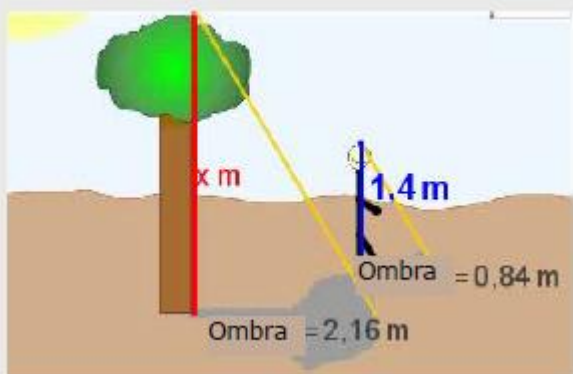
Calcula el perímetre d'un triangle rectangle en el qual les projeccions dels catets sobre la hipotenusa mesuren 9 cm i 16 cm



Solució:

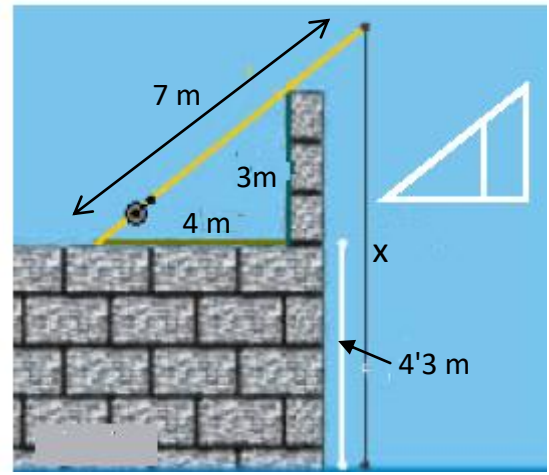
60 cm

Trobeu l'altura de l'arbre



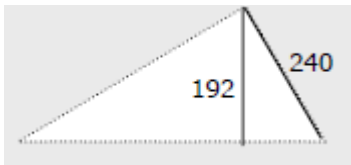
Solució: 3'6 m

Quina és la longitud del fil de pescar (x)?

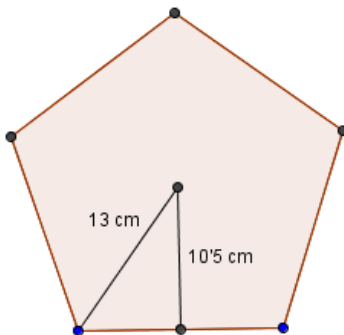


Solució: 8'5 m

Troba l'àrea d'aquests polígons:



Solució: 38400 cm²



Solució: 402'4 cm²