



# DOSSIER DE RECUPERACIÓ DE CIÈNCIES SOCIALS

## PRIMER TRIMESTRE

**2n d'ESO. ADAPTACIÓ**  
**CURS 2018-19**

**NOM** \_\_\_\_\_

**CURS** \_\_\_\_\_



## INSTRUCCIONS

- Aquest dossier serveix per recuperar l'assignatura de Ciències Socials. Si no el presentes és quasi impossible aprovar, ja que...
- ...té un valor del 50% de la nota, l'examen de recuperació té l'altre 50%.
- L'has de lliurar corregit just abans de l'examen de recuperació, **el 23 de gener**, a les 15:30, amb una portada, dins d'una funda/fastener (que es retornarà) i amb els fulls en bon estat.
- Has de respondre totes les preguntes de manera neta i clara.
- Cal fer les preguntes (amb els seus enunciats) en fulls **a part blancs**.
- **Per tant, no cal que imprimeixis el dossier, només la portada.**
- És important la lletra, la presentació, el vocabulari i l'ortografia
- Bon Nadal i estudia, ànims.

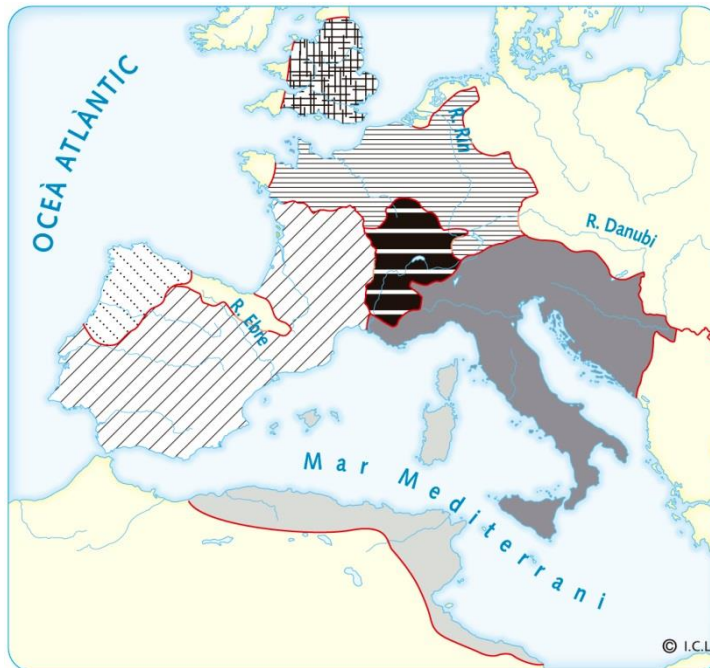
### ATENCIÓ:

**El dossier caldrà lliurar-lo a la professora el primer dia de classe després de vacances, perquè ella el pugui corregir i el puguis donar corregit el dia de l'examen**

## UNITAT 1: LA FRAGMENTACIÓ DEL MÓN ANTIC

- 1- Quin any va caure l'Imperi Romà? Quines conseqüències va derivar?
- 2- Els visigots van ser un dels regnes germànics més importants l'Europa, però no van ser els únics. Col·loca al mapa els noms dels diferents regnes germànics que van existir a Europa:

*Ostrogots – visigots – francs – burgundis – alamans – anglosaxons.*



- 3- Ordena aquests esdeveniments del més antic al menys antic.
  - Expulsió dels sueus (585)
  - Expulsió dels bizantins (623)
  - Unificació de les lleis (Liber Iudiciorum, 654)
  - Derrota contra un exèrcit musulmà (711)
  - Conversió del rei Recared al catolicisme (587)
  - Establiment de la capital a Toledo (554)
- 4- Cap al segle V, l'Occident europeu s'havia ruralitzat. Què entens per procés de ruralització?
- 5- Marca amb una X els conceptes que es relacionen amb el procés de ruralització.
  - Comerç
  - Agricultura
  - Ciutat
  - Camp
  - Ramaderia
  - Indústria
- 6- Quin origen va tenir l'Imperi Bizantí? Quants segles va durar?
- 7- Qui eren els francs? Qui va ser Carlemany?



**8- Indica si aquestes frases sobre l'organització de l'Imperi de Carlemany són veritables (V) o falses (F).**

- Els comtes eren nobles de confiança de Carlemany
- Els comptats es van crear per defensar les zones de frontera de l'Imperi
- Els nobles administraven les terres i se'n beneficiaven.
- Carlemany nomenava càrrecs vitalicis i hereditaris.
- Els vassalls de Carlemany li juraven lleialtat, respecte i ajuda militar.
- Els nobles rebien el jurament de fidelitat d'altres vassalls de més rang.

**8. Busca la resposta correcta a cada pregunta:**

- 1- Què va ser l'Imperi bizantí?
  - Gràcies a Carlemany, fill del rei Carolíngi Pipí el Breu, que va ampliar el seu regne i va estendre el cristianisme per bona part de l'Europa Occidental. Va ser coronat emperador l'any 800.
- 2- Què va ser el regne germànic?
  - Van ser uns pobles bàrbars que van irrompre en massa a l'Imperi romà d'Orient i que van acabar conquerint el territori.
- 3- Com es va formar l'Imperi carolíngi?
  - Era un imperi cristià, hereu de l'Imperi romà d'Orient, i dirigit per un *basileus*. La capital, Constantinoble, va ser anomenada la "nova Roma".

**9. Defineix breument els conceptes següents:**

- Alcorà: .....
- Mahoma: .....
- L'Hègira .....
- Mesquita: .....
- Profeta: .....
- Islam .....

**10. Quins són els cinc pilars bàsics de l'Islam? Marca'ls amb una X (1p)**

- |                                    |                             |
|------------------------------------|-----------------------------|
| Professió de fe en Al·là           | No menjar porc              |
| No beure alcohol                   | Fer dejuni durant el Ramadà |
| Creure en Mahoma com a Déu         | Pregar 5 vegades al dia     |
| Practicar l'almoïna                | No jugar a jocs d'atzar     |
| Respecte al pare dintre la família | Anar una vegada a La Meca   |



## UNITAT 2- AL-ANDALUS

### 1- Quan i on va aparèixer l'islam?

- Com es va estendre?
- Quins territoris controlava l'imperi islàmic al segle VIII?
- A què s'anomena Al-Andalus?

### 2- Relaciona la informació d'aquestes tres columnes:

Turcs otomans	661-750	Damasc
Dinastia abbàssida	750-1258	Constantinoble
Dinastia omeia	1453	Bagdad

### 3- L'islam es va expandir ràpidament per la península Ibèrica, incorporant la seva pròpia organització cultural, religiosa i política. Indica si aquestes frases són veritable (V) o falses (F).

- La victòria a la batalla de Poitiers va permetre expandir l'islam pel regne franc.
- Els xiïtes defensen que el califa ha de ser un descendent directe de Mahoma.
- La dinastia Abbàssida tenia com a capital Damasc i va conquerir la Península Ibèrica.
- L'àrab era la llengua oficial de l'Imperi i es van prohibir altres religions diferents l'islam.

### 4- Relaciona aquests llocs d'una ciutat andalusina amb la seva funció:

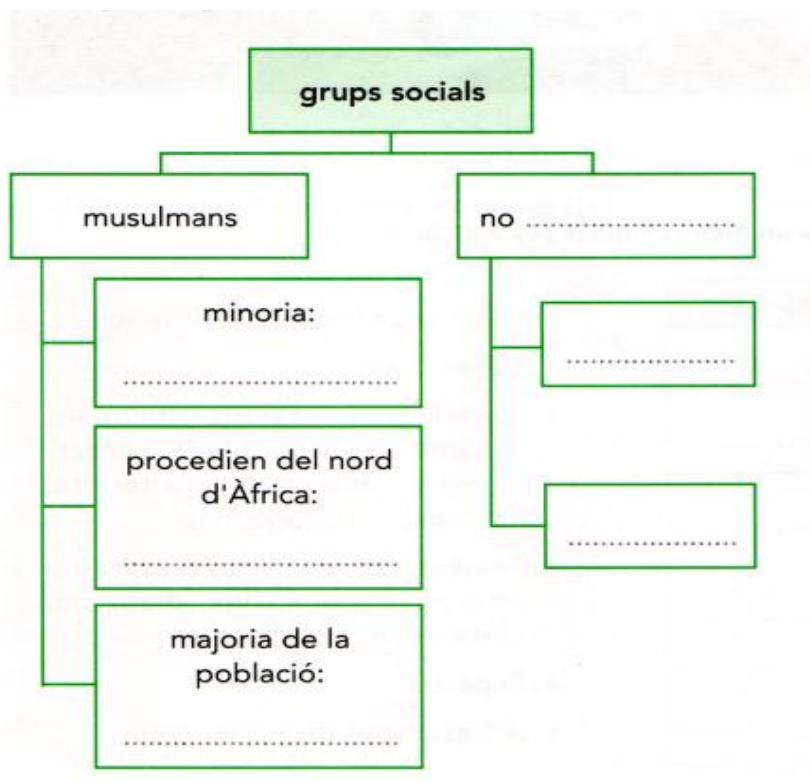
Barri dels sedaires	residència governativa
Alcàsser	mercat
Soc	lloc destinat a la venda de les mercaderies més valuoses
Raval	lloc de culte musulmà
Mesquita	barri fora de la muralla

### 5- Com es va millorar l'agricultura? Quins són els conreus de regadiu introduït pels àrabs?

### 6. Relaciona aquests coneixements i sabers portats a Europa pels musulmans amb el seu lloc d'origen.

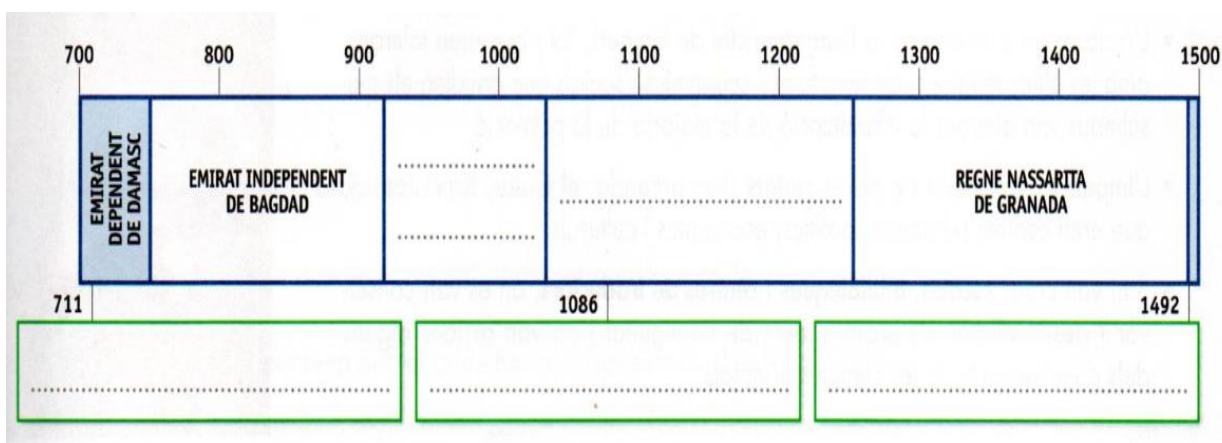
Brúixola	Pèrsia
Sistema mètric decimal	Índia
Escacs	Xina
Paper	Orient

7. Omple l'esquema de la societat andalusina i explica les seves diferències.



8. Fixa't en l'eix cronològic i fes les activitats següents:

- Acoloreix les etapes principals d'Al-Andalus.
- Escriu el nom de les etapes i els fets que hi falten.



9. Quins van ser els nous conreus introduïts pels àrabs? Posa'n exemples de cereals, hortalisses i verdures, fruites i espècies. Tot seguit inventa un menú complet per un àpat.

MENÚ	NOM DEL PLAT	INGREDIENTS
PRIMER PLAT		
SEGON PLAT		
POSTRES		

10. Amb l'ajuda del llibre, situa en el mapa els següents noms:

Córdova – La Meca – Constantinoble – Medina – Al-Andalus – Poitiers (732) – Mar Roig – Egipte –  
 Jerusalem – Aràbia – Estret de Gibraltar – Oceà Atlàntic – Oceà Índic

