

Ripollet

Estiu de 6è

a 1r d'ESO

patrimoni

història

cultura

Nom:

Escola de l'últim curs:

Institut nou:

Contingut

Benvinguda al repte: Ruta cultural de Ripollet.....	1
El meu calendari	2
Fase 1: Investigació històrica.....	3
Fase 2: Treball de camp.....	3
Fase 3: Càlcul i mapes	5
3.1. El Mapa de la teva ruta.....	5
3.2. Càlcul d'Itinerari i temps.....	6
3.3. Conclusió Matemàtica	7
Fase 4: La teva guia turística	8
Per acabar...Autoavaluació	10
ANNEX 1: Història de Ripollet	11
ANNEX 2: Catàleg de monuments i indrets de Ripollet.....	17

Benvinguda al repte: Ruta cultural de Ripollet

Un salt important

Enhorabona per haver acabat la primària! Aquest estiu tens una missió especial: dissenyar una nova **ruta cultural i històrica de Ripollet**.

Aquest treball serà la teva **carta de presentació** al teu nou professorat de 1r d'ESO. És l'oportunitat perfecta per demostrar la teva creativitat i el teu compromís amb Ripollet!

En què consisteix el repte?

El repte consisteix en **dissenyar una ruta per Ripollet** seguint aquesta seqüència que et proposem i expliquem en aquest dossier.



Seqüència del Projecte




***Atenció!** Hi ha dos annexos amb un text històric i un catàleg d'indrets i monuments que t'ajudaran a completar el repte.

Però... **primer de tot.. planifica't...**

Pensa quines setmanes faràs les teves visites i activitats del dossier. Recorda que has de triar de **5 a 7 llocs** en total. I si et ve de gust, pots fer tots aquells indrets que vulguis o afegir algun altre que nosaltres no hem pensat i que a tu t'agradi.

El meu calendari

	Lloc que visitaré i fase del projecte que realitzaré.
Setmana 1 (Juliol)
Setmana 2 (Juliol)
Setmana 3 (Juliol)
Setmana 4 (Juliol)
Setmana 5 (Agost)
Setmana 6 (Agost)
Setmana 7 (Agost)
Altres dates

Fase 1: Investigació històrica

Sabies que...?

Ripollet va viure una transformació fascinant: va passar de ser un poble principalment agrícola a convertir-se en un centre industrial clau gràcies als seus molins. L'energia de l'aigua va permetre el funcionament de molins fariners, paperers i, finalment, de teixits.



Activitat de lectura i comprensió lectora d'història de Ripollet: **ANNEX**

Fase 2: Treball de camp

Aquesta és la part central del teu repte! Has de triar **5 o 7 espais** dels 14 que apareixen al CATÀLEG que trobaràs a l' **ANNEX 2**

També et pot ser d'ajuda aquesta pàgina web de consulta:

<https://patrimonicultural.diba.cat/municipi/ripollet/elements?page=1>

A la graella que tens a continuació pots fer un llistat dels indrets o monuments que has triat. Al costat del nom pot fer algun apunt amb alguna dada d'interès de cada espai. Això et pot servir a tu per començar a conèixer millor tot el que podem trobar al nostre poble i perquè és important.

Espai triat	Dades d'interès
1. _____ (Ex: Molí d'en Rata)	_____ _____ _____
2. _____ (Ex: Rambla de la Vinya)	_____ _____ _____
3. _____ (Ex: Sant Esteve)	_____ _____ _____
4. _____	_____ _____ _____
5. _____	_____ _____ _____
6. _____	_____ _____ _____
7. _____	_____ _____ _____
ALTRES...	


Fase 3: Càlcul i mapes

El Repte cartogràfic

Una persona dissenyadora de rutes ha de saber calcular l'esforç que requerirà el seu recorregut. En aquesta fase, transformaràs la teva selecció de 7 espais en un itinerari real amb dades matemàtiques precises.

3.1. El Mapa de la teva ruta

Dibuixa un esquema simplificat de Ripollet. Marca amb punts els 7 espais que has triat i numera'ls segons l'ordre en què es visitaran. No cal que sigui un mapa perfecte, però sí que s'entengui el recorregut!



3.2. Càlcul d'Itinerari i temps

Emplena la taula següent per calcular la distància total.

Per al temps estimat, recorda que en 15 minuts es pot recórrer 1 Km.

Tram de la ruta	Distància (km o metres)	Temps estimat
Parada 1 a Parada 2 <i>Molí d'en Rata a Parc Pinetons</i>	<u>1 km = 1.000 m</u>	<u>15 minuts</u>
Parada 2 a Parada 3
Parada 3 a Parada 4
Parada 4 a Parada 5
Parada 5 a Parada 6
Parada 6 a Parada 7
TOTAL RUTA

3.3. Conclusió Matemàtica

Expressa la distància total en quilòmetres i el temps total en hores i minuts.

Creus que és una ruta assequible per a una família amb nens? Justifica la teva resposta.

Espai per fer càlculs en brut

 **Espai per fer l'esborrany del disseny de la teva guia**

En aquest espai pot fer un esbós de com distribuiràs les fotografies, dibuixos i text de la teva guia. No cal que sigui a net, és un esborrany per tenir les idees clares abans de fer el treball final.

Per acabar...AUTOAVALUACIÓ

Aquesta graella t'ajudarà a fer un seguiment de la teva feina.

Marca amb un tot allò has fet.

<input checked="" type="checkbox"/> Llista de Comprovació (Autoavaluació)	
	Comprensió lectora: He llegit el text d'història de Ripollet i he fet les activitats relacionades.
	Tria de 5 a 7 espais: He seleccionat de 5 a 7 llocs i he fet una activitat per a cadascun.
	Àmbit matemàtic: He calculat les distàncies totals i el temps de la caminada (4 km/h).
	Guia turística: El text és engrescador, ben escrit i sense faltes d'ortografia.
	Component d'anglès: He inclòs un títol o eslògan en anglès a la guia final.

ANNEX 1: Història de Ripollet
De l'Edat Mitjana a la Vila (adaptació)

Text original:

<https://www.ripollet.cat/ciutat/el-municipi/historia-de-ripollet/21556>

Història de Ripollet: De l'Edat Mitjana a la Vila (adaptació)

Aquest text t'explicarà com va néixer i com va anar creixent el nostre poble, Ripollet, al llarg dels segles. Al final del document trobaràs un glossari amb el significat d'algunes paraules més difícils escrites en negreta i dues activitats per comprendre millor el text.


1. L'aigua, els molins i el naixement del poble

Sabies que l'origen de Ripollet té molt a veure amb els molins?

Fa molts i molts anys, els pagesos de la zona es van començar a instal·lar a prop del riu Ripoll per fer servir els molins d'aigua que es canalitzava gràcies a la construcció de **sèquies**.

Als molins (foto 1) podien moldre el blat i fer farina, que eren els principals aliments d'aquella època i l'actualitat.

(foto 1)



En aquells temps (segles VIII i IX):

- El territori de Ripollet es dedicava principalment a l'agricultura (cultivar la terra) i a la ramaderia (tenir cura del bestiar).
- En aquella època, Ripollet no tenia carrers com ara. Estava format per masies (cases de pagès) repartides pel camp i uns quants molins. Les primeres cases agrupades es van construir al costat de l'església.



2. El poblet de Palau Ausit i el treball al camp

En papers antics guardats al Monestir de Sant Cugat, s'explica que el poble no es deia Ripollet, sinó Palau Ausit. El primer document on surt aquest nom és de l'any 983. Hi ha dues teories sobre el nom de Palau Ausit:

1. **La teoria de les alzines:** Diu que a la zona hi havia grans boscos d'alzines i que "Ausit" vindria de la paraula ausina.
2. **La teoria àrab:** Diu que ve de l'àrab *abu* (família) i *zit* (un llinatge àrab).
Posteriorment, va començar a utilitzar-se la denominació de "Ripollet" (derivat del riu Ripoll).

3. L'època dels àrabs

4.

Els àrabs van arribar a Catalunya l'any 713. Durant el segle X els cristians i els àrabs es van enfrontar en diferents batalles. Finalment, els cristians van ocupar el territori.



A Ripollet es van destruir cases, el suposat castell i les torres de defensa van quedar arrasades i es van cremar boscos.

4. El creixement del poble de Ripollet i la cultura de la vinya

Entre el segle X i el segle XV el poble de Ripollet va anar evolucionant en els comtats catalans i la Corona d'Aragó. El principal sector econòmic va ser el conreu de la vinya. A finals de l'estiu els camperols recollien la vinya per elaborar el vi, aquest moment s'anomena **la verema**, i feien una gran festa.



Sabeu quan se celebra la Festa Major de Ripollet? A finals de l'estiu!!! Encara que ja no és un poble dedicat al conreu de la vinya, es manté la tradició.

Glossari de paraules difícils

Sèquia	Un canal d'aigua petit excavat a terra que serveix per portar l'aigua del riu fins als camps o molins. Més informació : https://terraendins.blog/2025/07/19/la-sequia-monar-del-riu-ripoll-dones-dels-seus-inicis/
Verema	La verema és la collita o recol·lecció del raïm per a la producció de vi.

Línia del Temps: La Història de Ripollet

Basant-te en la lectura, ordena cronològicament els fets històrics de Ripollet. Escriu a cada requadre què va passar en la data o període indicats.

Descripció dels fets (Línia del temps)
713:
<hr/> <hr/> <hr/> <hr/> <hr/> <hr/> <hr/> <hr/>
983:
<hr/> <hr/> <hr/> <hr/> <hr/> <hr/> <hr/> <hr/>
Segles XI-XV:
<hr/> <hr/> <hr/> <hr/> <hr/> <hr/> <hr/> <hr/>

Recorda

El nom original de Ripollet era Palau Ausit. Segons el text, hi ha diferents explicacions sobre l'origen d'aquest nom i també sobre com va canviar el que es plantava als camps.

Teories sobre el nom 'Palau Ausit'	
Teoria de les alzines	Teoria àrab
<hr/> <hr/> <hr/> <hr/> <hr/> <hr/> <hr/> <hr/>	<hr/> <hr/> <hr/> <hr/> <hr/> <hr/> <hr/> <hr/>

1. Per què creus que l'aigua i el riu Ripoll va ser tan important per al creixement de Ripollet?

2. Què és el que t'ha semblat més interessant d'aquest text sobre Ripollet?

ANNEX 2:
Catàleg de monuments i indrets de Ripollet

Ripollet

Catàleg



Proposta d'estiu 2025-2026



patrimoni

història

cultura

Informació

A continuació trobaràs 14 fitxes del catàleg de patrimoni de la nostra vila. Completa cada fitxa amb la informació corresponent i utilitza l'espai en blanc per fer un dibuix detallat de l'element o descriure com t'imagines que és o enganxar una fotografia.

<https://patrimonicultural.diba.cat/municipi/ripollet>



Riu Ripoll

Tipologia: Patrimoni natural

Localització: Entre Barberà del Vallès i Montcada i Reixac, paral·lel amb la frontera amb Cerdanyola

Descripció: Referent per entendre l'evolució de l'entorn paisatgístic, urbà i econòmic local. A més de donar el nom al poble de Ripollet



Casa de Can Masachs

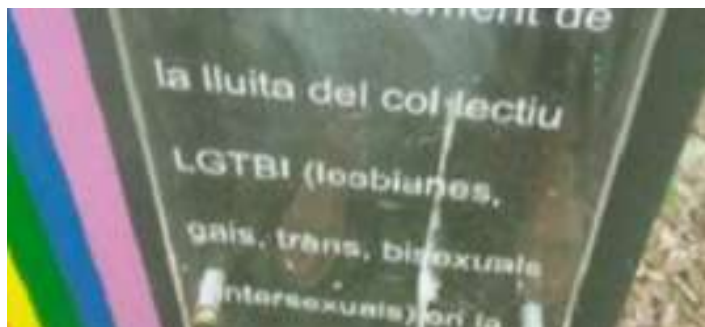
Tipologia: Patrimoni immoble

Localització: c.Balmes

Descripció: La casa de can Masachs és l'actual seu de l'Ajuntament.



Proposta d'estiu 2025-2026



Monument al col·lectiu LGTBI

Tipologia: Patrimoni moble » Element urbà
Localització: Espai urbà general de Ripollet
Interès: Primer monument d'Espanya dedicat als activistes LGTBI.



Biblioteca

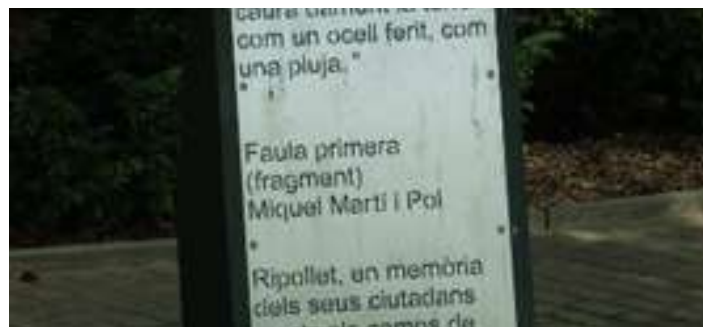
Tipologia: Patrimoni immoble
Localització: Carretera Estació, s/n
Descripció: Tancada del 3 al 22 d'agost.



Font: El 9 nº143

Carrer Calvari

Tipologia: Patrimoni immoble
Localització: Actual carrer Calvari
Descripció: Carrer més antic de Ripollet (s.XVIII-XIX).



Monument represaliats nazis

Tipologia: Patrimoni moble » Element urbà
Localització: c.Balmes, 4
Interès: Monument als ciutadans de Ripollet morts als camps de concentració nazi.



Església Sant Esteve

Tipologia: Patrimoni immoble
Localització: Casc antic Ripollet
Descripció: L'actual església va ser bastida sobre una antiga basílica romànica



Auditori/Teatre Vell

Tipologia: Patrimoni immoble
Localització: Pz. Onze de setembre
Descripció: El Teatre Auditori del Mercat Vell està situat a l'edifici de l'antic Mercat Municipal d'Aliments de Ripollet, construït durant la Segona República.



Proposta d'estiu 2025-2026



Monument a Anselm Clavé

Tipologia: Patrimoni moble

Localització: Plaça d'en Clos

Descripció: Dedicat al fundador del moviment coral a Catalunya.



Molí de vent

Tipologia: Patrimoni moble » Element urbà

Localització: Plaça Pere Quart

Descripció: Antic molí de vent amb una roda metàl·lica i un ventall per controlar la seva orientació cap al vent.



Monument a Neus Català

Tipologia: Patrimoni moble » Element urbà

Localització: A la cruïlla de la rambla dels Pinetons amb Maria Torras.

Descripció: Neus Català supervivent camp concentració nazi.

Rambla de les Vinyes

Tipologia: Patrimoni moble » Element urbà

Localització: Plaça Josep Maria Brull,

Descripció: Representa la festa de Sant Antoni Abat s'escau el 17 de gener.



Centre d'interpretació d'en Molí d'en Rata

Tipologia: Patrimoni immoble

Localització: Nucli urbà de Ripollet

Interès: Antic molí fariner hidràulic

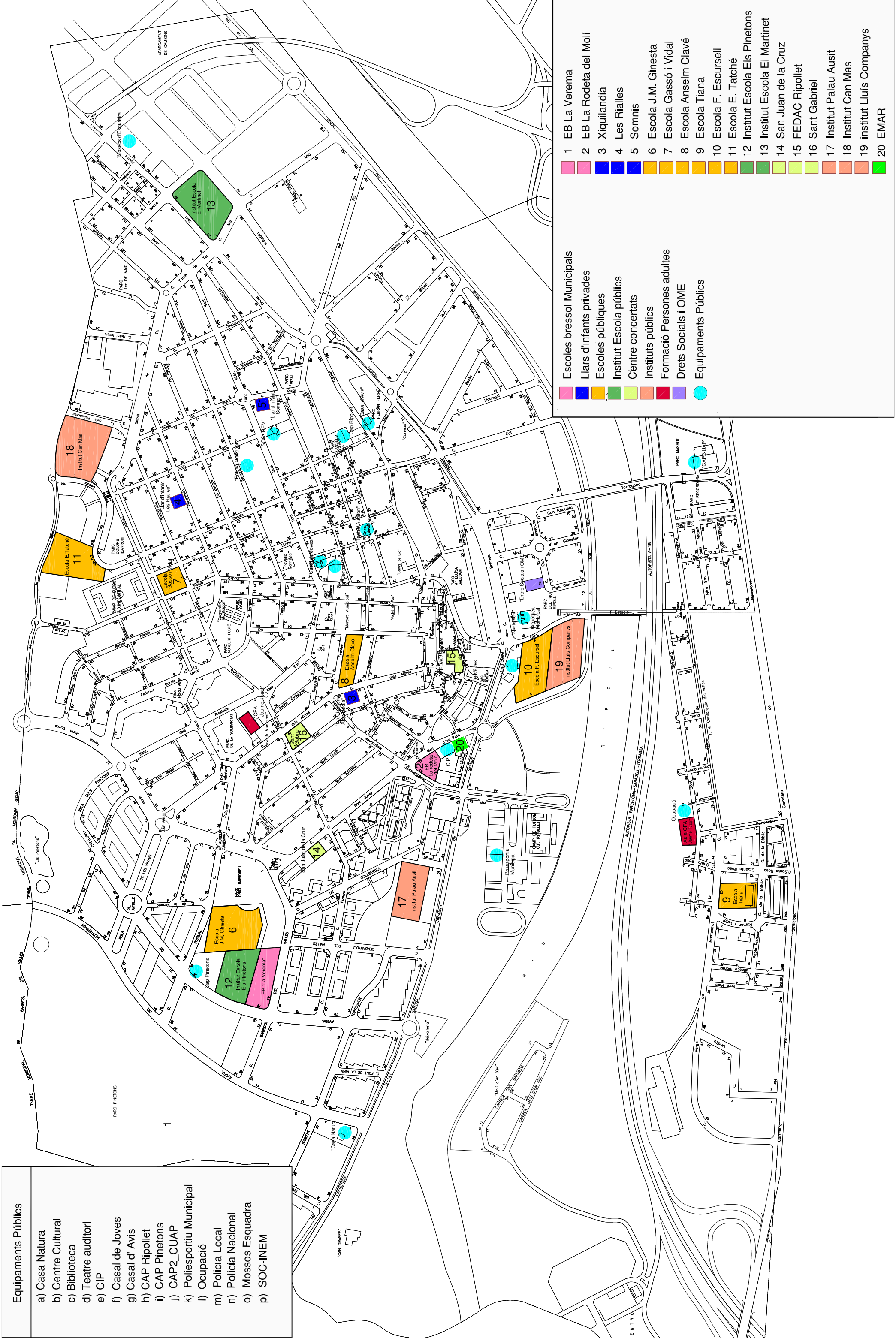
Parc dels Pinetons

Tipologia: Patrimoni natural » Zona d'interès

Localització: Zona dels Pinetons

Interès: Espai natural fonamental per a la biodiversitat local i el lleure.

Equipaments Públics	
a) Casa Natura	
b) Centre Cultural	
c) Biblioteca	
d) Teatre auditori	
e) CIP	
f) Casal de Joves	
g) Casal d' Avis	
h) CAP Ripollet	
i) CAP Pinetons	
j) CAP2_CUAP	
k) Poliesportiu Municipal	
l) Ocupació	
m) Policia Local	
n) Policia Nacional	
o) Mossos Esquadra	
p) SOC-INEM	



Equipaments Públics	
Escoles bressol Municipals	
Llars d'infants privades	
Escoles públiques	
Institut-Escola públics	
Centre concertats	
Instituts públics	
Formació Persones adultes	
Drets Socials i OME	
Equipaments Públics	

1 EB La Verema
2 EB La Rodeta del Molí
3 Xiquilandia
4 Les Rialles
5 Somnis
6 Escola J.M. Ginesta
7 Escola Gassó i Vidal
8 Escola Anselm Clavé
9 Escola Tiana
10 Escola F. Escursell
11 Escola E. Tatché
12 Institut Escola Els Pinetons
13 Institut Escola El Martinet
14 San Juan de la Cruz
15 FEDAC Ripollet
16 Sant Gabriel
17 Institut Palau Ausit
18 Institut Can Mas
19 Institut Lluís Companys
20 EMAR