

TASQUES ACADÈMIQUES DURANT EL PERIODE DE CONFINAMENT

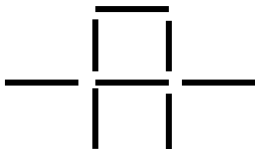
MATÈRIA:	MATEMÀTIQUES.		
CURS:	A30.	Professora:	Dolors Iglesias i Puig.

Com podeu veure a l'altre document no surt dibuixat el següent:

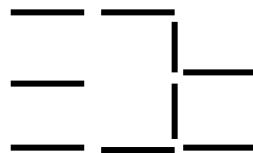
- **ATENCIÓ SOSTINGUDA: ORDRE D'ELEMENTS.**

ENUNCIAT: A partir de les **figures** que veus has de dibuixar el que se't demana canviant de posició els **palotes** que t'indiquen:

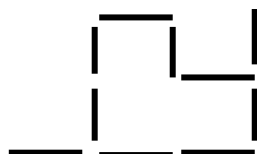
Dibuixa 2 quadrats canviant 2 **palotes** de posició:



Dibuixa 2 quadrats canviant 3 **palotes** de posició:



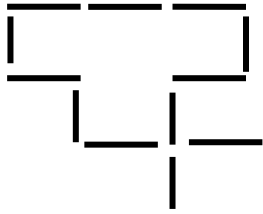
Dibuixa 3 quadrats canviant 2 **palotes** de posició.



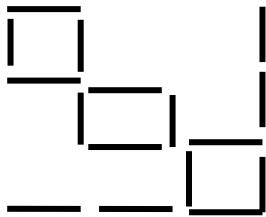


TASQUES ACADÈMIQUES DURANT EL PERIODE DE CONFINAMENT

Dibuixa 4 quadrats canviant 3 **palotes** de posició.



Dibuixa 4 quadrats canviant 4 **palotes** de posició.



ARA ET TOCA A TÚ!!! Has de fer l'enunciat de les **FIGURES**, un **EXEMPLE** (vuit) i al seu costat el mateix exemple; però amb la seva solució.

ENUNCIAT:



TASQUES ACADÈMIQUES DURANT EL PERIODE DE CONFINAMENT

Observacions: