

1 Escribe el nombre que falta a cada multiplicació:

$..... \times 100 = 700$

$5 \times = 4.000$

$..... \times 1.000 = 12.000$

$..... \times 600 = 4.200$

$9 \times = 450$

$..... \times 10 = 280$

2 Fes aquestes multiplicacions:

$$\begin{array}{r} 248 \\ \times 6 \\ \hline \end{array}$$

.....

$$\begin{array}{r} 571 \\ \times 4 \\ \hline \end{array}$$

.....

$$\begin{array}{r} 1.693 \\ \times 2 \\ \hline \end{array}$$

.....

$$\begin{array}{r} 894 \\ \times 5 \\ \hline \end{array}$$

.....

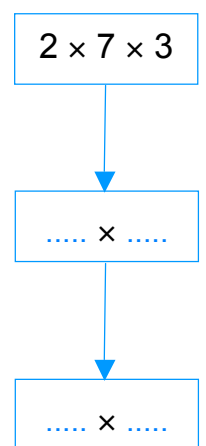
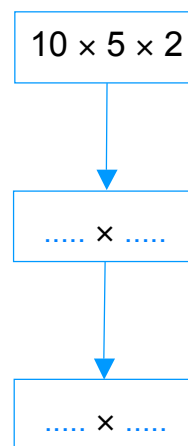
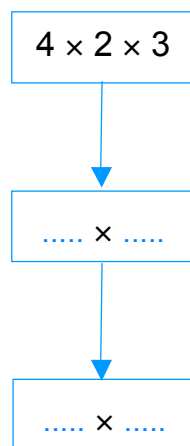
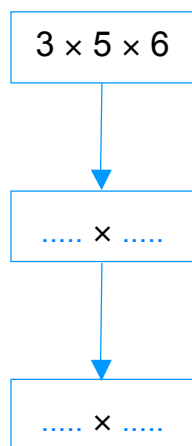
$$\begin{array}{r} 657 \\ \times 3 \\ \hline \end{array}$$

.....

$$\begin{array}{r} 731 \\ \times 7 \\ \hline \end{array}$$

.....

3 Tria l'ordre que trobis més convenient i resol:



4 Calcula aquestes multiplicacions:

$$\begin{array}{r} 280 \\ \times 15 \\ \hline \end{array}$$

$$\begin{array}{r} 51 \\ \times 34 \\ \hline \end{array}$$

$$\begin{array}{r} 703 \\ \times 14 \\ \hline \end{array}$$

$$\begin{array}{r} 98 \\ \times 11 \\ \hline \end{array}$$

$$\begin{array}{r} 452 \\ \times 27 \\ \hline \end{array}$$

$$\begin{array}{r} 17 \\ \times 84 \\ \hline \end{array}$$

5 Un cotxe recorre 127 km en una hora. Quina distància recorrerà en 4 hores?

Resposta:

6 Quants ous són 8 dotzenes d'ous?

Resposta:

7 En una botiga hi ha 72 capsos, i cada una conté 23 llapis de colors. Quants llapis de colors hi ha en total?

Resposta:

8 Un dia té 24 hores. Quantes hores té un mes? I un any?

Resposta:

PROBLEMES:

1. Anna té 80 cèntims. Si es compra 3 xiclets de 15 cèntims, quants diners li quedaran?

<u>PREGUNTA:</u>	
<u>DADES:</u>	<u>OPERACIONS:</u>
<u>RESPOSTA:</u>	

2. En un aparcament hi havia 155 cotxes. Durant el dia han entrat 32 i han sortit 48 cotxes. Quants cotxes queden a l'aparcament al final del dia?

<u>PREGUNTA:</u>	
<u>DADES:</u>	<u>OPERACIONS:</u>
<u>RESPOSTA:</u>	

CÀLCUL:

$$5899 + 7058 + 2897 = \quad 6473 + 9442 + 7575 = \quad 4404 + 7933 + 620 =$$

$$+ \quad \quad \quad + \quad \quad \quad +$$

$$9057 - 4166 =$$

$$4761 - 1385 =$$

$$7646 - 3222 =$$

$$- \quad \quad \quad - \quad \quad \quad -$$
