

## Unitat 1. Nombres de fins a cinc xifres

Nom: \_\_\_\_\_ Curs: \_\_\_\_\_ Data: \_\_\_\_\_

### Continguts previs

#### 1. Relaciona amb fletxes.

dos-cents setanta-quatre

950

tres-cents dotze

406


quatre-cents sis

274

nou-cents cinquanta


312

#### 2. Pinta de verd les centenes, de vermell les desenes i de blau les unitats. Després, completa.



C,  D i  U


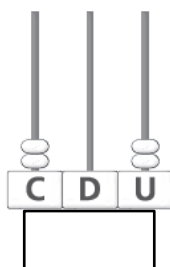

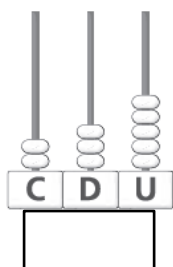
$$\boxed{\phantom{00}} + \boxed{\phantom{00}} + \boxed{\phantom{00}} = \boxed{\phantom{000}}$$



C,  D i  U

$$\boxed{\phantom{00}} + \boxed{\phantom{00}} + \boxed{\phantom{00}} = \boxed{\phantom{000}}$$

3. Completa els àbacs o escriu el nombre a sota segons correspongui.



**Nombres de quatre xifres**

**4. Descompon aquests nombres i escriu-los com es llegeixen. Per fer-ho, fixa't en l'exemple.**

4 183 → 4 UM + 1 C + 8 D + 3 U  
4 000 + 100 + 80 + 3  
quatre mil cent vuitanta-tres

1 256 → \_\_\_\_\_  
\_\_\_\_\_

3 509 → \_\_\_\_\_  
\_\_\_\_\_

8 001 → \_\_\_\_\_  
\_\_\_\_\_

**Nombres de cinc xifres**

**5. Completa la taula següent.**

	DM	UM	C	D	U	Descomposició	Es llegeix
30 005							
						20 000 + 500 + 40	
							noranta mil seixanta
	4	5	0	8	1		

**6. Pinta del mateix color els requadres que representin el mateix nombre.**

34 306

4 DM + 8 U

40 800

8 DM + 9 UM + 5 C + 4 D + 6 U

89 546

3 DM + 4 UM + 3 D + 6 U

34 036

4 DM + 8 C

40 008

3 DM + 4 UM + 3 C + 6 U

**Comparació i ordenació de nombres**

**7. Ordena aquests nombres de més petit a més gran. Després, escriu les paraules que acompanyen cada nombre per desxifrar el missatge ocult.**

444	267	369	432	358
amics.	A	tots	som	classe,

\_\_\_\_\_ < \_\_\_\_\_ < \_\_\_\_\_ < \_\_\_\_\_

Missatge: \_\_\_\_\_

**8. Aquests són els nombres que han donat a cadascun dels participants d'un concurs de càlcul. Llegeix les oracions i escriu V o F segons que siguin veritables o falses.**

Andreu	Jana	Teo	Laia	Aina	Rosa	Joan
23567	87356	98234	5987	87401	2367	32789

El nombre del Teo és el més gran de tots.

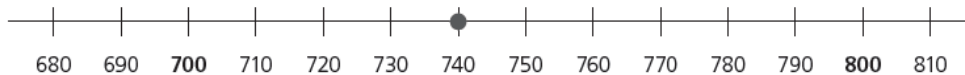
El nombre de l'Aina és més petit que el de la Jana.

El nombre de la Rosa és el més petit de tots.

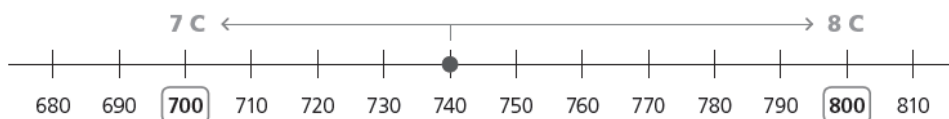
**Arrodoniment de nombres a les centenes**

**9. El Víctor ha esbrinat quina és la centena més pròxima a 740 seguint aquests passos.**

- Primer, ha representat el nombre a la recta.



- Després, ha observat entre quines centenes es troba i ha vist quina és la més propera.



• Llegeix les afirmacions del Víctor. Després, marca les que siguin falses i corregeix-les.

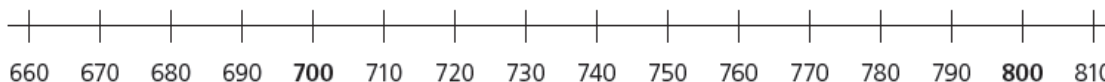
El nombre 740 és entre les centenes 800 i 900.

El nombre 740 és més gran que 700.

La centena més pròxima a 740 és 800.

**10. Una associació ha distribuït aproximadament 800 kg d'aliments com a ajuda humanitària. Quina d'aquestes quantitats s'aproxima més a aquesta dada? Ajuda't de la recta i pinta aquesta quantitat.**

710 kg      780 kg      670 kg      750 kg



**Nombres ordinals**

**11. Uneix cada nombre ordinal amb el gira-sol corresponent.**


cinquè

desè

segon

vuitè

sisè



primer

novè

quart

tercer

setè

12. Escriu com es llegeix l'ordinal que porta cada ovella.



\_\_\_\_\_



\_\_\_\_\_



\_\_\_\_\_



\_\_\_\_\_



\_\_\_\_\_



\_\_\_\_\_



\_\_\_\_\_



\_\_\_\_\_



\_\_\_\_\_



\_\_\_\_\_



**Nombres romans**

**13. Uneix amb fletxes cada nombre amb el nombre romà corresponent.**

- |     |   |   |         |
|-----|---|---|---------|
| 1   | • | • | CCLXV   |
| 132 | • | • | XXXVIII |
| 265 | • | • | MCXXXII |
| 38  | • | • | DCCXXIX |
| 729 | • |   |         |

**Cap problema!**

**14. Observa el dibuix, inventa una pregunta i resol-la.**

