



Nom:

data:

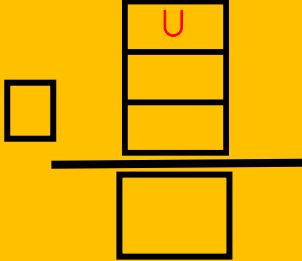
# Resolució de problemes matemàtics

Recorda:

- 1- Llegim el problema i veiem de què tracta.
- 2- Localitzem les dades i quina és la pregunta exacta que ens fan
- 3- Fem l'esquema amb creuetes
- 4- Escrivim l'operació (recorda escriure el signe de l'operació:  $+$  si és suma i  $-$  si és resta.



La mare ha comprat  $(9)$  magdalenes. Si ja ens n'hem menjat  $(5)$ , quantes magdalenes ens queden?

ESQUEMA	OPERACIÓ
<p>Dibuixa les magdalenes que ha comprat la mare i encercla les que ja s'han menjat</p> <div data-bbox="225 1536 756 1883" style="border: 1px solid black; height: 155px; width: 333px;"></div>	

Resposta: Ens queden

magdalenes.