

Matemàtiques

- I com després del 8 ve el 9, farem aquest tema de mates. Com sempre pots esborrar del teu quadern de Zoom el tema 9 i fer els exercicis que més et costaven.

- Perquè t'entrenis jugant al dòmino i guanyar totes les partides que feu a casa, amb els amics o amb els avis, et passo aquest enllaç.

<https://vedoque.com/html5/matematicas/elreydeldomino/>

Nom:

Curs:

1. Escriu en vertical i resol.

$$27 + 2 + 10$$

	D	U
+		

$$71 + 4 + 23$$

	D	U
+		

$$44 + 15 + 20$$

	D	U
+		

2. Completa la sèrie.

80	70
----	----	-------	-------	-------	-------	-------	-------

3. Resta.

$$\begin{array}{r} 79 \\ - 35 \\ \hline \end{array}$$

.....

$$\begin{array}{r} 57 \\ - 24 \\ \hline \end{array}$$

.....

$$\begin{array}{r} 43 \\ - 11 \\ \hline \end{array}$$

.....

4. Tria l'operació i resol.

- A un aparcament hi ha 64 cotxes aparcats i n'hi arriben 12 més. Quants cotxes hi ha ara?


Ara hi ha..... cotxes.

	D	U

Nom:

Curs:

La Marina té 81 cromos de cotxes i avions, i en Miquel en té 78 d'animals.



1. Qui té més cromos?
 - A En Miquel.
 - B La Marina.
 - C Tots dos tenen el mateix nombre de cromos.
2. Quants cromos tenen entre tots dos?
3. Quin és el nombre anterior i posterior de 81?
 - A 79 i 80.
 - B 82 i 83.
 - C 80 i 82.

Nom:

Curs:

4. Suma.

$$\begin{array}{r} 38 \\ + 17 \\ \hline \end{array}$$

.....

$$\begin{array}{r} 29 \\ + 15 \\ \hline \end{array}$$

.....

$$\begin{array}{r} 12 \\ + 28 \\ \hline \end{array}$$

.....


5. Resta.

35 - 10 =


66 - 10 =

87 - 10 =


6. Quants botons hi ha en total?



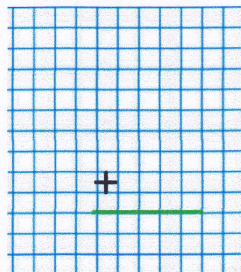
48



37



10



En total hi ha botons.

Nom:

Curs:

7. Encercla el nombre més gran de cada parella.

D	U
8	
7	5

D	U
4	
7	


8. Escriu el valor de les monedes que hi falten.



1 euro i 57 cèntims

9. Escriu les dades i resol el problema.

- Si tinc 67 pines i en regalo 23, quantes me'n quedaran?



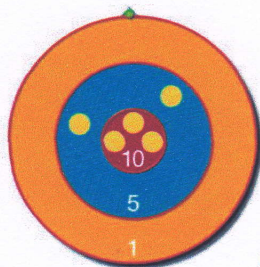
Dades:

Tinc pines.

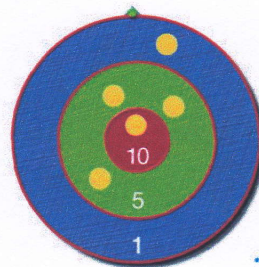
Regalo pines.

Em quedaran pines.

10. Quants punts aconseguix?



.....



.....

