

Matemàtiques

I qui vulgui treure un 10 en mates, haurà de fer bé el tema 10.

TEMA 10

AVALUACIÓ INICIAL

Nom:

Curs:



1. Suma.

$38 + 42$
D U

$57 + 45$
D U

$76 + 18$
D U

2. Relaciona.



3. Tria l'operació i resol.

- Tinc 95 cèntims i compro un bolígraf que val 62 cèntims. Quants cèntims em quedaran?



Em quedaran cèntims.

D U

Nom:

Curs:


Amb un tangram podem construir moltes figures. Per exemple:



1. Quants costats té la peça quadrada?

- A 2.
- B 3.
- C 4.

2. Tinc 55 euros i el tangram val 23 €. Quants euros em sobran?



Em sobran euros.

3. Com s'anomena la peça que té 3 costats?

- A Triangle.
- B Cercle.
- C Rectangle.

Nom:


Curs:

4. Repassa i pinta del color assenyalat.

● frontera

● interior

● exterior





5. Dibuixa.

• Línia poligonal tancada

• Línia corba oberta

6. Quantes galetes hi ha de cada classe?


			total
petites	17	45	
mitjanes	35	11	
grans	9	7	
total			

càlculs

Nom:

Curs:


7. Dibuixa.




triangle



quadrat

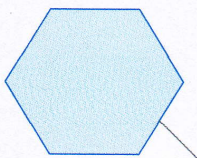


rectangle




cercle

8. Compta i escriu.



..... costats

..... costats



..... costats

9. Encercla els diners que necessites per comprar un llapis.



42 cèntims



10. Encercla la figura simètrica.

