

NOM:

1. Suma i escriu el resultat en lletres:

$100 + 60 + 4 = 164$

Cent seixanta-quatre

$100 + 30 + 8 = \dots\dots$

.....

$100 + 20 + 2 = \dots\dots$

.....

$100 + 50 + 6 = \dots\dots$

.....



$100 + 70 + 9 = \dots\dots$

.....

$100 + 80 + 5 = \dots\dots$

.....



2. Completa:



..... c

..... d




..... u



..... c

..... d



..... u



..... c

..... d

..... u



..... c

..... d

..... u

3. Suma:



.....

+

.....

=

.....



.....

+

.....

=

.....

4. Completa:

+ 5

+ 10

-10

105	110
140	
175	
185	
120	
160	

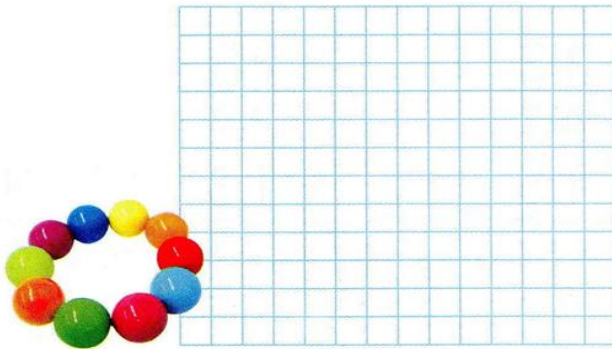
127	137
156	
171	
189	
120	
148	

121	111
158	
114	
137	
197	
150	

## 5. Tria l'operació i resol:

- L'Anna necessita 45 boletes per fer un collar, però només en té 31. Quantes boletes li falten?


Operació:



Solució: .....

- En Jaume fa una col·lecció de 79 cromos. Només n'hi falten 17 per acabar-la. Quants cromos té?


Operació:



Solució: .....

- La Meritxell té 45 euros. N'hi falten 21 per poder comprar la flauta. Quant val la flauta?

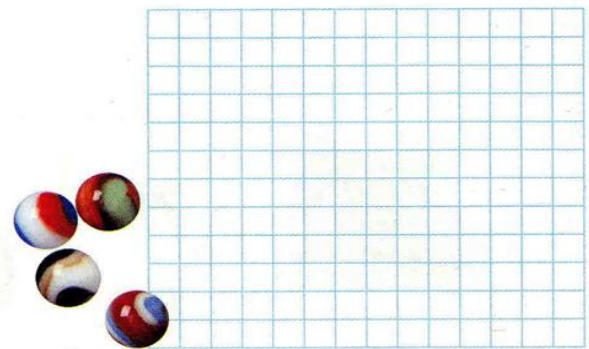
Operació:



Solució: .....

- L'Andreu té 85 bales. A en Lluís n'hi falten 15 per tenir-ne tantes com l'Andreu. Quantes bales té en Lluís?

Operació:



Solució: .....



Uneix els punts. El dibuix que et surti l'has de pintar amb les diferents tècniques que hem utilitzats a la classe d'ambients artístics.