

## Matemàtiques

- Practica els nombres fins el 100 i les desenes en aquest enllaç:
- [http://www.edu365.cat/primaria/matematiques/escenaris/granja/index\\_pract4.html](http://www.edu365.cat/primaria/matematiques/escenaris/granja/index_pract4.html)
- Repassarem el tema 7 de mates amb els exercicis d'aquí abaix. També pots agafar el teu quadern, esborrar el llapis de tema 7 i fer els exercicis que més et costin.

Nom: .....

Curs: .....

1. Suma.

$$\begin{array}{r} 27 \\ + 32 \\ \hline \end{array}$$

$$\begin{array}{r} 43 \\ + 15 \\ \hline \end{array}$$

$$\begin{array}{r} 17 \\ + 22 \\ \hline \end{array}$$

$$\begin{array}{r} 54 \\ + 31 \\ \hline \end{array}$$

2. Resta.

$$\begin{array}{r} 48 \\ - 6 \\ \hline \end{array}$$

$$\begin{array}{r} 37 \\ - 5 \\ \hline \end{array}$$

$$\begin{array}{r} 49 \\ - 3 \\ \hline \end{array}$$

$$\begin{array}{r} 25 \\ - 2 \\ \hline \end{array}$$

3. Encercla el nombre més gran de cada parella.

31 34

49 39

24 38

40 39

17 16

25 33

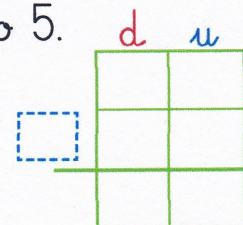
42 24

10 30

4. Tria l'operació i resol.

En una caixa hi ha 29 pilotes i n'agafa 5.  
Quantes pilotes hi ha ara?


En total tenen ..... pilotes.




Nom: .....


Curs: .....

1. Resta.

$$\begin{array}{r} 49 \\ - 15 \\ \hline \dots \end{array}$$


$$\begin{array}{r} 27 \\ - 22 \\ \hline \dots \end{array}$$



2. Compta desenes i unitats, i escriu el nombre.



..... desenes i ..... unitats

.....

d	u



..... desenes i ..... unitats

.....

d	u

3. Resta.

$$\begin{array}{r} 68 \\ - 4 \\ \hline \dots \end{array}$$

$$\begin{array}{r} 35 \\ - 4 \\ \hline \dots \end{array}$$

$$\begin{array}{r} 56 \\ - 35 \\ \hline \dots \end{array}$$

$$\begin{array}{r} 59 \\ - 23 \\ \hline \dots \end{array}$$

4. Escriu el nombre que hi falta.

$13 + \square = 15$

$6 + \square = 10$

$\square + 15 = 18$

$36 = \square + 6$

$40 = 30 + \square$

$55 = 50 + \square$

Nom: .....

Curs: .....


5. Suma tres nombres d'una xifra.

$$\begin{array}{r} 7 \\ 5 \\ + 2 \\ \hline \dots \end{array}$$

$$\begin{array}{r} 9 \\ 1 \\ + 7 \\ \hline \dots \end{array}$$

$$\begin{array}{r} 6 \\ 3 \\ + 4 \\ \hline \dots \end{array}$$

6. Obtenim informació d'una imatge.



Quant gasto si compro



	d	u
<input type="text"/>	<input type="text"/>	<input type="text"/>
<input type="text"/>	<input type="text"/>	<input type="text"/>
<input type="text"/>	<input type="text"/>	<input type="text"/>


Gasto ..... euros.



	d	u
<input type="text"/>	<input type="text"/>	<input type="text"/>
<input type="text"/>	<input type="text"/>	<input type="text"/>
<input type="text"/>	<input type="text"/>	<input type="text"/>

Gasto ..... euros.

7. Encercla la peça que falta al puzzle.



Nom: .....

Curs: .....

**8. Tria l'operació i resol.**

Hi havia 57 pastanagues i n'agafen 36.  
Quantes pastanagues queden?



	d	u

Queden ..... pastanagues.

**9. Completa la sèrie creixent.**

5	10								
---	----	--	--	--	--	--	--	--	--

**10. Compta i pinta.**



	1	2	3	4	5	6	7	8	9	10
.....										
.....										
.....										
.....										