

Matemàtiques

- L'altre setmana vàrem fer les practiques a La Granja. Aquesta setmana ja estas preparat-da per a realitzar les tasques en aquest enllaç:

http://www.edu365.cat/primaria/matematiques/escenaris/granja/inici_gact3.html

- També et proposo repassar el tema 6 del Zoom de mates. Per això pots esborrar el llapis del teu quadern i tornar a fer els exercicis, en especial, aquells que et costen més. Després fas les fotocòpies d'aquí abaix.

Nom:

Curs:

1. Suma.

$$\begin{array}{r} 4 \\ + 7 \\ \hline \dots \end{array}$$

$$\begin{array}{r} 5 \\ + 3 \\ \hline \dots \end{array}$$

$$\begin{array}{r} 10 \\ + 1 \\ \hline \dots \end{array}$$

$$\begin{array}{r} 17 \\ + 2 \\ \hline \dots \end{array}$$

2. Resta.

$$\begin{array}{r} 10 \\ - 6 \\ \hline \dots \end{array}$$

$$\begin{array}{r} 14 \\ - 4 \\ \hline \dots \end{array}$$

$$\begin{array}{r} 13 \\ - 5 \\ \hline \dots \end{array}$$

$$\begin{array}{r} 19 \\ - 8 \\ \hline \dots \end{array}$$

3. Quants clips mesura?



..... clips




..... clips




..... clips


4. Dibuixa i resol.

L'Anna en té 12 .

Si en regala 3 , quants caramels tindrà l'Anna?




..... =


En tindrà .


Nom:

Curs:

1. Suma i resta.

$$\begin{array}{r} 10 \\ + 40 \\ \hline \dots \end{array}$$


$$\begin{array}{r} 70 \\ - 20 \\ \hline \dots \end{array}$$


$$\begin{array}{r} 20 \\ + 40 \\ \hline \dots \end{array}$$


2. Encercla els que sumen el nombre indicat.

80 20 30 50


60 10 50 40

90 40 20 50

70 40 20 30

3. Ordena de més gran a més petit.

33 29 47 60 45 41



4. Escriu el nombre anterior i el següent.

$$\square \leftarrow 48 \rightarrow \square$$

$$\square \leftarrow 45 \rightarrow \square$$

$$\square \leftarrow 40 \rightarrow \square$$

$$\square \leftarrow 43 \rightarrow \square$$

Nom:

Curs:

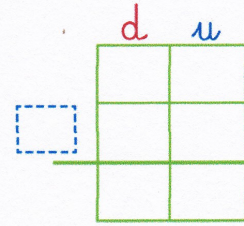
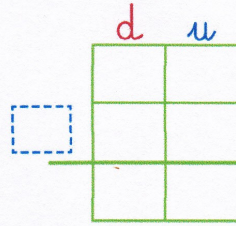
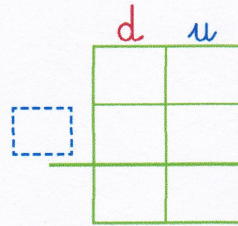
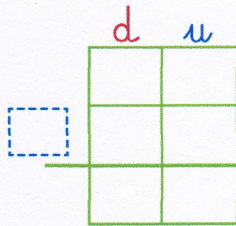
5. Col·loca els nombres i suma.

$15 + 7$

$6 + 42$


$31 + 27$

$11 + 43$



6. Tria l'operació i resol.

En Pere té 7 globus. La Marta té 3 globus més que en Pere. Quants globus té la Marta?



Operació:

..... =

La Marta té globus.

7. Quants euros són?



..... euros.

..... desenes i unitats



..... euros.

..... desenes i unitats

Nom:

Curs:

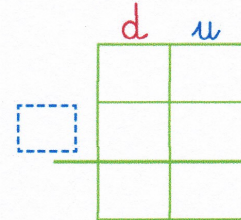
8. Escriu l'operació i resol.

En Pau té 43 bales blaves i

l'Omar 25 bales verdes.

Quantes bales tenen en total?

En total tenen bales.



9. Mesura amb el teu regle.



..... centímetres

..... centímetres

..... centímetres

10. Completa.

L'Anna és la més alta.

En Pere és el més baix.

En Lluís és tan alt com la Loli.

