

Matemàtiques

- Aquesta setmana farem el tema 8. Com sempre et recomano esborrar-lo en el teu quadern de mates, i tornar-lo a fer. Si t'atreveixes pots fer els exercicis directament.
- Perquè entrenis el teu càlcul mental et proposo aquest enllaç. Espero que et diverteixis.

[https://www.vedoque.com/juegos/juego.php?
j=dados](https://www.vedoque.com/juegos/juego.php?j=dados)

Has de fer el nivell 2. Sort!

Nom:

Curs:

1. Escriu en vertical i resol.

$47 - 5$ <div style="display: flex; justify-content: space-around; width: 100px;"> d u </div> <div style="border: 1px solid green; width: 100px; height: 80px; position: relative;"> <div style="border: 1px dashed blue; width: 40px; height: 20px; position: absolute; top: 0; left: 0;"></div> </div>	$65 - 13$ <div style="display: flex; justify-content: space-around; width: 100px;"> d u </div> <div style="border: 1px solid green; width: 100px; height: 80px; position: relative;"> <div style="border: 1px dashed blue; width: 40px; height: 20px; position: absolute; top: 0; left: 0;"></div> </div>	$59 - 28$ <div style="display: flex; justify-content: space-around; width: 100px;"> d u </div> <div style="border: 1px solid green; width: 100px; height: 80px; position: relative;"> <div style="border: 1px dashed blue; width: 40px; height: 20px; position: absolute; top: 0; left: 0;"></div> </div>	$36 - 14$ <div style="display: flex; justify-content: space-around; width: 100px;"> d u </div> <div style="border: 1px solid green; width: 100px; height: 80px; position: relative;"> <div style="border: 1px dashed blue; width: 40px; height: 20px; position: absolute; top: 0; left: 0;"></div> </div>
--	---	---	---

2. Ordena de més gran a més petit.

68 56 17 65 47 61 43 28

>
 >
 >
 >
 >
 >
 >

3. Suma.

$\begin{array}{r} 3 \\ 9 \\ + 5 \\ \hline \end{array}$	$\begin{array}{r} 8 \\ 2 \\ + 4 \\ \hline \end{array}$	$\begin{array}{r} 9 \\ 7 \\ + 7 \\ \hline \end{array}$
--	--	--

4. Tria l'operació i resol.

Tinc 4 globus de color verd i
me'n dones 11 més. Quants en
tinc ara?

Ara tinc globus.

d
u

Nom:

Curs:

1. Ordena de més a menys pesant.













2. Encercla el recipient on cap més aigua i completa les frases.


A la garrafa cap aigua que a l'ampolla.

A la galleda cap aigua que a la garrafa.

A l'ampolla cap aigua que a la galleda.

Nom:

Curs:

3. Ordena de més gran a més petit.

79 45 70 59 69 61 39 78

 > > > > > > >
4. Descobreix i escriu el valor de cada flor.

 +  = 4

 +  = 5


 +  = 8

 +  = 9

**5.** Tria l'operació i resol.

A la capsa hi havia 76 xinxes.

Si n'agafó 23, quantes en quedaran a la capsa?



	d	u
<input type="text"/>	<input type="text"/>	<input type="text"/>
<input type="text"/>	<input type="text"/>	<input type="text"/>
<input type="text"/>	<input type="text"/>	<input type="text"/>

Quedaran xinxes.

Nom:

Curs:

6. Encercla el nombre més gran de cada parella.




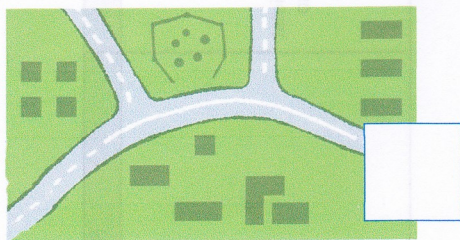

78 68

67 76

30 29

64 74

7. Observa i assenyala.



Nom:

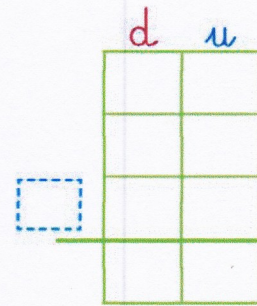
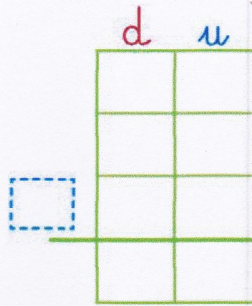
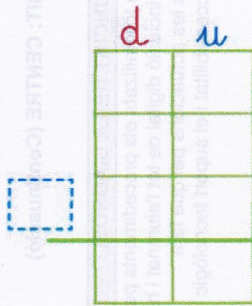
Curs:

8. Suma.

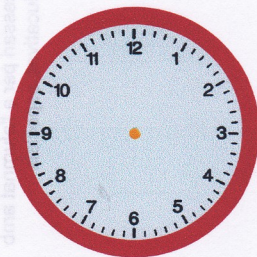
$42 + 35 + 3$

$50 + 6 + 32$

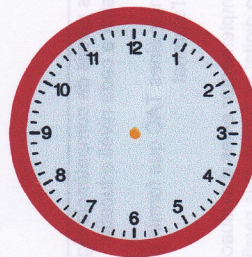
$21 + 54 + 14$



9. Dibuixa les busques.



04:00



09:30

10. Indica el lloc aproximat de cada nombre.

97

73

92

84



