

Desenes i unitats


REFORÇ

1 Fes grups de 10. Després, completa les operacions:




$$\square \text{ desenes} + \square \text{ unitats}$$

$$\square + \square = \square$$




$$\square \text{ desenes} + \square \text{ unitats}$$

$$\square + \square = \square$$




$$\square \text{ desenes} + \square \text{ unitats}$$

$$\square + \square = \square$$



$$\square \text{ desenes} + \square \text{ unitats}$$

$$\square + \square = \square$$



$$\square \text{ desenes} + \square \text{ unitats}$$

$$\square + \square = \square$$

Els nombres fins al 99

1 Afegeix 1 unitat a cada àbac i representa el nombre que en resulta:

1	9	2	
Desenes	Unitats	Desenes	Unitats
19		20	

8	9		
Desenes	Unitats	Desenes	Unitats
<input type="text"/>		<input type="text"/>	

Desenes	Unitats	Desenes	Unitats
<input type="text"/>		<input type="text"/>	

Desenes	Unitats	Desenes	Unitats
<input type="text"/>		<input type="text"/>	

Desenes	Unitats	Desenes	Unitats
<input type="text"/>		<input type="text"/>	

Desenes	Unitats	Desenes	Unitats
<input type="text"/>		<input type="text"/>	

2 Escriu el nombre anterior i el nombre posterior als següents:

29	◀	30	▶	<input type="text"/>
<input type="text"/>	◀	59	▶	<input type="text"/>
<input type="text"/>	◀	20	▶	<input type="text"/>

<input type="text"/>	◀	49	▶	<input type="text"/>
<input type="text"/>	◀	90	▶	<input type="text"/>
<input type="text"/>	◀	79	▶	<input type="text"/>

Sumes sense portar-ne fins al 99

REFORÇ

1 Llegeix els problemes i fes les operacions:

En Pau ha comprat 36 cromos. En seu oncle li ha regalat 53 cromos més.
Quants cromos té en total?


$$\begin{array}{r} \square \\ + \square \\ \hline \square \end{array}$$



► *En total té* _____

La Cèlia ahir va collir 42 bolets. Avui ha collit 25 bolets més. Quants bolets ha collit en total?

$$\begin{array}{r} \square \\ + \square \\ \hline \square \end{array}$$



► *En total* _____

L'Andreu tenia 85 avions. El seu pare n'hi ha donat 13 més.
Quants avions té en total?

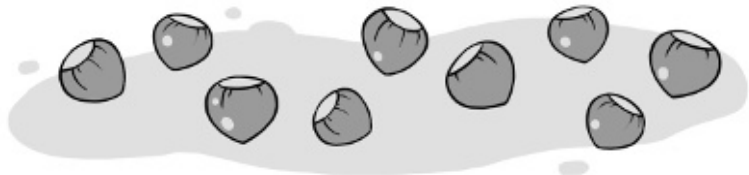
$$\begin{array}{r} \square \\ + \square \\ \hline \square \end{array}$$



► _____

L'Aina ha comprat 64 avellanes. Ha trobat 34 avellanes més.
Quantes avellanes té en total?

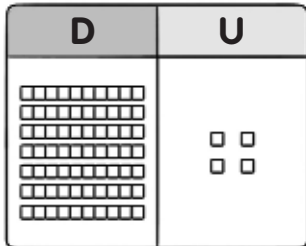
$$\begin{array}{r} \square \\ + \square \\ \hline \square \end{array}$$



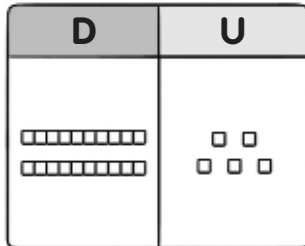
► _____

Comparació de nombres de dues xifres

1 Observa els nombres representats i completa les comparacions:



74



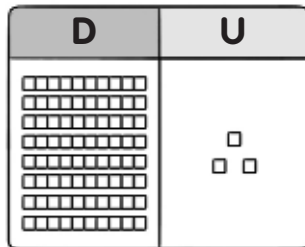
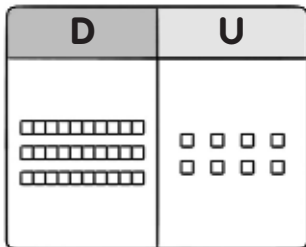
25

és _____ que

>

és _____ que

<




és _____ que

<

és _____ que

>


2 Fixa't en els nombres i completa les comparacions:



67


>

<



>

<



>

<

Sumes de tres nombres sense portar-ne fins al 99

REFORÇ

1 Quants caramels hi ha? Calcula-ho.

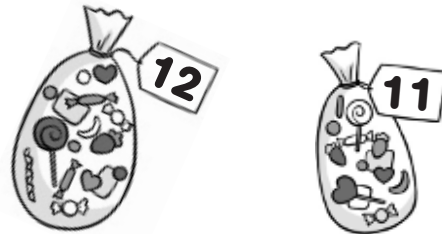


D U

6	42	5
	23	
	+ 31	

	□	

□ + □ + □ = □




D U

2	11	3
	12	
	+ 75	

	□	


□ + □ + □ = □



○	□	○
	□	
○	□	

	□	

□ + □ + □ = □



○	□	○
	□	
○	□	

	□	

□ + □ + □ = □