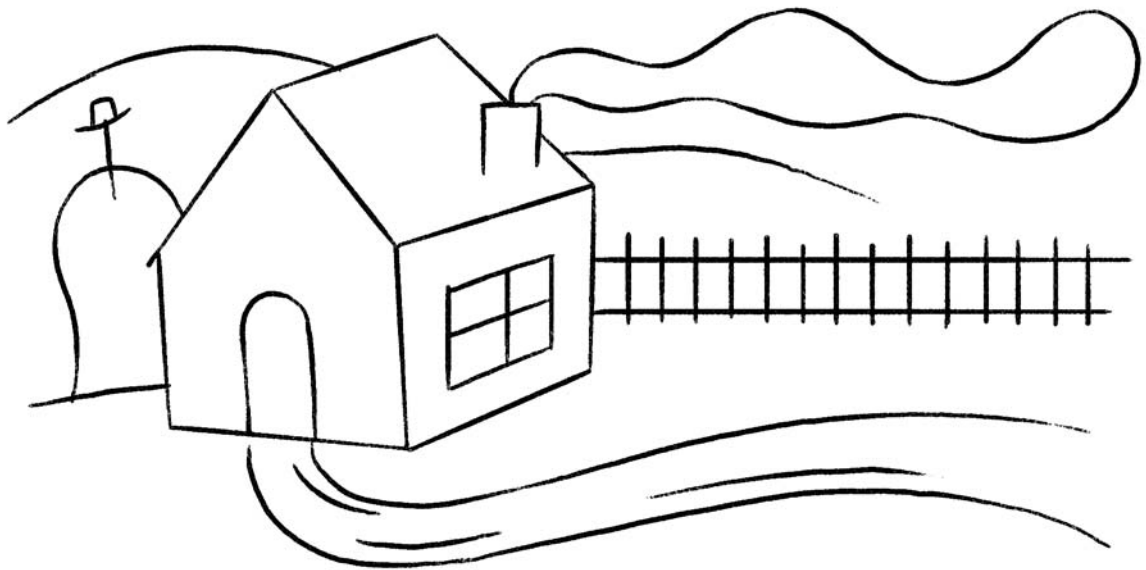


Nom i cognoms: _____

- 1 Ressegueix amb color verd les línies corbes i amb color taronja les línies rectes:



crúilla

- 2 Pinta de vermell l'interior de les línies tancades i de groc les línies obertes:



Nom i cognoms: _____

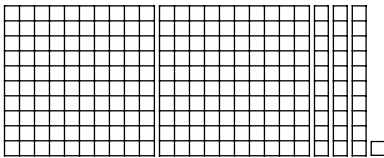
3

Calcula:

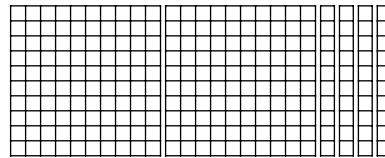
$$\begin{array}{r} 423 \\ + 19 \\ \hline \\ \hline \end{array}$$

$$\begin{array}{r} 222 \\ + 48 \\ \hline \\ \hline \end{array}$$

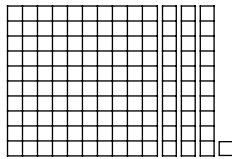
$$\begin{array}{r} 256 \\ + 56 \\ \hline \\ \hline \end{array}$$



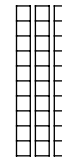
231



240



- 131



- 30

4

Completa la sèrie:

