

Primer curs

Proposta d'activitats setmanals del 4 al 8 de maig.

Català

- Com ja tenim pràctica en repassar lletres, en aquesta setmana li toca el torn a les **b/v**.

Us faré un dictat per whatsapp. Recordeu utilitzar la memòria per a recordar com s'escriuen aquestes lletres.

- Aquesta vegada, en comptes de buscar paraules per casa que tinguin la **b/v**, les buscaràs en contes, llibre, revistes o diaris que tinguis per casa.
- Després pots fer frases divertides o simpàtiques amb les paraules que més t'hagin agradat que tinguin una **b/v**.
- També vull que entris en aquest enllaç i t'entrenis:
<http://www.edu365.cat/primaria/catala/ortografia/cm01.html>
- Et proposo que miris aquest conte i després em diguis què faries tu si tinguessis un barret màgic.

- <https://www.ccma.cat/tv3/super3/una-ma-de-contes/el-barret-magic/video/856589/>

M'ho escrius, ho fotografies i ho envies al meu whatsapp.

Matemàtiques

- Recorda les figures geomètriques com el quadrat, la rodona, el triangle i el rectangle.
Busca objectes per casa i classifica'ls, però ves en compte perquè han de ser plans.
- Després busca els cosos geomètrics corresponents; el cub, la esfera, la piràmide i el prisma.
Busca objectes amb aquestes formes i classifica'ls.
- Voldria que recordessis aquesta avaluació del primer trimestre de matemàtiques.

Nom:

Curs:

1. Completa les línies.


oberta



tancada



2. Dibuixa les palmeres i la taula en la seva posició al plànol.




3. A quina mà té la bola?

A. A la dreta.

B. A l'esquerra.



4. Completa.



..... desena i unitats

..... + =



..... desena i unitats

..... + =

Nom:

Curs:

5. Completa les sèries.

| | | | | | | | |
|----|----|----|--|--|--|--|--|
| 12 | 14 | 16 | | | | | |
|----|----|----|--|--|--|--|--|

| | | | | | | | |
|----|----|----|--|--|--|--|--|
| 25 | 23 | 21 | | | | | |
|----|----|----|--|--|--|--|--|

6. Suma i resta.

$$\begin{array}{r} 15 \\ + 9 \\ \hline \dots\dots \end{array}$$

$$\begin{array}{r} 17 \\ + 6 \\ \hline \dots\dots \end{array}$$

$$\begin{array}{r} 19 \\ - 4 \\ \hline \dots\dots \end{array}$$

$$\begin{array}{r} 16 \\ - 2 \\ \hline \dots\dots \end{array}$$

7. Dibuixa i resol.

A l'armari hi ha

10  .

Si compro 6 

quants n'hi haurà en total?

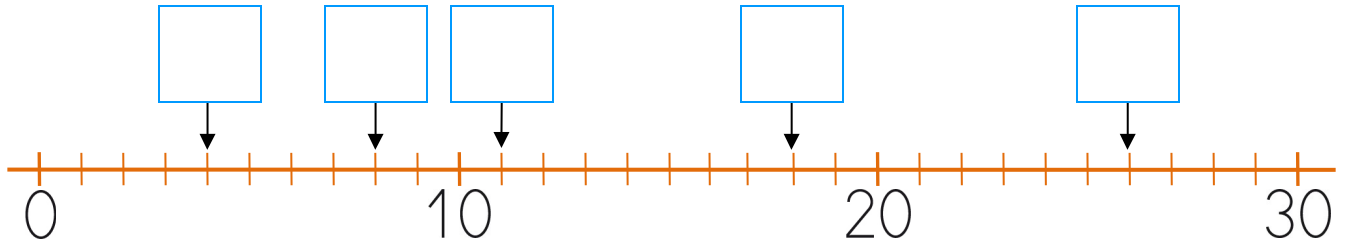
..... =

En total hi ha 

Nom:

Curs:

8. Escriu-hi els nombres.



9. Escriu els nombres ordinals.

Ona

.....

Pau


.....

Laia

.....

Biel

.....



10. Resol.

Hi ha 17 cotxes i se'n van 9.
quants en queden?



..... =

Queden cotxes.

Medi

- En la propera sortida que facis fixa't que han arribat les orenetes; aquests ocells negres amb panxa blanca, que no paren de cridar i tenen forma d'avions. Investiga per internet i enviem un missatge de veu al whatsapp de 'Les papallones' amb el que més t'ha sorprès del què has après.

Valors

- Mira el conte d'En piulet en aquest enllaç i diguem quines coses que veu no li agraden. <http://www.edu365.cat/primaria/contes/contesweb/piulet/index.htm>
També m'agradaria que t'animessis a fer les activitats del conte.

Plàstica

- Aquests dies que sortiu al carrer i una mica al camp, segur que heu pogut gaudir del vent i el seu contacte tant agradable amb el cos, sobretot, quan no és massa fort.

El Isidro, el Joan i jo mateix us proposem fer un molinet de vent i a veure qui aconsegueix fer-lo rodar.

<https://www.youtube.com/watch?v=tHzBjhxQhrwg>

- Malgrat que us proposem aquest enllaç, també podeu utilitzar altres tècniques.
- Vinga, a veure qui envia al whatsapp de 'Les papallones', algunes gravacions amb el molinet girant.

Molts ànims, ho esteu fent molt bé, feu cas als pares, organitzeu-vos i no deixeu de fer les tasques.

Us estimo molt, mil petons i abraçades!