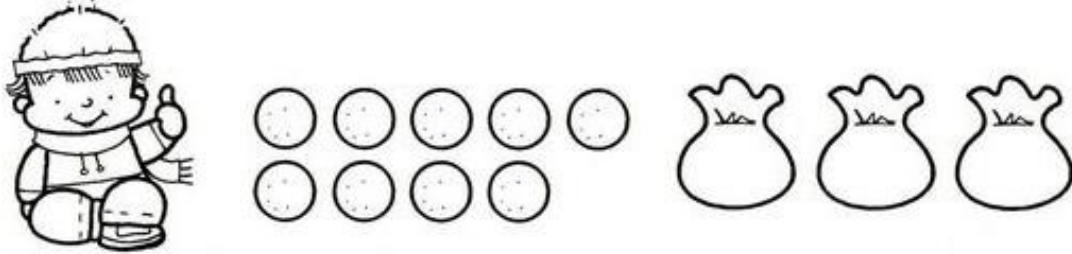



RESOLEM:

1. Marc te 9 boles i vol posar, en cada bossa, la mateixa quantitat de boletes. Quantes boletes ha de col·locar en cada bossa?




Resposta: _____

2. Aquest germans volen repartir la mateixa quantitat de caramels per cadascun. Si en total tenen 14 caramels, quants li toquen a cadascun?



Resposta: _____

3. Claudia vol repartir aquestes galetes entre els 4 pots, quants ha de posar en cadascun?



Resposta: _____