

## ELS DOBLES



- Si sabem **els dobles** sabrem fer les sumes més ràpidament.

$1+1=$

$2+2=$

$3+3=$

$4+4=$

$5+5=$

$6+6=$


$7+7=$

$8+8=$

$9+9=$

$10+10=$

- Si sabem que...  $5 + 5 = 10$  també sabrem que  $5 + 6 = 11$



Perquè només  
sumem un més.

- Ara fes aquestes sumes amb el cap:

$3+4=$

$6+7=$

$7+8=$

$2+3=$

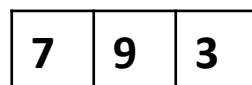
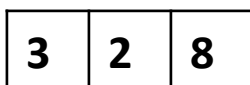

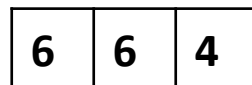
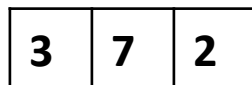
$1+2=$

$5+6=$

$9+10=$

$10+11=$

- Primer busca la parella que suma 10 i després fas la suma



## MITJANS DE TRANSPORT

Recordes el vídeo dels mitjans de transports de la setmana passada? Torna'l a mirar i així ho repasses.

- Busca en la sopa de lletres noms de mitjans de transports.

- Classifica'ls en  
Públics i en privats.  
Fes dues llistes.



|   |   |   |   |   |   |   |   |
|---|---|---|---|---|---|---|---|
| A | D | F | G | J | B | E | P |
| M | E | T | R | O | I | D | A |
| X | X | Z | I | L | C | S | T |
| M | O | T | O | B | I | T | I |
| R | T | N | I | B | C | G | N |
| C | A | M | I | O | L | H | E |
| D | A | S | D | D | E | J | T |
| F | G | U | P | F | T | L | V |
| S | I | I | L | I | A | O | P |
| C | O | T | X | E | I | O | P |
| X | A | U | T | O | B | U | S |

- Veritat o mentida?

1-Els trens, camions i vaixells  
nomes poden transportar  
persones.

2-Els trens, camions i vaixells  
poden transportar persones i mercaderies.

3-El cotxe o la bicicleta són mitjans  
individuals, perquè traslladen poques persones.

4-L'autobús o el tren són col·lectius perquè traslladen  
molta gent

## PLÀSTICA

MIREU QUÈ XULO!  
INTENTEU FER UN UNICORN COM AQUESTS,  
SEMBLANTS O  
COM VOSALTRES VULGUEU.

