

LLENGUA CATALANA

Hola nens i nenes, us enviem molts ànims per començar aquesta setmana!

Avui a català us proposem que sigueu una mica **CREATIUS**. Llegiu amb molta atenció:

- Continua la història que et plantejem a continuació:

L'ARAMARI MÀGIC


Imagina que ahir quan vas obrir el teu armari per a vestir-te, vas descobrir que era màgic i que podies viatjar al lloc i veure a la persona que tu volguessis. Només pensant una mica...abans d'obrir-lo! On aniries? Li explicaries a algú? A qui t'agradaria veure?

- Quan acabis d'escriure **fes un dibuix** del lloc on t'has imaginat que podies viatjar. Recoda que el dibuix cal que estigui pintat.



RECORDA QUE...

- Cal que facis bona lletra
- Cal utilitzar signes de puntuació



- Ara ens posarem una mica a prova amb **L'ORTOGRAFIA:**

FIXA'T

Fes atenció als canvis següents:

-ca → -ques -ga → -gues

- Escribeu el nom de la imatge i després fes el **PLURAL** de la paraula que has escrit:



- Prepara't aquest **DICTAT** i dir-li a algú de la teva família que te'l faci. Després fixa't molt bé en aquelles paraules on t'hagis equivocat i fes-ne una frase.

- Les meves amigues van collir unes espigues de blat.
- Unes formigues s'han enfilat per les branques de la figuera i es passegen per les figues.
- Les barques són a prop de les roques.
- Hem comprat poques coques.



MATEMÀTIQUES

Avui a matemàtiques continuarem repassant els **COSSOS**






RODONS:



- Ratlla els cossos que **NO** siguin rodons.
- Encercla de **color vermell** els que s'assemblen a un **CILINDRE**, de **color blau** els que s'assemblen a un **CON** i de **color verd** els que s'assemblen a una **ESFERA**.
- Agafa la plastilina i prova de construir un cilindre, un con i una esfera. Amb un fil talla els cossos per la meitat de dalt a baix. Quines **FIGURES PLANES** s'obtenen en tallar-los? Dibuixa-les.



- Copia una taula com aquesta a la llibreta i completa-la:

					
superfícies planes	6	<input type="text"/>	<input type="text"/>	<input type="text"/>	<input type="text"/>
superfícies corbes	0	<input type="text"/>	<input type="text"/>	<input type="text"/>	<input type="text"/>
vèrtexs	8	<input type="text"/>	<input type="text"/>	<input type="text"/>	<input type="text"/>
forma de la base	<input type="text"/>	<input type="text"/>	<input type="text"/>	<input type="text"/>	<input type="text"/>

- Ara us proposem una mica de **CÀLCUL MENTAL**. Recordeu l'estratègia de "**Sumar buscant la desena sencera**"?

$8 + 2 + 7$
 $\quad \swarrow \quad \swarrow$
 + 7 =

$6 + 3 + 4$
 $\quad \swarrow \quad \swarrow$
 + 3 =



$9 + 5 + 5$
 $\quad \quad \swarrow \quad \swarrow$
 9 + =

$7 + 3 + 8$
 $\quad \swarrow \quad \swarrow$
 + 8 =

- A continuació agrupeu els sumands, per tal d'obtindre les desenes indicades en cada cas:

<p style="background-color: orange; color: white; padding: 2px; display: inline-block;">sumen 20</p> <p>12 + 7 + 8</p> <p>7 + 13 + 6</p> <p>9 + 5 + 15</p> <p>11 + 9 + 4</p> <p>4 + 6 + 14</p>	<p style="background-color: green; color: white; padding: 2px; display: inline-block;">sumen 30</p> <p>24 + 9 + 6</p> <p>4 + 21 + 9</p> <p>2 + 7 + 28</p> <p>22 + 7 + 8</p> <p>25 + 5 + 8</p>	<p style="background-color: red; color: white; padding: 2px; display: inline-block;">sumen 40</p> <p>33 + 7 + 9</p> <p>6 + 2 + 38</p> <p>9 + 35 + 5</p> <p>28 + 12 + 6</p> <p>15 + 9 + 25</p>	<p style="background-color: yellow; padding: 2px; display: inline-block;">sumen 50</p> <p>45 + 7 + 5</p> <p>6 + 42 + 8</p> <p>7 + 2 + 43</p> <p>46 + 25 + 4</p> <p>18 + 32 + 15</p>
--	---	---	---

Esperem les vostres feinetes...Una abraçada enorme, Ana i Oreto.