

# EL TRICICLE

Divendres,  
1 de maig de 2020

Araui,.....



## ELS PRIMERS PASSEJOS

**1** Després d'un mes i mig de confinament, els nens i nenes ja han pogut sortir de casa per passejar una estona; això sí, seguint unes normes. Han d'anar a prop de casa i acompanyats d'un adult,<sup>1</sup> i no poden acostar-se a ningú i no tocar cap objecte. Els nens i nenes s'han esforçat molt durant el confinament. Fins i tot el vicepresident<sup>2</sup> del Govern espanyol els va donar les gràcies. I per això van pensar que també serien capaços<sup>3</sup> de complir aquestes normes quan sortissin a passejar. La majoria les han complert, però és important que ho faci tothom.

Si els contagis de coronavirus continuen baixant, és possible que aviat els avis i àvies també puguin passejar. Molts viuen sols i el confinament a alguns els posa molt tristos. També s'espera que es doni permís per sortir a fer esport individual<sup>4</sup> a l'aire lliure.<sup>5</sup>

**?** Quines normes s'han de complir durant els passejos? | Si tot va bé, qui més podria començar a sortir de casa? | Per què penses que necessitem relacionar-nos amb altres persones?



▲ Un home i un nena passegen per un carrer de Barcelona. Foto: A. García / EFE

**adult:** persona gran.

**vicepresident:** persona que va just per sota del president.

**capaç:** que pot fer una cosa.

**individual:** referit a una sola persona.

**a l'aire lliure:** a fora de qualsevol edifici o espai tancat.

**pressupost:** previsió de com es repartiran els diners d'una empresa o projecte.

**despesa:** diners que es gasten.

**aprovar:** donar per bo.

**prorrogar:** allargar el temps d'una cosa, fer que duri més.

**modificació:** canvi.



## S'APROVEN ELS PRESSUPOSTOS<sup>1</sup> DE CATALUNYA

### La crisi del coronavirus obligarà a fer-hi canvis



Els pressupostos s'anuncien en forma de llei, que indica en què i com es gastaran els diners d'un país durant un any. Per exemple, s'indiquen quants diners es dedicaran a les escoles, les carreteres i els hospitals, entre moltes altres coses. És la manera d'organitzar les despeses.<sup>2</sup>

Quan el Parlament no pot aprovar<sup>3</sup> els pressupostos, aleshores es prorroguen<sup>4</sup> els de l'any anterior. I ja feia dos anys que a Catalunya es treballava amb pressupostos prorrogats. Això pot suposar un problema, ja que les necessitats de la societat poden canviar cada any.

Ara, els pressupostos de Catalunya s'acaben d'aprovar amb els vots a favor de Junts per Catalunya i ERC, l'abstenció de Catalunya En Comú Podem, i els vots en contra de Ciutadans, PSC, PP i CUP. De tota manera, s'ha anunciat que la crisi del coronavirus obligarà a fer-hi modificacions,<sup>5</sup> ja que els serveis sanitaris i moltes empreses i famílies viuen dificultats pel confinament. Així, caldrà establir noves ajudes i recursos per a ells.

**?** Per què a Catalunya hi havia pressupostos prorrogats? | Per què s'hauran de fer canvis als pressupostos que s'han aprovat? | Quines creus que són les despeses més importants en una casa? Per què?



## VOCABULARI

**petrolier:** vaixell per transportar petroli.

**provisional:** que no és definitiu, sinó per un temps.

**buc:** cos d'un vaixell.

**refineria:** fàbrica on es prepara el petroli per convertir-lo en benzina o altres productes.

**cru:** petroli sense refinar.



## PETROLIERS EN ESPERA

S'ha decidit conservar en vaixells el petroli que ara no es ven



La pandèmia del coronavirus ha fet que avui es consumeixi molt menys petroli. A causa del confinament, circulen molts menys cotxes, camions i avions, i també hi ha menys fàbriques que en necessitin per a les seves màquines, perquè n'hi ha moltes d'aturades. Això ha fet que ara s'extregui menys petroli i que hagi baixat de preu.

Però què passa amb el petroli que es preveia gastar i que finalment no s'ha fet servir? Aquest és el problema que han d'afrontar les empreses petrolieres: trobar un lloc on conservar tot aquest petroli, perquè els magatzems ja estan plens. Una de les solucions provisionals ha estat ficar-lo en grans bucs petroliers.

Per aquest motiu, milers de petroliers són al mar amb grans carregaments. Són més dels que hi ha hagut mai abans. Tots esperen trobar un magatzem disponible a terra o una refineria que compri el cru. Mentrestant, mantenir un vaixell ple de petroli al mar costa uns 27.000 euros cada dia.



▲ Petroliers a l'espera de ser descarregats davant de les costes de Califòrnia. Foto: AFP



Per què avui s'utilitza menys petroli que fa uns quants mesos? | Què ha passat amb tot el petroli que hi havia per vendre i que no s'ha fet servir? Quines coses han canviat a casa teva a causa del confinament?



## TROBEN LA MÒMIA D'UNA NOIA EGÍPCIA

És del temps del regnat de Hatshepsut



**arqueòleg:**

persona que estudia restes antigues per saber com vivien les persones en el passat.

**necròpolis:** cementiri d'una època antiga.

**cort:** conjunt de persones que envoltaven un rei o una reina, inclosa la família i els acompanyants.

**aixovar:** conjunt de coses que s'enterren amb una persona quan mor.

**tresorer:** persona que gestiona els diners d'algú o d'alguna entitat.

Uns arqueòlegs espanyols treballen des de fa temps en una necròpolis a l'antiga Tebes, ara Luxor, a Egipte. Els arqueòlegs van descobrir un taüt blanc i, mitjançant la tècnica de raigs X, van veure la mòmia d'una noia d'uns 15 anys, ajaguda de costat, que va viure fa 3.600 anys a la cort de la reina Hatshepsut. L'han trobat amb el seu aixovar.

José Manuel Galán, coordinador del projecte Djehuty, destaca que sorprèn la riquesa de l'aixovar, tenint en compte que es tracta d'una persona jove i amb un taüt més aviat modest. La noia portava dos anells, dues arracades a l'orella esquerra i quatre collarets, un d'ells molt valuós. Una explicació per a aquest aixovar tan ric podria ser que el pare de la noia va ser el tresorer de la reina Hatshepsut.



▲ El sarcòfag de la jove adolescent de Luxor de 3.600 anys d'antiguitat

Segons els investigadors, el taüt va ser abandonat a terra per saquejadors de tombes fa molt de temps. Malgrat tot, l'hi van deixar amb molt de compte i sense obrir.



Què hi havia dins del taüt blanc? | Per què l'aixovar va ser una sorpresa per als arqueòlegs? | Què et sembla la feina dels arqueòlegs?



## GUANYADORS DELS PREMIS PILARÍN BAYÉS



VOCABULARI



Moltíssims nens i nenes de primària han escrit contes per participar en el Premi Pilarín Bayés 2020. Pilarín Bayés és una il·lustradora de Vic que ha dibuixat per a molts contes infantils. L'editorial Mediterrània i l'Obra Social Sant Joan de Déu van pensar en ella per a aquests premis, perquè estima els contes, estima els infants i treballa els valors.

Ja fa 17 anys que se celebra aquest concurs de contes, cada any amb un tema diferent, aquest any la diversitat. Es pot treballar des de molts vessants: a l'aula, a l'escola, a casa, a les ciutats i a diferents països i cultures de tot el món.

Els contes rebuts es classifiquen en cicle inicial, cicle mitjà, cicle superior i educació especial. Per a cada categoria, un jurat format per adults i infants tria 5 contes, que es publiquen en un llibre il·lustrat per Pilarín. El dia de Sant Jordi es van anunciar els guanyadors del 2020 i a final de curs, si és possible, es farà una festa per lliurar els premis als guanyadors.



*Qui és Pilarín Bayés? | Per què la van escollir a ella per representar aquests premis? | T'agrada escriure històries? Per què?*



▲ Pilarín Bayés presenta el premi d'aquest any des del seu estudi <https://bit.ly/2ySkQg0>

**il·lustrador:**  
dibuixant.

**editorial:** empresa que publica llibres o revistes.

**valor:** allò que fa que una cosa o persona sigui preuada, que valgui.

**diversitat:** fet que hi hagi moltes coses o persones molt diferents.

**vessant:** facetes o punt de vista.



## ELS DUBTES SOBRE LA LLIGA DE FUTBOL

**Encara no s'ha decidit què passarà amb la competició**



La pandèmia del coronavirus va aturar la competició de la lliga de futbol. Tot i que alguns dels organitzadors pressionen per reprendre-la, com es farà a Alemanya o Itàlia, el Govern espanyol ha dit que de moment encara no és possible a causa del risc de contagi. Per tant, per si no es pogués reprendre, s'han posat diverses opcions sobre la taula.

Una possibilitat seria cancel·lar la competició, com a Holanda, on no hi haurà campió ni descensos. Però també s'ha parlat de fer campió el primer equip classificat i fer baixar de categoria els que estan a les últimes posicions. Això no ha agradat a molts clubs, que pensen que jugant més partits podrien guanyar posicions.

En altres esports també s'estan prenent decisions com aquestes. Les lligues de waterpolo i de voleibol es van donar per acabades i s'està estudiant què cal fer amb la classificació. La lliga femenina de bàsquet acabarà sense campió, amb dos ascensos i cap descens. Moltes altres competicions esportives estan ajornades i no se sap com acabaran.



*Què pot passar amb la lliga de futbol? | Aquesta temporada, en quins esports la competició no s'acabarà? | En les competicions que s'han cancel·lat, penses que és més just que el primer classificat sigui campió o que no ho sigui ningú? Per què?*



**pressionar:**  
insistir.


**reprendre:** tornar a posar en marxa.

**posar sobre la taula:** considerar com a possible.

**cancel·lar:** suspendre, anul·lar.





















 **JUGUEM!**

Mots encreuats



Enigma matemàtic

Si penses i calcules, trobaràs el valor de cada figura i resoldràs aquest enigma matemàtic.






|  |   |   |   |      |   |
|--|---|---|---|------|---|
|  |  |  |  | → 18 |  |
|  |  |  |  | →    |  |
|  |  |  |  | → 29 |  |
|  |  |  |  | → 25 |  |

↓      ↓      ↓      ↓

25   23        28


Cubs

Troba quin no és el cub del dibuix de l'esquerra.

Laberint

Troba el camí per travessar el laberint.



Escala de nombres

Completa l'escala amb alguns dels nombres de la dreta perquè el resultat de la suma es compleixi.

|   |   |   |   |   |   |   |   |   |   |   |   |       |       |
|---|---|---|---|---|---|---|---|---|---|---|---|-------|-------|
| 5 | 4 | 7 | 8 | 6 |   |   |   |   |   |   |   | 74569 |       |
|   |   |   |   |   |   |   |   |   |   |   |   | 48752 |       |
|   |   |   |   |   |   |   |   |   |   |   |   | 12457 |       |
|   |   |   |   |   |   |   |   |   |   |   |   | 05392 |       |
|   |   |   |   | 2 | 6 | 1 | 7 | 8 |   |   |   |       | 52751 |
|   |   |   |   |   |   |   |   |   |   |   |   | 56871 |       |
|   |   |   |   |   |   |   |   |   |   |   |   | 81348 |       |
|   |   |   |   |   |   |   | 6 | 5 | 9 | 3 | 3 | 65930 |       |
|   |   |   |   |   |   |   |   |   |   |   |   | 25489 |       |
| 6 | 3 | 4 | 7 | 5 | 5 | 8 | 8 | 1 | 0 | 9 | 9 |       |       |

**el tricicle**  
  
 Aprentatge significatiu i vivencial

**el tricicle**  
 Una publicació de:  
 Tracte Comunicació Global  
 Passeig Bertrand, 25, 2a  
 08980 Sant Feliu de Llobregat (BCN)  
 Tel. 619 787 788 - 93 782 45 13  
 eltricicle.cat  
 eltricicle@eltricicle.cat

# EL TRICICLE

Setmanari per a nens i nenes

**Una publicació de:**

Tracte Comunicació Global  
 Passeig Bertrand, 25, 2a  
 08980 Sant Feliu de Llobregat (BCN)  
 Tel. 619 787 788 - 93 782 45 13  
 eltricycle.cat  
 eltricycle@eltricycle.cat



## SOLUCIONS N. 165

### Mots encreuats

B  
 A V I Ó  
 C  
 I  
 M O T O C I C L E T A  
 L  
 C O T X E V A I X E L L  
 A T  
 M I Ó  
 A  
 A U T R E N  
 O B Ú S  
 S  
 G  
 O  
 B  
 U  
 S

### Enigma matemàtic

Ordena les xifres de la dreta a l'escala perquè el resultat de la suma coincideixi amb el total.

|  |  |  |  |   |    |   |  |
|--|--|--|--|---|----|---|--|
|  |  |  |  | → | 18 | 9 |  |
|  |  |  |  | → | 21 | 2 |  |
|  |  |  |  | → | 29 | 6 |  |
|  |  |  |  | → | 25 | 8 |  |


↓     ↓     ↓     ↓  
25   23   18   28

### Cubs

Troba quin no és el cub del dibuix de l'esquerra.

### Laberint

Troba el camí per travessar el laberint.



### Escala de nombres

Completa l'escala amb alguns dels nombres de la dreta perquè el resultat de la suma es compleixi.

|   |   |   |   |   |   |   |   |   |   |       |       |       |       |       |       |       |
|---|---|---|---|---|---|---|---|---|---|-------|-------|-------|-------|-------|-------|-------|
| 5 | 4 | 7 | 8 | 6 |   |   |   |   |   | 74569 |       |       |       |       |       |       |
|   | 8 | 1 | 3 | 4 | 8 |   |   |   |   |       | 48752 |       |       |       |       |       |
|   |   | 5 | 2 | 7 | 5 | 1 |   |   |   |       |       | 12457 |       |       |       |       |
|   |   |   | 2 | 6 | 1 | 7 | 8 |   |   |       |       | 05392 |       |       |       |       |
|   |   |   |   | 0 | 5 | 3 | 9 | 2 |   |       |       |       | 52751 |       |       |       |
|   |   |   |   |   | 4 | 8 | 7 | 5 | 2 |       |       |       |       | 56871 |       |       |
|   |   |   |   |   |   | 6 | 5 | 9 | 3 | 3     |       |       |       |       | 81348 |       |
|   |   |   |   |   |   |   | 7 | 4 | 5 | 6     | 9     |       |       |       |       | 65930 |
|   |   |   |   |   |   |   |   |   |   |       |       |       |       |       |       | 25489 |

+

|   |   |   |   |   |   |   |   |   |   |   |   |
|---|---|---|---|---|---|---|---|---|---|---|---|
| 6 | 3 | 4 | 7 | 5 | 5 | 8 | 8 | 1 | 0 | 9 | 9 |
|---|---|---|---|---|---|---|---|---|---|---|---|