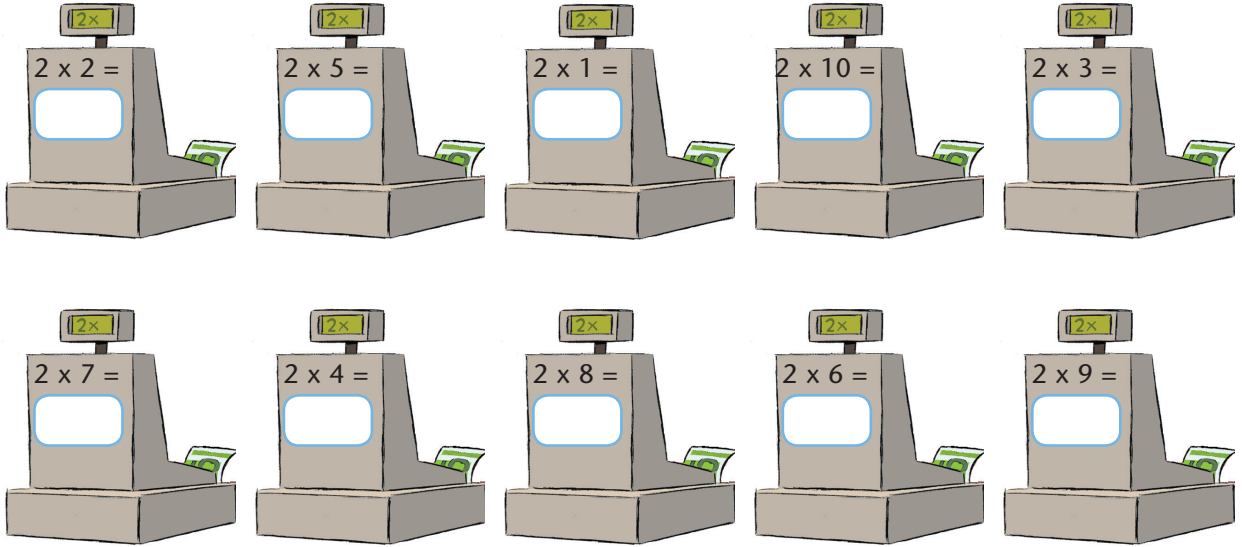


1 Observa i escriu el resultat de cada multiplicació en la caixa corresponent:

18, 2, 14, 8, 20, 16, 4, 12, 6, 10








2 Suma de 2 en 2 i pinta els requadres corresponents:

0	1	2	3	4	5	6	7	8	9
10	11	12	13	14	15	16	17	18	19
20	21	22	23	24	25	26	27	28	29
30	31	32	33	34	35	36	37	38	39
40	41	42	43	44	45	46	47	48	49
50	52	52	53	54	55	56	57	58	59
60	61	62	63	64	65	66	67	68	69
70	71	72	73	74	75	76	77	78	79
80	81	82	83	84	85	86	87	88	89
90	91	92	93	94	95	96	97	98	99

NOM:

3 Compta els rodets i completa la taula:

	2	$2 \times 1 = 2$
	$2 + 2$	
		
		
		

NOM:

4 Completa:

El doble de 30 és

El doble de 45 és

El doble de 12 és

El doble de 300 és

El doble de 90 és

El doble de 78 és

El doble de 89 és

El doble de 400 és

El doble de 100 és

El doble de 15 és

El doble de 200 és

El doble de 25 és

SOLUCIONS

UNITAT 7

1 4, 10, 2, 20, 6
14, 8, 16, 12, 18

2 Han de pintar 6, 8, 10, 12, 14, 16, 18, 20,
22, 24, 26, 28, 30, 32, 34, 36, 38, 40, 42,
44, 46, 48, 50, 52, 54, 56, 58, 60, 62, 64,
66, 68, 70, 72, 74, 76, 78, 80, 82, 84, 86,
88, 90, 92, 94, 96, 98

3 $2 \times 2 = 4$
 $2 + 2 + 2 = 2 \times 3 = 6$
 $2 + 2 + 2 + 2 = 2 \times 4 = 8$
 $2 + 2 + 2 + 2 + 2 = 2 \times 5 = 10$

4 60, 90
24, 600
180, 156
178, 800
200, 30
400, 50