

## PENSAMENT MATEMÀTIC

1. QUINS NOMBRES SÓN ? Tria els que compleixen cada una de les següents condicions:

13 - 38 - 45 - 12 - 47 - 39 - 2 - 1

- a) És menor que 15 o acaba en 2.

- b) És menor que 15 i acaba en 2.

- c) És major que 37 o menor que 40.

- d) És menor que 37 i menor que 40.









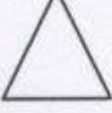
- e) És menor que 35 o acaba en 8.

- f) És major que 38 o acaba en 3.

2. LLETRES. Esbrina el valor que té cada lletra perquè es complisca la suma.

$$\begin{array}{rcccccc}
 & & A & B & C & A & & B=1 & C= & G= \\
 & & & & & D & B & F=2 & D= & H= \\
 + & B & E & B & F & G & & A=5 & E= & \\
 \hline
 & F & B & H & B & A & & & & 
 \end{array}$$

3. NOMBRES DESCONEGUTS. Quin nombre representa cada figura?

			<b>6</b>
			<b>8</b>
			<b>7</b>
<b>4</b>	<b>9</b>	<b>8</b>	

TRIANGLE:

ROMBE:

RODONA:

COR:

RECTANGLE:

