


Nom \_\_\_\_\_ Data \_\_\_\_\_

- Calcula i pinta les boles segons la clau.

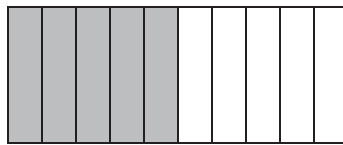
De vermell	$\frac{1}{5}$
De verd	$\frac{1}{4}$
De blau	$\frac{1}{10}$
De groc	La resta



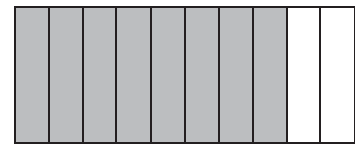
- Observa, completa i escriu la fracció corresponent.



\_\_\_\_\_ dècimes



\_\_\_\_\_ dècimes



\_\_\_\_\_ dècimes

- Escriu com es llegeix.

$$\frac{5}{10} = \underline{\hspace{10cm}}$$

$$\frac{3}{4} = \underline{\hspace{10cm}}$$

$$\frac{6}{8} = \underline{\hspace{10cm}}$$

(Ensenya la feina feta i pots comprovar els resultats amb la calculadora)

Nom \_\_\_\_\_ Data \_\_\_\_\_

Al forn han pastat 73 barres de pa. Les han de col·locar, en parts iguals, en 8 safates. Quantes barres es col·locaran en cada safata?

• **Comprèn.**

Pregunta: \_\_\_\_\_

\_\_\_\_\_

Dades: \_\_\_\_\_

\_\_\_\_\_


• **Pensa què cal fer.**

una suma.

una divisió.

una multiplicació.

• **Calcula.**



• **Solució:** \_\_\_\_\_

Quants euros pagarà en Pasqual per passar 9 dies a l'alberg i rebre una classe de vol sense motor?



• **Comprèn.**

Pregunta: \_\_\_\_\_

\_\_\_\_\_

Dades: \_\_\_\_\_

\_\_\_\_\_


• **Pensa què cal fer.**

una suma.

una resta.

una multiplicació i una suma.

• **Calcula.**



• **Solució:** \_\_\_\_\_