

Nom _____ Data _____

RECOMANEM que veieu aquests vídeos que repassen conceptes que hem treballat a classe sobre els POLÍGONS:

<https://www.youtube.com/watch?v=AwdOocKn6m0>

<https://www.youtube.com/watch?v=Nuwfs11ZP94>

1. Repassa del mateix color els costats paral·lels. Després, escriu *paral·lelogram*, *trapezi* o *trapezoide* segons corresponga.



n _____



t _____



t _____


2. Classifica aquests paral·lelograms.



- Costats: 4 iguals.
- Angles: 4 angles rectes.
- És un quadrat.



- Costats: _____
- Angles: _____
- És un _____



- Costats: _____
- Angles: _____
- És un _____



- Costats: _____
- Angles: _____
- És un _____

nom _____ Data _____

Francesc ha collit **875** taronges i les ha posades en bosses de **25** taronges cada una. Quantes bosses de taronges ha omplert?

1. Comprén.

Pregunta: _____

Dades: _____

2. Pensa què cal fer.

- una suma.
- una divisió.
- una multiplicació.

En una fàbrica de galetes han d'empaquetar **5.453** galetes de xocolata. En col·locar-les en les safates se n'han trencat **629**. Amb la resta de les galetes, quants paquets com aquest necessitaran?

1. Comprén.


Pregunta: _____

Dades: _____

2. Pensa què cal fer.

- una suma.
- una divisió.
- una resta i una divisió.


3. Calcula.



Solució: _____



3. Calcula.



Solució: _____
