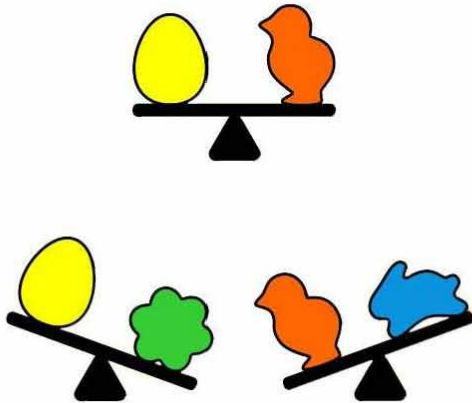


ENIGMES

Dia escolar de les matemàtiques

ENIGMA

2n curs



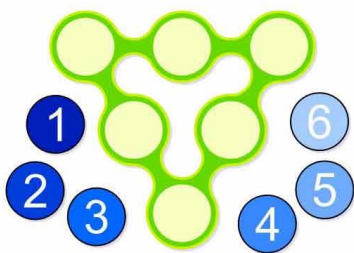
Quina llaminadura és la que més pesa?

SOLUCIÓ:



Dia escolar de les matemàtiques

ENIGMES 3r curs



A TRIANGLES MÀGICS

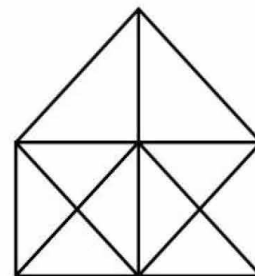
Col·loca els nombres de l' 1 al 6 en els cercles de tal manera que sumant els tres que estan en línia sumin sempre 9.

Sabries fer-ho també per a que sumin 10?

I per a que sumin 11?

I per a que sumin 12?

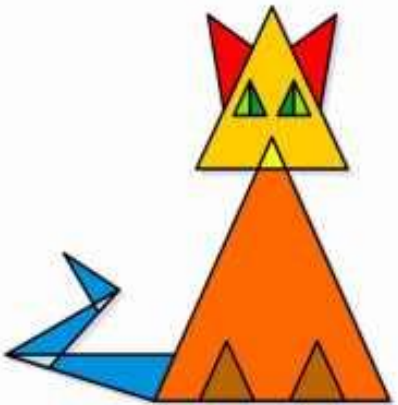
B Quants triangles hi veieu?



SOLUCIÓ: _____



Dia escolar de les matemàtiques ENIGMES I JOCS 2n curs



Saps dir quants triangles hi ha a la imatge del gat?

Solució: _____

En Pau Ros, en Pere Blanc i la Laura Negre són tres mestres de l'escola. A l'hora de dinar en Pau Ros diu:

-Us heu fixat que els nostres cognoms són Blanc, Negre i Ros, com els colors dels nostres cabells?

-Sí, però...ves per on, en cap cas coincideixen els nostres cognoms amb els colors dels nostres cabells.

Saps dir de quin color són els cabells de cada mestre si la Laura Negre no té el cabell ros?

Pau Ros- Pere Blanc - Laura Negre




Dia escolar de les matemàtiques

ENIGMES 3r curs

A) L'Anabel, la Sofia i la Lídia tenen uns pèsols màgics. Per tenir els mateixos poders màgics, totes tres han de tenir la mateixa quantitat de pèsols. Com ho podem fer?

Qui haurà de donar pèsols a qui? Quants? Al final, quants en tenen cada una?



SOLUCIÓ:

.....

.....

B) Quants quadrats hi veus?

Recorda què és un quadrat i no et deixis enredar!!

