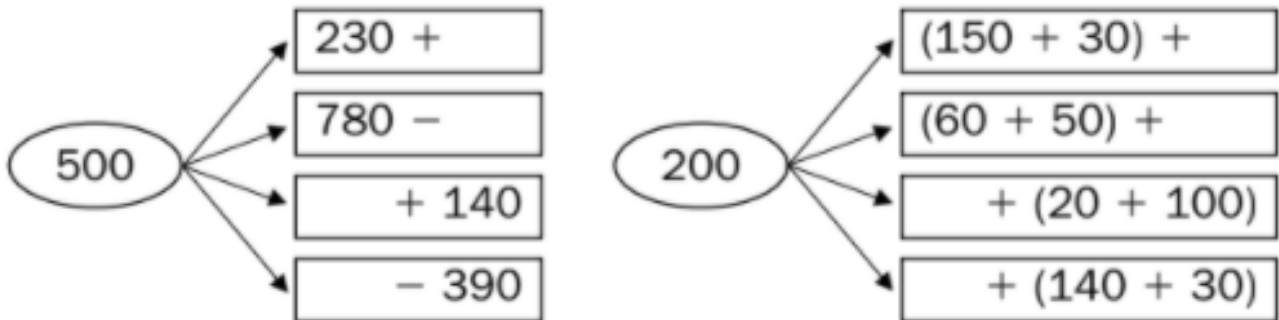


Nom _____ Data _____

- Pensa i completa:



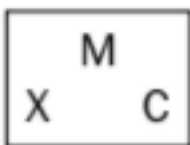
- Calcula i completa la factura següent:

Falcó
ROBA D'HOME

Article	Quantitat	Preu unitat	Preu total
Camisa	35		1.260 €
Pantaló	42		2.016 €
Jaqueta		72 €	1.800 €
Gavardina		98 €	1.666 €
Corbata	68		
Total a pagar:			7.966 €



- Forma dos números romans amb les lletres de cada requadre i escriu el valor de cada un.



Recorda:

I és igual a

V és igual a

X és igual a

L és igual a

C és igual a

D és igual a

M és igual a

Nom _____ Data _____


- Llegeix, calcula i pinta

Isabel té 6 gerres. $\frac{2}{3}$ de les gerres estan plenes.

Quantes gerres plenes té Isabel?

$\frac{2}{3}$ de 6 ► 1r Divideix les 6 gerres en 3 grups ► $6 : 3 = \underline{\quad}$
 2n Calcula les gerres de 2 grups ► $2 \times 2 = \underline{\quad}$

$\frac{2}{3}$ de 6 = 4 ► Isabel té 4 gerres plenes.




- Llegeix, observa i calcula

Una operació va durar tres quarts d'hora.

Quants minuts va durar l'operació?

A quina hora va acabar?


$\frac{3}{4}$ d'hora = 45 de 60 minuts = 45 minuts.



- L'operació va durar 45 minuts.
- L'operació va acabar a les 7:00

- Llegeix i calcula

Beatriu tenia 24 cromos, però en va regalar tres quarts al seu germà Enric. Quants cromos té ara Beatriu?



Andreu té 50 caramels. Dos cinquens dels caramels són de maduixa, tres desens són de llima i la resta són de taronja. Quants caramels són de taronja?

