

Nom \_\_\_\_\_ Data \_\_\_\_\_

## • Completa cada resta.

$421 - \square = 130$

$752 - \square = 317$

$534 - \square = 150$

$981 - \square = 187$

$248 - \square = 63$

$813 - \square = 162$

## • Completa cada resta.

$\square - 258 = 369$

$\square - 124 = 89$

$\square - 187 = 169$

$\square - 170 = 464$



$\square - 377 = 192$

$\square - 389 = 257$

## • Col.loca i divideix

$5.429 : 37$

$4.527 : 18$



## • Calcula.



Nom \_\_\_\_\_ Data \_\_\_\_\_

A l'hotel on estan de vacances els meus iaios hi ha **73** taules al menjador i **34** al jardí. En cada una de les taules hi ha **8** cadires. Quantes cadires tenen en total?

### 1. Comprén.

Pregunta: \_\_\_\_\_

\_\_\_\_\_

Dades: \_\_\_\_\_

\_\_\_\_\_

### 2. Pensa què cal fer.

- una suma.  
 una suma i una multiplicació.  
 una resta i una multiplicació.

Els tuaregs han arribat amb **50** camells carregats de mercaderies. **5** camells porten **138** paquets de dàtils cada un. Quants paquets de dàtils porten en total?

### 1. Comprén.

Pregunta: \_\_\_\_\_

\_\_\_\_\_


Dades: \_\_\_\_\_

\_\_\_\_\_

### 2. Pensa què cal fer.

- una suma.  
 una resta.  
 una multiplicació.


### 3. Calcula.



Solució:

\_\_\_\_\_

### 3. Calcula.



Solució:

\_\_\_\_\_