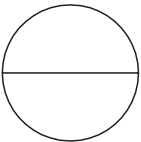
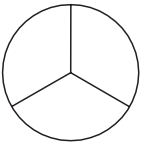
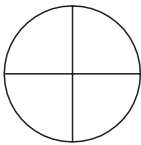
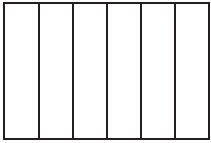
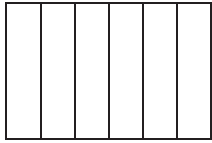
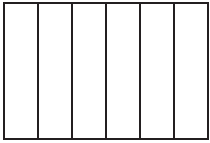


Nom _____ Data _____

• Pinta el que representa cada fracció.

$\frac{1}{2}$ 	$\frac{1}{3}$ 	$\frac{2}{4}$ 
$\frac{1}{6}$ 	$\frac{3}{6}$ 	$\frac{5}{6}$ 

• Escriu > o < segons correspongui.

$\frac{3}{4} \square \frac{5}{4}$	$\frac{5}{3} \square \frac{1}{3}$	$\frac{2}{8} \square \frac{6}{8}$	$\frac{10}{9} \square \frac{6}{9}$
$\frac{3}{2} \square \frac{1}{2}$	$\frac{4}{6} \square \frac{8}{6}$	$\frac{2}{7} \square \frac{1}{7}$	$\frac{5}{5} \square \frac{3}{5}$

<p>• Col·loca i divideix.</p>		
<div style="border: 1px solid black; padding: 5px; width: fit-content; margin: 0 auto;">30:6</div> <div style="border: 1px solid black; width: 100%; height: 150px; margin-top: 10px;"></div>	<div style="border: 1px solid black; padding: 5px; width: fit-content; margin: 0 auto;">29:4</div> <div style="border: 1px solid black; width: 100%; height: 150px; margin-top: 10px;"></div>	<div style="border: 1px solid black; padding: 5px; width: fit-content; margin: 0 auto;">82:9</div> <div style="border: 1px solid black; width: 100%; height: 150px; margin-top: 10px;"></div>

(Ensenya la feina feta i pots comprovar els resultats amb la calculadora)

Nom _____ Data _____

A l'escola de ball del meu poble hi ha 48 nois i noies. Els professors han format grups de 6 alumnes. Quants grups s'hi han format en total?

• **Comprèn.**

Pregunta: _____

Dades: _____

• **Pensa què cal fer.**


una suma.

una resta.


una divisió.

• **Solució:** _____

• **Calcula.**



L'Adrià avui ha comprat 1 caixa de pomes, 1 caixa de plàtans i 1 caixa de peres. Quants quilos de fruita ha comprat?



• **Comprèn.**

Pregunta: _____

Dades: _____

• **Pensa què cal fer.**

una suma.

una multiplicació.

una suma i una multiplicació.

• **Solució:** _____

• **Calcula.**

