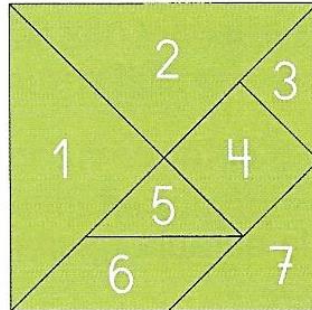


5. Juguem amb el tangram

El professor de l'Anna ha repartit a classe aquesta plantilla. És un puzle format per figures planes. Jugaran amb un tangram!



1. Quins polígons formen el tangram?

- A 1 triangle i 1 quadrilàter.
- B 3 triangles i 2 quadrilàters.
- C 2 triangles i 5 quadrilàters.
- D 5 triangles i 2 quadrilàters.

2. Quantes peces hi ha en total?

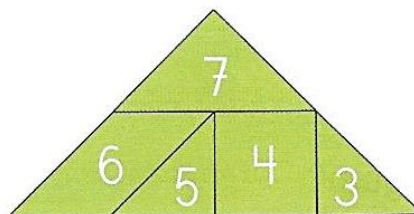
8 peces

6 peces

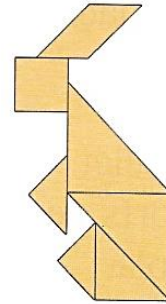
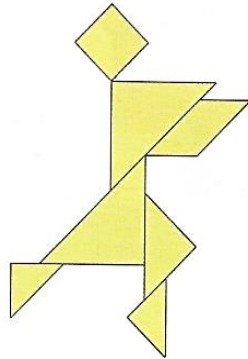
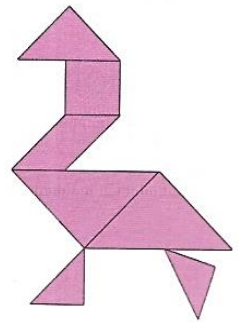

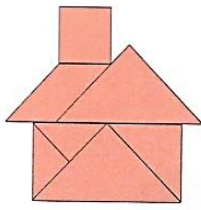
7 peces

10 peces




3. Com col·locaries els triangles 1 i 2 en aquesta figura per formar un rectangle? Dibuixa'l.



4. Fixa't en el tangram de la pàgina anterior i escriu dins de cada peça el número que li correspon.



5. Llegeix aquest text i continua la història.

Hi havia una vegada un  que vivia al camp.
Un dia el seu  Misifú es va posar a perseguir
un . Veure que Misifú s'allunyava de  va
córrer rere seu. Corrent, corrent van arribar a un
llac on van veure un  ferit fora de l'aigua.
