


Nom \_\_\_\_\_ Data \_\_\_\_\_

Resol.


$\begin{array}{r} 7050 \\ - 899 \\ \hline \end{array}$	$\begin{array}{r} 4295 \\ 3102 \\ + 1879 \\ \hline \end{array}$	$\begin{array}{r} 2956 \\ 3971 \\ + 1239 \\ \hline \end{array}$	$\begin{array}{r} 6227 \\ - 582 \\ \hline \end{array}$
$\begin{array}{r} 7321 \\ 970 \\ + 403 \\ \hline \end{array}$	$\begin{array}{r} 5324 \\ - 3421 \\ \hline \end{array}$	$\begin{array}{r} 2153 \\ 515 \\ + 109 \\ \hline \end{array}$	$\begin{array}{r} 6323 \\ - 346 \\ \hline \end{array}$

- Col·loca i multiplica.


$$452 \times 3$$



$$281 \times 5$$



$$392 \times 2$$



- Divideix.

$$12 \overline{)6}$$

$$27 \overline{)3}$$

$$72 \overline{)8}$$

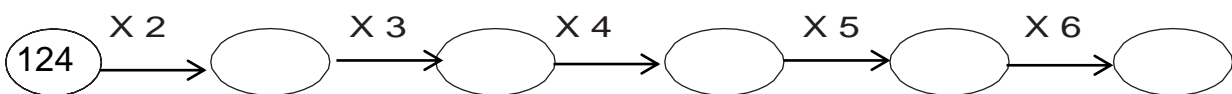
$$54 \overline{)9}$$

$$49 \overline{)7}$$

$$32 \overline{)4}$$

$$18 \overline{)2}$$

$$40 \overline{)5}$$



(Ensenya la feina feta i pots comprovar els resultats amb la calculadora)

Nom \_\_\_\_\_ Data \_\_\_\_\_

A l'estadi de futbol caben 12.780 persones. S'han venut 8.990 entrades per al partit d'avui. Quantes entrades falten per vendre?

- **Comprèn.**

Pregunta: \_\_\_\_\_

\_\_\_\_\_

Dades: \_\_\_\_\_

\_\_\_\_\_


- **Pensa què cal fer.**

una suma i una resta.

una multiplicació.

una resta.

- **Calcula.**



- **Solució:** \_\_\_\_\_

La Lluïsa m'ha demanat que l'ajudi a posar aquestes ametlles garapinyades (15) en parts iguals en les bosses. Quantes ametlles garapinyades hi haurà dins de cada bosseta?



- **Comprèn.**

Pregunta: \_\_\_\_\_

\_\_\_\_\_

Dades: \_\_\_\_\_

\_\_\_\_\_


- **Pensa què cal fer.**

una suma.

una resta.

una divisió.

- **Calcula.**



- **Solució:** \_\_\_\_\_