



Nom _____ Data _____

- Col·loca, divideix i fes-ne la prova.


$$32 : 6$$



$$43 : 5$$



$$40 : 9$$



- Recorda la prova de la divisió . Calcula el dividend

<div style="display: flex; justify-content: space-between;"> <div style="text-align: left;"> <p>Dividend 9</p> <p>residu 1/</p> </div> <div style="text-align: center;"> <p> 2</p> <p>4</p> </div> <div style="text-align: right;"> <p>divisor</p> <p>quocient</p> </div> </div>	<p>(divisor X quocient) + residu = Dividend</p> <p>2 X 4 = 8 8+1 = 9</p>
--	---

$$\square \begin{array}{l} | 3 \\ 6 \end{array}$$

Residu: 0

$$\square \begin{array}{l} | 7 \\ 9 \end{array}$$

Residu: 2

$$\square \begin{array}{l} | 5 \\ 8 \end{array}$$


Residu: 3

$$\square \begin{array}{l} | 9 \\ 3 \end{array}$$


Residu: 3

- Escriu dues restes amb els números donats en cada cas.

$$587 \quad 437 \quad 281$$



$$984 \quad 4.392 \quad 2.726$$



(Ensenya la feina feta i pots comprovar els resultats amb la calculadora)

Nom _____ Data _____

A la gossera municipal hi ha 27 gossos. Un terç dels gossos tenen menys d'1 any. Quants gossos són menors d'un any?

• **Comprèn.**

Pregunta: _____

Dades: _____

• **Pensa què cal fer.**


una suma.

una multiplicació.

una divisió.

• **Solució:** _____

• **Calcula.**



En un supermercat han de canviar les rodes dels 129 carros que tenen. Ja hi han posat 342 rodes.

Quantes rodes els queden per posar?



• **Comprèn.**

Pregunta: _____

Dades: _____

• **Pensa què cal fer.**

una resta.

una multiplicació i una resta.

una suma i una multiplicació .

• **Solució:** _____

• **Calcula.**

