

Nom \_\_\_\_\_ Data \_\_\_\_\_

## • Suma.

$$\begin{array}{r} 473 \\ 186 \\ + 289 \\ \hline \end{array}$$

$$\begin{array}{r} 946 \\ 98 \\ + 697 \\ \hline \end{array}$$

$$\begin{array}{r} 83 \\ 597 \\ + 387 \\ \hline \end{array}$$

$$\begin{array}{r} 526 \\ 849 \\ + 797 \\ \hline \end{array}$$

## • Resta.

$$\begin{array}{r} 6403 \\ - 206 \\ \hline \end{array}$$

$$\begin{array}{r} 7224 \\ - 305 \\ \hline \end{array}$$

$$\begin{array}{r} 8204 \\ - 197 \\ \hline \end{array}$$

$$\begin{array}{r} 4301 \\ - 509 \\ \hline \end{array}$$

## • Multiplica.

$$\begin{array}{r} 432 \\ \times 4 \\ \hline \end{array}$$

$$\begin{array}{r} 564 \\ \times 6 \\ \hline \end{array}$$

$$\begin{array}{r} 1542 \\ \times 8 \\ \hline \end{array}$$

$$\begin{array}{r} 2357 \\ \times 9 \\ \hline \end{array}$$

## • Calcula

$2.492 + 5.678 = \underline{\hspace{2cm}}$

$6.024 - 3.819 = \underline{\hspace{2cm}}$

$1.592 - 759 = \underline{\hspace{2cm}}$

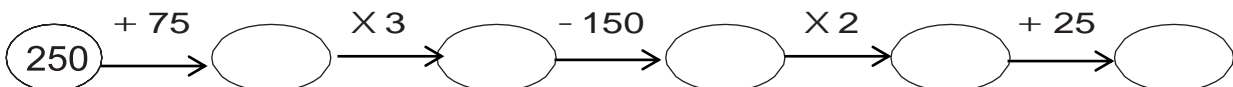
$7.100 - 985 = \underline{\hspace{2cm}}$

$4.926 + 7.926 = \underline{\hspace{2cm}}$

$725 + 6.854 = \underline{\hspace{2cm}}$

• Calcula		
$12 \times 5 = \underline{\hspace{2cm}}$	$56 \times 5 = \underline{\hspace{2cm}}$	$68 \times 4 = \underline{\hspace{2cm}}$
$24 \times 3 = \underline{\hspace{2cm}}$	$42 \times 7 = \underline{\hspace{2cm}}$	$50 \times 2 = \underline{\hspace{2cm}}$
$31 \times 2 = \underline{\hspace{2cm}}$	$85 \times 5 = \underline{\hspace{2cm}}$	$26 \times 6 = \underline{\hspace{2cm}}$
$93 \times 3 = \underline{\hspace{2cm}}$	$13 \times 9 = \underline{\hspace{2cm}}$	$21 \times 8 = \underline{\hspace{2cm}}$

## • Calcula.



(Ensenya la feina feta i pots comprovar els resultats amb la calculadora)

Nom \_\_\_\_\_ Data \_\_\_\_\_

En la prestatgeria del saló hi ha col·locats 127 llibres d'història i 76 llibres de contes.  
Quants llibres hi ha en la prestatgeria?

• **Comprèn.**

Pregunta: \_\_\_\_\_

\_\_\_\_\_

Dades: \_\_\_\_\_

\_\_\_\_\_


• **Pensa què cal fer.**

una suma.

una multiplicació.

una suma i una multiplicació.

• **Calcula.**



• **Solució:** \_\_\_\_\_

Al meu jardí tinc 21 pomeres com aquesta. Quantes pomes puc recollir en total?



• **Comprèn.**

Pregunta: \_\_\_\_\_

\_\_\_\_\_

Dades: \_\_\_\_\_

\_\_\_\_\_


• **Pensa què cal fer.**

una suma.

una multiplicació.

una suma i una multiplicació.

• **Calcula.**



• **Solució:** \_\_\_\_\_