

Les parts de la planta

Nom _____ Data _____

Recorda

- Les plantes estan formades per l'arrel, la tija i les fulles.
- L'arrel es troba davall de terra.
- La tija creix per damunt del sòl i pot ser llenyosa o herbàcia.
- Les fulles tenen dues parts: peciol i limba.

1. Relaciona.

Part de la planta que creix per damunt del sòl i sosté les fulles.

Parts verdes de la planta que neixen de les branques.

Part de la planta que està soterrada.


fulles

tija

arrel

2. Completa el dibuix amb el nom de les parts d'una planta.

Després, contesta.



- Com és la tija d'aquesta planta: llenyosa o herbàcia? Per què? _____

3. Observa el dibuix i escriu el nom de les parts de la fulla.



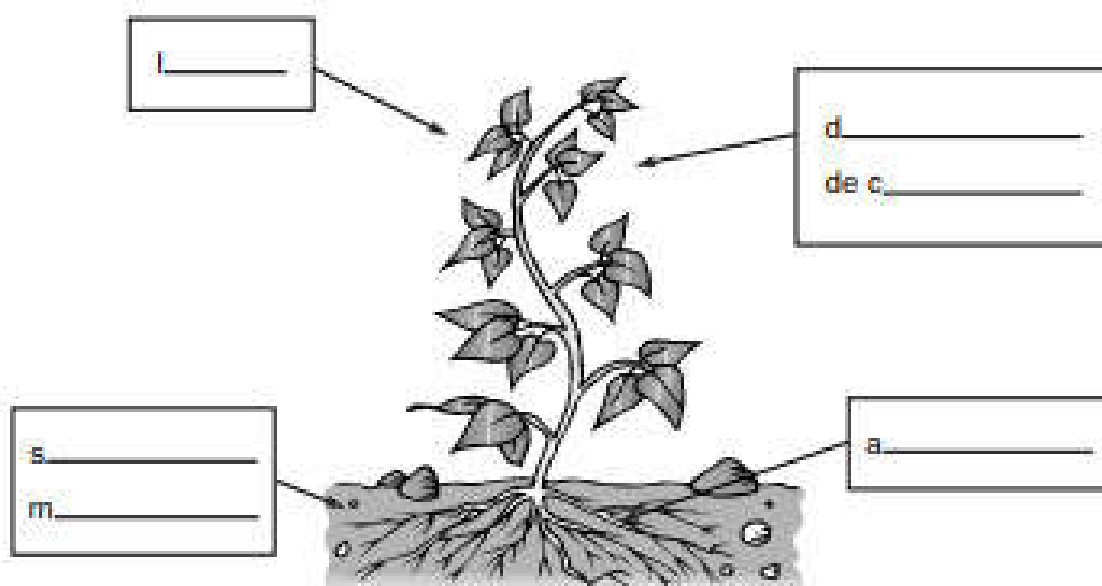
La nutrició de les plantes

Nom _____ Data _____


Recorda

- Les plantes fabriquen els seus aliments mitjançant la fotosíntesi. Per fer-ho, necessiten aigua, sals minerals, diòxid de carboni i llum.
- Quan les plantes realitzen la fotosíntesi, produeixen oxigen.

1. Què necessiten les plantes? Completa el dibuix.



2. Què produeixen les plantes? Completa el dibuix.



3. Què és la fotosíntesi? Contesta.
