


2

El parc d'atraccions

Aquest cap de setmana, l'Ivan i la Llúcia han anat amb els pares a un parc d'atraccions.



1. El preu de l'entrada varia segons l'alçada. Si l'Ivan fa 136 cm i la Llúcia fa 145 cm, quant els costen les 2 entrades?

Els costen euros.


2. Quant van pagar en total per les 4 entrades, si sabem que els seus pares fan més de 150 cm d'alçada?

Van pagar euros.


3. A l'atracció "El tren de la mina" pugen 18 passatgers a cada viatge. En una hora fan 45 viatges. Quantes persones hi poden pujar en una hora?

Hi poden pujar persones.

Entrades al parc



menys de 120 cm:	16,50€
entre 120 cm i 140 cm:	20,50€
entre 140 cm i 150 cm:	22,50€
a partir de 150 cm:	25,50€



4. Cada vagoneta de "Dragó" pot portar 4 passatgers. A la cua, davant de l'Ivan i la Llúcia, hi ha 112 persones. Quantes vagonetes s'ompliran abans que els arribi el torn?

S'ompliran vagonetes.

5. Al "Tami-tami" caben 16 persones a cada tren. El trajecte de cada viatge fa 207 m i cada hora fa 48 viatges. Calcula:

- El nombre de persones que hi poden pujar en una hora:

Hi poden pujar persones.

- Quants quilòmetres recorre en aquest temps?

Recorre km i m.

6. Al final del dia, baixen per un tobogan que té 10 banderoles. La primera està situada a la sortida i l'última a l'arribada. La distància entre banderoles és de 8 m. Quants metres fa el tobogan?

Fa m.

