

Llegeix i comprèn

1. Tria la pregunta que correspon a cada enunciat i escriu-la.

Calcula els diners que ens costarà la tanca.

Quants diners s'ha gastat?

Quant de temps s'ha endarrerit?

Quants paquets hi ha?


Quant pesen entre totes dues?

- Al supermercat tenen el sucre en 3 prestatgeries amb 15 paquets de sucre cadascuna.

Pregunta

- El meu germà gran, amb els seus estalvis, ha comprat a Internet un videojoc de 35 €, una pantalla d'ordinador per 126 € i un teclat que li ha costat 80 €.

Pregunta




- El pati de l'escola té forma de rectangle amb 80 m de llargada i 30 m d'amplada. Volem encerclar-lo amb una tanca que val 35 € el metre.

Pregunta

- L'autobús que fa la ruta escolar surt a les 8 del matí i arriba a l'escola a tres quarts de nou. Avui s'ha endarrerit i ha arribat a les nou menys 5.

Pregunta








- Al magatzem de reciclatge de paper hi ha dues piles de cartró. Una pesa 132 kg; l'altra, 85 kg.

Pregunta

2. Llegeix amb atenció i completa els problemes següents amb les paraules que creguis adients.

- En obrir la guardiola, en Pere ha vist que té 6 bitllets de 10 €. Quants té en total?
- Quantes ampolles de 2 d'aigua podem omplir amb l'aigua del dipòsit municipal, que conté 12.126 d'aigua?
- En un taller hi havia 17 cotxes que necessitaven ser reparats. Si durant la setmana se n'han arreglat 12, quants cotxes per reparar?
- Per fer una camisa necessito 2 m de tela de cotó. Quants necessitaré per fer 6 ?
- Per fer un pastís es necessiten 2 kg de farina. Si en una pastisseria volen fer 6 pastissos iguals que l'anterior, quants de farina es necessiten?
- En Bernat s'ha menjat 5 galetes d'una caixa que en tenia 20. Quantes galetes a la caixa?
- Dels 127 viatgers que hi havia en un tren, a la primera parada n'han baixat 126. Quants passatgers al tren?
- En una cursa ciclista hi ha 453 Si hi ha 92 dones més que homes, quantes participen en la cursa?
- Per guarnir els carrers durant el Nadal, es van col·locar 142 bombetes de colors. En acabar les festes, hi havia 34 bombetes foses. Quantes bombetes enceses?
- He ficat al carro d'anar a comprar 2 kg de tomàquets, un carbassó que pesa 1 kg i 2 kg de taronges. Quant el que porto al carro?
- Si en una ampolla de refresc caben 2 , quants cabran en 4 ampolles de refresc?



metres

Solucions:



Sessió 2

- Quants paquets hi ha?
 - Quants diners s'ha gastat?
 - Calcula els diners que ens costarà la tanca.
 - Quant de temps s'ha endarrerit?
 - Quant pesen entre totes dues?
- diners
 - litres, litres
 - queden
 - metres, camises
 - quilos
 - queden
 - queden
 - participants, dones
 - van quedar
 - pesa
 - litres, litres