


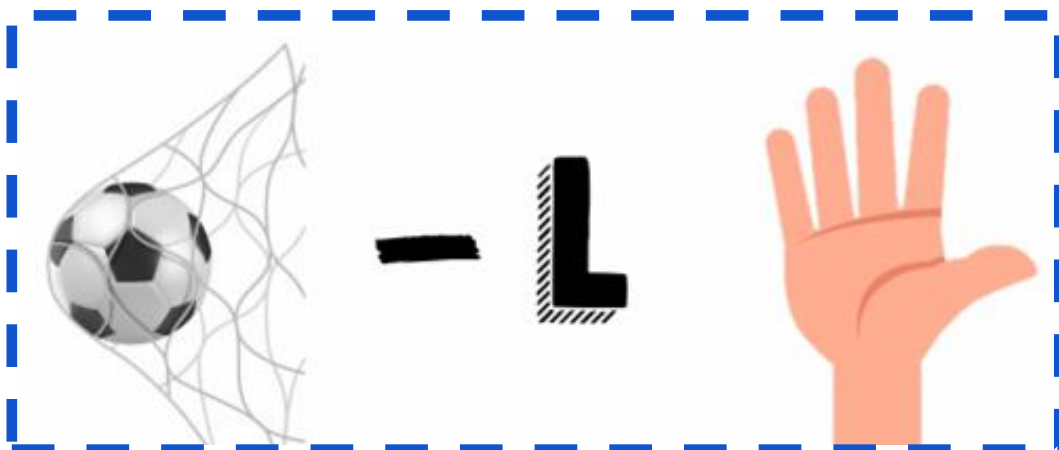
REPTE 1. TRIA EL NOMBRE

- Sabries dir quin és el nombre que surt més vegades?
- I el nombre que surt menys vegades?



REPTE 2. QUÈ SERÀ?

- Em deixes la teva..... -----



REpte 3. ESBRINA QUINS NOMBRES FALTEN

- *Continua les sèries.*




The worksheet contains eight rows of number sequences. Each row starts with a number, followed by a blue circle containing a plus sign and the number 3, then another number, another blue circle with a plus sign and 3, and so on. The right side of the worksheet is divided into eight empty boxes for the student to write the missing numbers.

Row	Number 1	Operator	Number 2	Operator	Number 3	Operator	Number 4	Operator	Number 5	Operator	Number 6
1	2	+3	5	+3	8	+3	11	+3	14	+3	17
2	21		18		15		12				
3	45		40		35		30				
4	4		8		12		16				
5	26		22		18		14				
6	6		11		16		21				
7	31		27		23		19				
8	6		12		18		24				

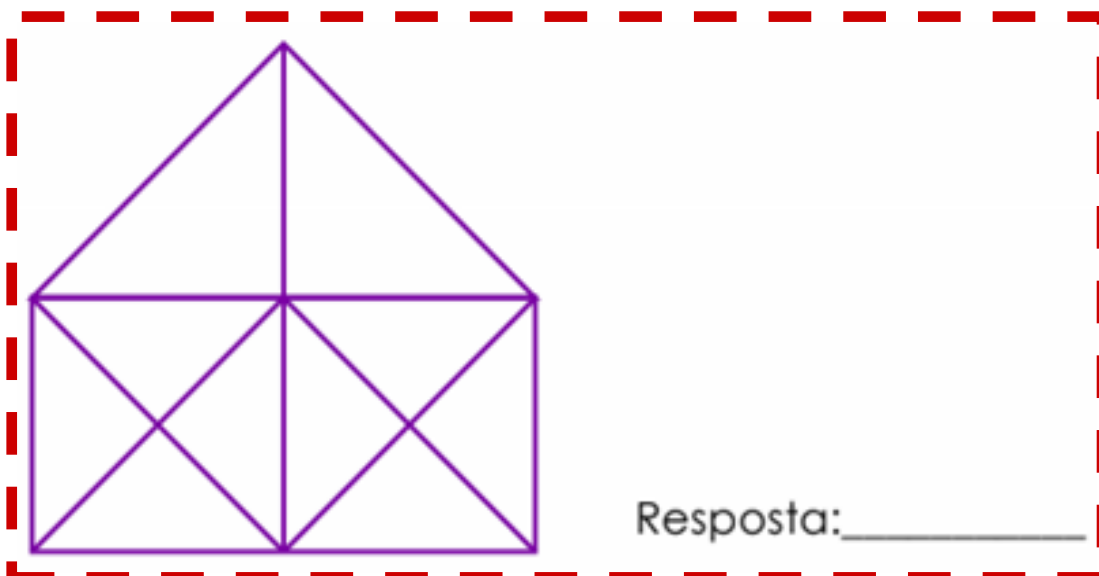
REPTE 4. TROBARÀ L'OCELL EL SEU NIU?

- Traça el camí que ha de seguir fins arribar al niu.



REPTE 5: A LA CERCA DELS TRIANGLES

- Quants triangles hi ha en aquesta figura?



REpte 6 : ENDEVINA LES EDATS

- Sabries identificar quin d'aquests personatges és més jove i vell?

Un problema d'edats !!!!

Sabem que:

El Joan és més vell que en Carles.

El Carles és més jove que en Robert
i en Robert és més jove que en Joan.

Qui dels tres és el més jove ?


Qui dels tres és el més vell ?



REpte 7. EXPERIMENTA AMB MISTOS

- *Sabries trobar la solució?*

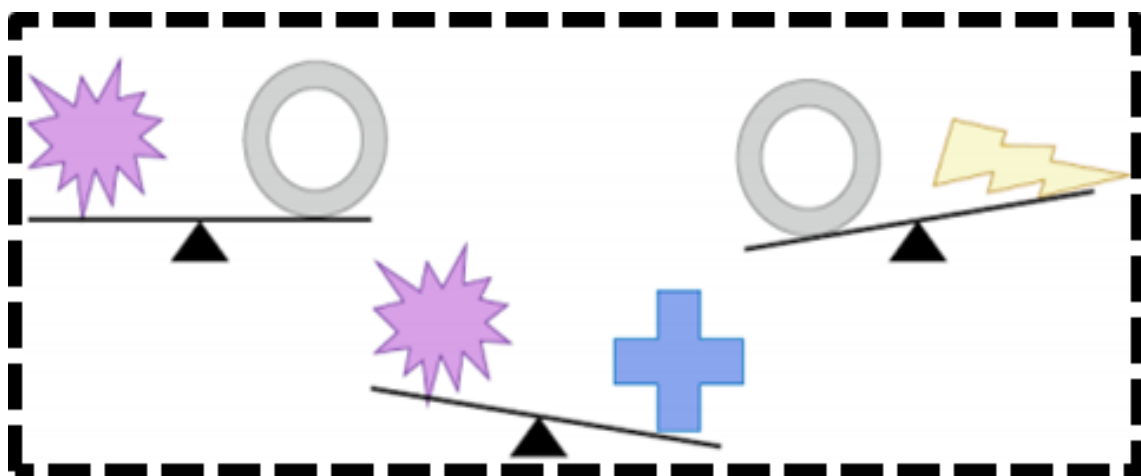
Tenim 17 mistos formant sis quadres i col·locats de la següent manera



Traient només **5 mistos**, han de quedar tres quadres. En saps la solució?

REpte 8 : ESBRINA

- *Quina figura és la que més pesa?*



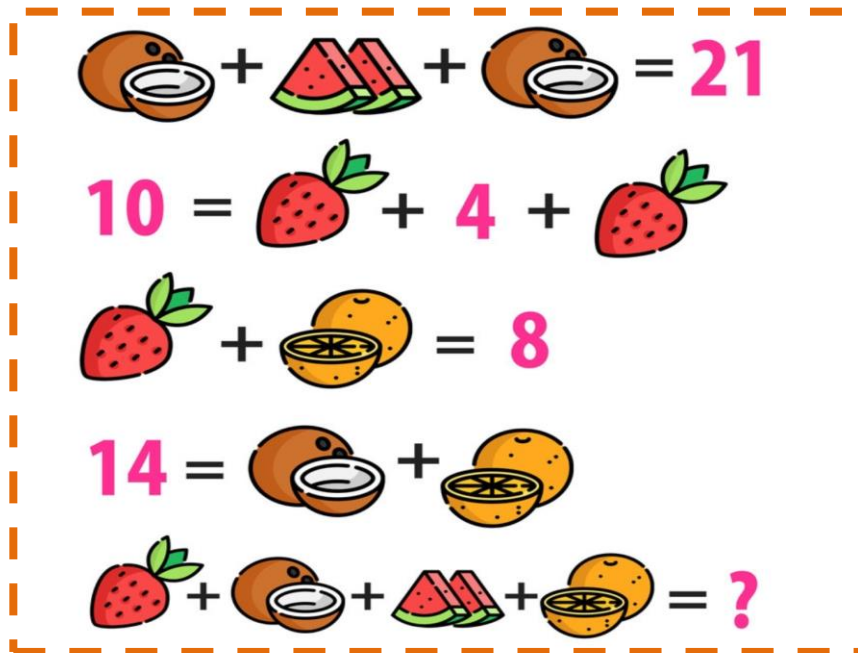
REPTE 9: RAONA











- Quin dia de la setmana va ser ahir si d'aquí dos dies serà diumenge?

REPTE 10: CALCULA I DESXIFRA

- Podràs resoldre aquestes dues endevinalles matemàtiques?



	+		=	20	7
	+		=	25	
	+		=	65	
	+		=	?	