

# DEURES D'ESTIU



$$\begin{array}{r} 15 \\ - 1 \\ \hline \end{array}$$

$$\begin{array}{r} 24 \\ - 12 \\ \hline \end{array}$$

$$\begin{array}{r} 66 \\ - 45 \\ \hline \end{array}$$

$$\begin{array}{r} 32 \\ - 12 \\ \hline \end{array}$$

$$\begin{array}{r} 31 \\ - 20 \\ \hline \end{array}$$

$$\begin{array}{r} 19 \\ - 7 \\ \hline \end{array}$$

$$\begin{array}{r} 39 \\ - 17 \\ \hline \end{array}$$

$$\begin{array}{r} 68 \\ - 24 \\ \hline \end{array}$$

$$\begin{array}{r} 64 \\ - 32 \\ \hline \end{array}$$

$$\begin{array}{r} 35 \\ - 5 \\ \hline \end{array}$$

$$\begin{array}{r} 48 \\ - 17 \\ \hline \end{array}$$

$$\begin{array}{r} 37 \\ - 14 \\ \hline \end{array}$$

$$\begin{array}{r} 90 \\ - 70 \\ \hline \end{array}$$

$$\begin{array}{r} 14 \\ - 12 \\ \hline \end{array}$$

$$\begin{array}{r} 85 \\ - 47 \\ \hline \end{array}$$

$$\begin{array}{r} 23 \\ - 11 \\ \hline \end{array}$$

Nom: \_\_\_\_\_ Cognoms: \_\_\_\_\_

Data: \_\_\_\_\_

$$\begin{array}{r} 66 \\ + 13 \\ \hline \end{array}$$

$$\begin{array}{r} 34 \\ + 13 \\ \hline \end{array}$$

$$\begin{array}{r} 32 \\ + 65 \\ \hline \end{array}$$

$$\begin{array}{r} 21 \\ + 18 \\ \hline \end{array}$$

$$\begin{array}{r} 32 \\ + 12 \\ \hline \end{array}$$

$$\begin{array}{r} 70 \\ + 13 \\ \hline \end{array}$$

$$\begin{array}{r} 78 \\ + 20 \\ \hline \end{array}$$

$$\begin{array}{r} 24 \\ + 15 \\ \hline \end{array}$$

$$\begin{array}{r} 34 \\ + 15 \\ \hline \end{array}$$

$$\begin{array}{r} 70 \\ + 14 \\ \hline \end{array}$$

$$\begin{array}{r} 80 \\ + 10 \\ \hline \end{array}$$

$$\begin{array}{r} 34 \\ + 11 \\ \hline \end{array}$$

$$\begin{array}{r} 4 \\ 2 \\ + 2 \\ \hline \end{array}$$

.....

$$\begin{array}{r} 5 \\ 3 \\ + 1 \\ \hline \end{array}$$

.....

$$\begin{array}{r} 1 \\ 1 \\ + 6 \\ \hline \end{array}$$

.....

$$\begin{array}{r} 4 \\ 1 \\ + 2 \\ \hline \end{array}$$

.....

A l'hospital hi ha 6 oculistes, 3 dentistes i 5 cardiòlegs. Quants metges i metgesses hi ha en total?

DIBUIX

OPERACIÓ

RESPOSTA

A cada visita la pediatra fa servir 2 quants. Si ha fet 3 visites, quants quants haurà fet servir?

DIBUIX

OPERACIÓ

RESPOSTA

A Can Ruti hi ha 10 persones malaltes però només hi ha 7 llits. Quantes persones es queden sense llit?

DIBUIX

OPERACIÓ

RESPOSTA

He anat al CAP a visitar-me. A la sala d'espera hi havia 6 nens, 4 nenes i 3 mares. Quantes persones hi havia en total ?

DIBUIX

OPERACIÓ



RESPOSTA



W	E	R	Y	A	N	E	C	B	D
G	V	B	U	E	Q	S	C	H	F
A	Y	H	C	O	V	E	L	L	A
L	L	E	O	W	A	T	U	S	V
L	A	Y	T	G	C	T	U	E	S
I	R	G	I	J	A	M	I	C	O
N	S	G	G	I	R	A	F	A	P
A	R	G	R	F	A	G	J	L	L
E	R	M	E	S	V	H	R	A	B


(CC) BY-NC-SA

CALAIXETDERECURSOS.BLOGSPOT.COM



<b>MICO</b>	<b>LLEÓ</b>
<b>GIRAFÀ</b>	<b>TIGRE</b>
<b>GALLINA</b>	<b>VACA</b>
<b>ÀNEC</b>	<b>OVELLA</b>







## LECTURA. EL LLEÓ

El lleó viu a les planes de l'Àfrica. El color del seu pelatge és semblant al color groc de les pastures seques.



El lleó és un animal que viu i caça en grup. El mascle és impressionant, pel seu cap enorme i la seva llarga cabellera, però és la lleona qui sol caçar. Encara que sovint marxen en grup darrere d'una presa, una sola lleona té prou força per tirar a terra, animals tan grans com un búfal o una zebra.

Normalment cacen a la nit; per això els lleons passen una bona part del dia asseguts a l'ombra dels arbres.

## COMPREENSIÓ ESCRITA. EL COS.

Avui la Maria ha anat a la festa d'aniversari de la Pepa, que és la seva millor amiga. A la festa hi havia de tot per berenar; entrepans de xocolata, galetes, patates fregides, suc, lllaminadures i un pastís gegant. La Maria, que normalment no menja dolços, ho ha tastat tot. Per la nit, quan ha arribat a casa li feia molt de mal la panxa. No ha sopat res, s'ha rentat les dents i ha anat cap al llit a descansar.



1. On ha anat la Maria? \_\_\_\_\_

\_\_\_\_\_

2. Qui és la Pepa? \_\_\_\_\_

3. A la festa, hi havia per berenar coses

sanes? \_\_\_\_\_

4. La Maria menja dolços? \_\_\_\_\_

5. Què li ha passat quan ha arribat a

casa? \_\_\_\_\_

\_\_\_\_\_

6. Què cal fer abans d'anar a dormir, sobretot

si hem menjat molt de sucre? \_\_\_\_\_

---

Nom: \_\_\_\_\_ Cognoms: \_\_\_\_\_

Data: \_\_\_\_\_

## EXPRESSIÓ ESCRITA



---

---

---

---

---

---

---

---

---

---





---

---

---

---

---

---

---

---

---

---

---

---



---

---

---

---

---

---

