


ACTIVITATS SETMANALS AMPARO

05/06/2020



LLENGUA CATALANA

LA FESTA DE TELMA

Sara i Elias preparen una festa per a la seva amiga Martina. És una nena que té molts amics. Elias prepara la seva roba. Àngels farà el pastís. Tomàs i Carme fan la sopa. Mimi envolta el regal. Dins de la caixa hi ha una tortuga i un gat. Carles menja pasta. Els nens i nenes es diverteixen amb les pilotes.



Llegeix i contesta les preguntes:

- De qui és l'aniversari?

a) Sara

b) Àngels

c) Martina

d) Carme

Dibuixa quin és el regal

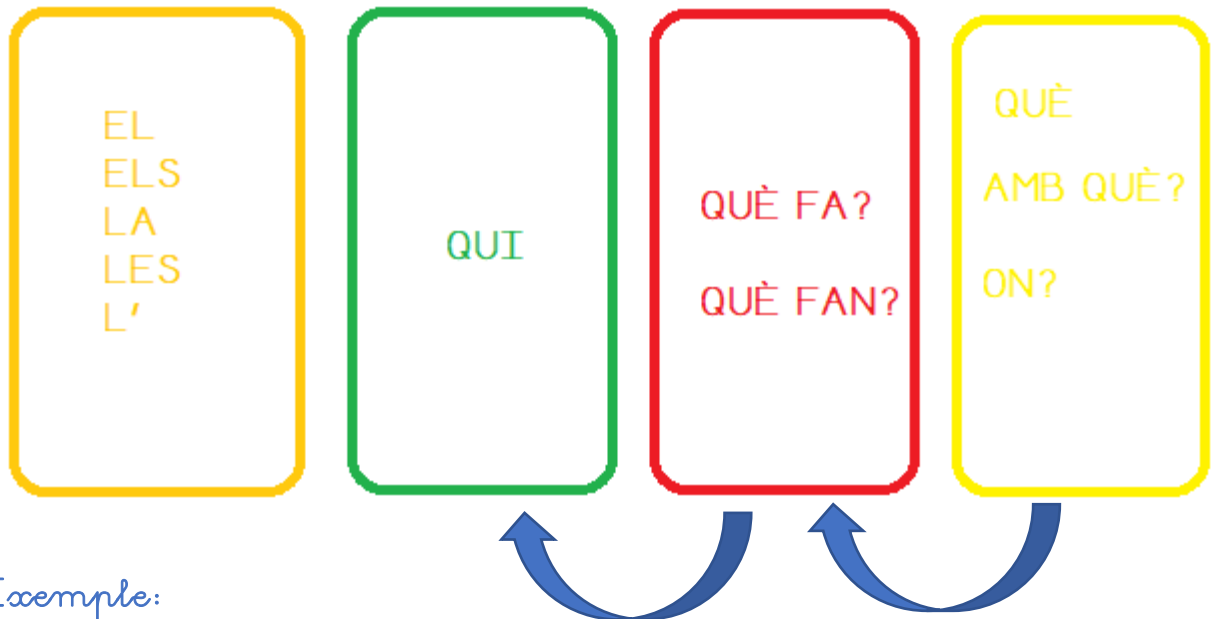
A large, empty rounded rectangle with a blue border, intended for drawing the gift.

Dibuixa què farà Àngels

A large, empty rounded rectangle with an orange border, intended for drawing what Àngels will do.

CONSTRUCCIÓ DE FRASES

Recorda:



Exemple:



El nen olora una flor



La mena pinta la paret de groc.

Ara prova tu: (No oblidés ficar el punt al final)

Al meu  li agrada jugar amb la  .



Al meu gos li agrada jugar amb la pilota.

Eixe  és de  .

• -----

La meua amiga Marina té por als  .

• -----

L'  viu en una  .

• -----

La  va entrar al  amb la seva  .

• -----


Un  es va escapar del  .

• -----

MASCULÍ I FEMENÍ. Escriu on corresponga

MASCULÍ


el, els




sapo cotxe
moto
llibre
llibreta
gos tortuga
pera
mocador
cadira sofà
aranya

FEMENÍ

la, les



L'ALIMENTACIÓ DELS ANIMALS. Clica a la imatge dels animals i veuràs un vídeo sobre què mengen els animals




RECORDA



Classifica els animals de dalt segons el que mengen. Si no ho saps pots buscar en internet


CARNÍVORS

A large, empty rounded rectangle with a red border, intended for listing carnivorous animals.

HERBÍVORS

A large, empty rounded rectangle with a green border, intended for listing herbivorous animals.

OMNÍVORS

A large, empty rounded rectangle with a blue border, intended for listing omnivorous animals.

MATEMÀTIQUES

Laura ha anat a comprar amb sa mare. Han entrat en una tenda i han vist el següent aparador (escaparate).

 18 €	 23 €	 32 €	 17 €
 15 €	 19 €	 57 €	 41 €
 47 €	 35 €	 92 €	 52 €
 9 €	 27 €	 39 €	 27 €
 5 €	 22 €	 36 €	 84 €

Calcula:

Exemple:

1.- Quan valen les sabates  i els guants  ?

Solució: 74 euros

D	1	U
5		7
1		7
7		14

Ara prova tu.

2.- Quan val el bikini i el pantaló?

Solució: _____

D	O	U

3.- Quan valen les ulleres i el perfum?

Solució: _____

D	O	U

4.- Quan val el vestit i la brusa?

Solució: _____

D	O	U


5.- Quan val el cinturó i les botes?

Solució: _____

D	O	U




Pensa i completa. (Recorda. Què significa el símbol?)

				
20 €	-	18 €	=	_____ €





				 
_____ €	-	_____ €	=	_____ €





				 
_____ €	-	_____ €	=	_____ €

				 
_____ €	-	_____ €		_____ €



				
_____ €	-	_____ €		_____ €

Adivina qui és. Uneix amb fletxes.

$20 + 10 + 2$	
$30 + 10 + 7$	
$70 + 10 + 4$	
$10 + 10 + 7$	

$20 + 30 + 7$	
$20 + 10 + 6$	
$10 + 10 + 2$	
$20 + 20 + 1$	

Dibuixa en el gràfic el preu de cada article

41								
39								
37								
35								
33								
31								
29								
27								
25								
23								
21								
19								
17								
15								
13								
11								
9								
7								
5								
3								
1								
	Capell 	Pantaló	Samarreta	Guants	Barret 	Falda	Cinturó	Bikini

Suma de 2 en 2

20	22	24		

Resta d'1 en 1

98	97	96		

Suma de 3 en 3

53	56	59		

Després de treballar anem a jugar.

PRACTICA LES SUMES (O RESTES) DISPARANT.
TU ELEGIXES. SIGUES RÀPID
PRACTICA LES VOLTES QUE VULLGUES.
QUAN MÉS PRACTIQUES MÉS ENCERTARÀS.

Clica a la imatge per començar.

