




4-5-2020

Activitats setmanals Amparo



LLENGUA CATALANA

Observa les imatges i encercla les frases correctes:



- Pepa porta un vestit groc
- Té el cabell ros
- Pepa està somrient
- En el cabell porta un llaç rosa



- Porta un número en la samarreta
- El número és el zero
- El número és el set
- La samarreta és de color verd



- La nena té el cabell ros
- Les sabates són de color vermell
- Té un llaç de color morat
- Està molt enfadada



- S'està rentant les dents
- Està cordant-se el cordons
- S'està raspallant el cabell
- Està rentant-se les mans



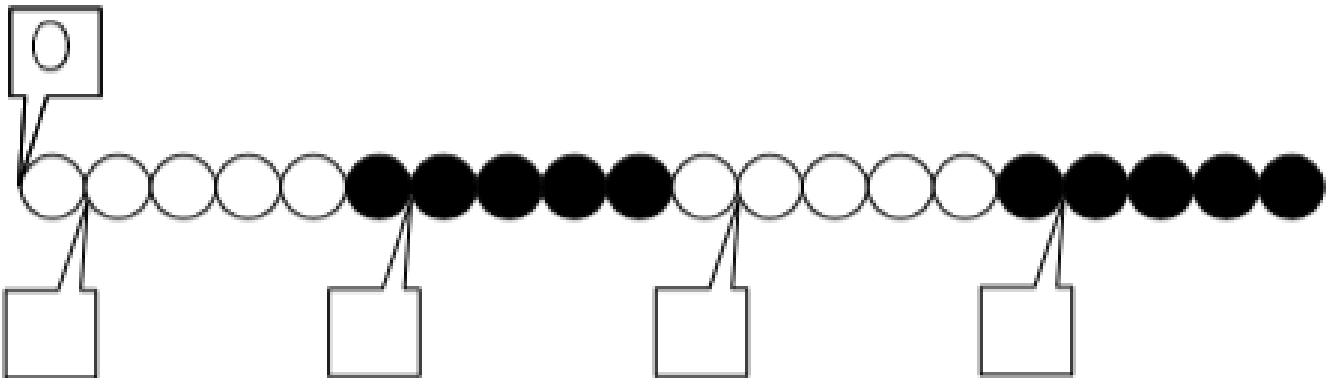



- S'està menjant una fruita
- Està fent bombolles amb xicle
- Noa camina pel parc
- Està feliç i està rient



- Hugo està aixecant la mà
- S'està menjant un entrepà
- El nen està muntant en bici
- Aquest nen està molt trist

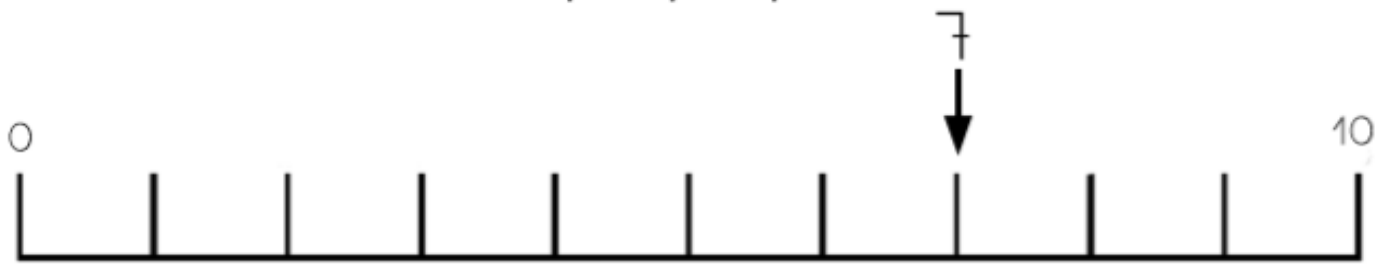
MATEMÀTIQUES

Posa el número que pertoca en cada casella:



Col·loca els números on han d'anar en la línia:

7, 4, 9, 1



Encercla el número més petit de cada parella:

7 6

4 8

3 5

9 2

7 1

5 2

7 9

3 6

6 4

Torna a escriure els números de forma ordenada, del més petit al més gran.

20 17 19 13 6 2

2 < < < < < <

Restes:

Recorda: Quan restem, vol dir que li llevem al número de dalt el de baix.

Observa:

$$\begin{array}{r} 5 \text{ 🍌🍌🍌🍌🍌} \\ - 1 \\ \hline 4 \end{array}$$

$$\begin{array}{r} 4 \text{ 🍌🍌🍌🍌} \\ - 2 \\ \hline 2 \end{array}$$

$$\begin{array}{r} 3 \text{ 🍌🍌🍌} \\ - 0 \\ \hline 3 \end{array}$$

Ara prova tu:

$$\begin{array}{r} 5 \text{ 🍌🍌🍌🍌🍌} \\ - 3 \\ \hline \end{array}$$

$$\begin{array}{r} 3 \text{ 🍌🍌🍌} \\ - 2 \\ \hline \end{array}$$

$$\begin{array}{r} 4 \text{ 🍌🍌🍌🍌} \\ - 1 \\ \hline \end{array}$$

$$\begin{array}{r} 10 \\ - 7 \\ \hline \end{array}$$

$$\begin{array}{r} 6 \\ - 2 \\ \hline \end{array}$$

$$\begin{array}{r} 8 \\ - 0 \\ \hline \end{array}$$

$$\begin{array}{r} 7 \\ - 2 \\ \hline \end{array}$$

$$\begin{array}{r} 5 \\ - 1 \\ \hline \end{array}$$

$$\begin{array}{r} 6 \\ - 3 \\ \hline \end{array}$$

$$\begin{array}{r} 5 \\ - 2 \\ \hline \end{array}$$

$$\begin{array}{r} 8 \\ - 3 \\ \hline \end{array}$$

$$\begin{array}{r} 9 \\ - 1 \\ \hline \end{array}$$

$$\begin{array}{r} 8 \\ - 4 \\ \hline \end{array}$$

$$\begin{array}{r} 9 \\ - 7 \\ \hline \end{array}$$

$$\begin{array}{r} 10 \\ - 3 \\ \hline \end{array}$$

Juguem a la bombolla matemàtica:

Arrastra amb el ratolí la cara que somriu fins al resultat de la suma que et marca a la part esquerra de dalt.

Ves amb compte perquè et va llevant punts si marques la que no toca i la suma va canviant.

