


ACTIVITATS SETMANALS AMPARO

18/05/2020



LLENGUA CATALANA

Llegeix.



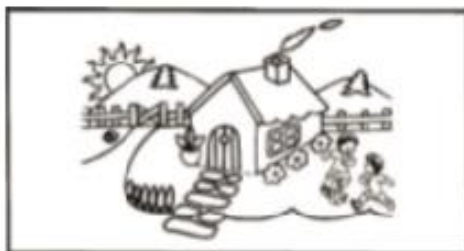

Carles té un ós gran que li diuen Marcel. És de color cafè amb ulls gran i orelles. Marcel és bó i tendre, li agrada el seu corbatí (dibuix) de color vermell. Carles el trau a passejar tots els dies pel matí.

Contesta les preguntes:

- Com es diu l'ós de Carles?
a) Manel b) Marcel c) Joan d) Jaume
- Pinta del color del corbatí que porta



- Pinta la part del dia en què Carles passeja al seu ós.



SINGULAR I PLURAL

Recorda:

Singular: Sols hi ha 1 objecte

Plural: 2 o més objectes

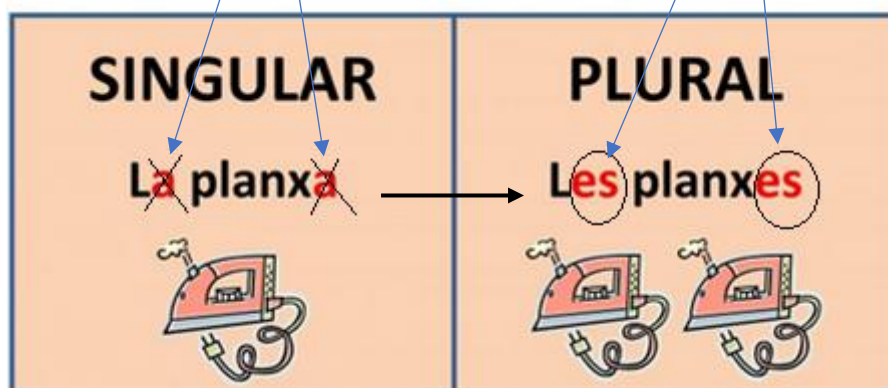
Com fem el plural? Afegim una **-s** al final

Singular: Un cub / El cub

Plural: Uns cub**s** / Els cub**s**



Però si acaba en **-a**, substituïm la "a" per **-es**



Una mare

La mare

Un ou

El pare

Unes mares

Les mares

Uns ous

Els pares

Ara prova tu en l'exercici de la pàgina següent:

SINGULAR	PLURAL
El nen	Els nens
La nena	Les nenes
Un pal	Uns pals
Una casa	Unes cases
Una llibreta	
Una taula	
	Unes cadires
La lletra	
La finestra	
La bicicleta	
	Les peres
	Unes pomes
El bec	
Un telèfon	
	Uns companys
	Els plàtans

Llegeix i completa les frases

Calenta / construccions / falda / drac / rosa / menja / pilota
/ vaca / ratolí / ~~carta~~

1. Ma tia llegeix una carta
2. La sopa està _____
3. Carme porta una _____ vermella
4. El _____ està menjant formatge
5. La _____ dona llet
6. La _____ fa molt bona olor
7. Larail _____ un pastís
8. Darius juga a la _____
9. Xiangui està dibuixant un _____
10. A Juan li agrada jugar a _____

MATEMÀTIQUES

1.- Uneix amb fletxes.

5 desenes i 3 unitats

67

Vint-i-nou

3 desenes i 5 unitats

53

Cinquanta-tres

6 desenes i 7 unitats

29

Seixanta-set

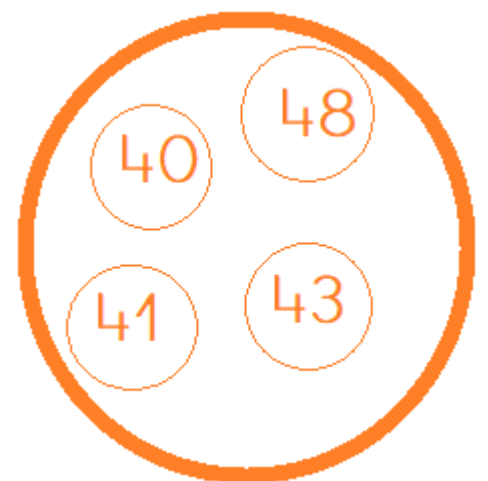
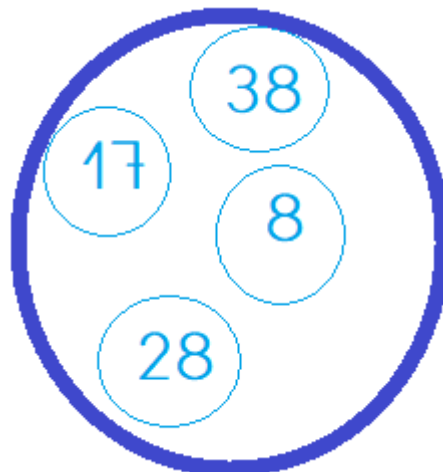
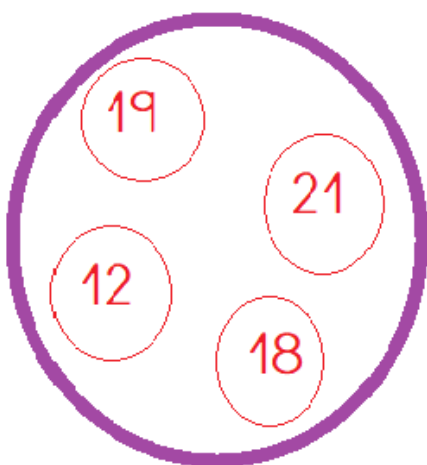
2 desenes i 9 unitats

35

Trenta-cinc

2.- Pinta cada cercle

- De vermell el nombre més gran de cada cercle
- De verd el nombre més petit de cada cercle



3.- Encercla els esportistes que tenen la pilota a la seva dreta

Recorda:



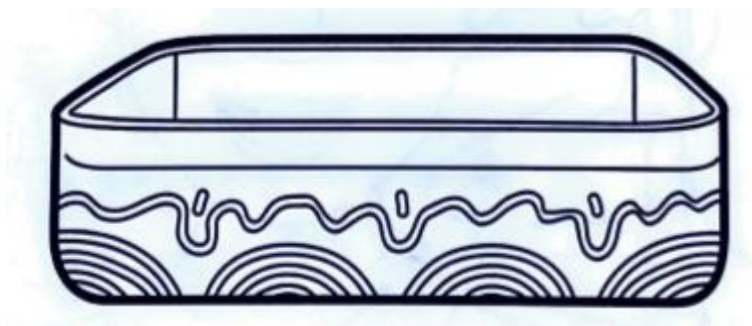
4.- Dibuixa en cada taula el que diu

Un rectangle	Un quadrat gran i un petit	Un triangle sota un cercle

Un cercle dins d'un quadrat	Un rectangle a la dreta d'un triangle	Un quadrat a l'esquerra d'un cercle

5.- Dibuixa en el test allò que s'indica

- 3 flors en el test
- 1 arbre ple de pomes a la dreta del test
- 1 arbre amb el tronc estret a l'esquerra del test
- 5 flors sota del test



Suma de 2 en 2

20	22	24		

Quin número és:

Puzles.

Clica en la imatge per jugar

