

CICLE MITJÀ: 3r

PROPOSTES SETMANALS

BON DIA BONICS I BONIQUES!! UNA SETMANA MÉS US DEIXEM LES PROPOSTES PER PODER TREBALLAR A CASA, SEGUIU TREBALLANT COM FINS ARA, SOU UNS CAMPIONS I CAMPIONES!

US TROBEM MOLT A FALTAR, MOLTS PETONETS I ABRAÇADES!!!!

➤ EDUCACIÓ FÍSICA:

JUST DANCE o FUTBOL-PLANXA



Aquesta setmana us proposem triar entre un joc adaptat: Futbol-planxa i unes “coreos” del JUST DANCE.

Així que...tens ganes de jugar a futbol planxa? o et ve de gust ballar? Carreguem piles i a moure'ns!!



(Clica a sobre de la imatge)

➤ LLENGUA CATALANA:

La setmana anterior ens vam centrar amb la descripcions de persones, aquesta setmana ens centrarem a la descripció d'objectes!

Recordem que, una descripció és una explicació detallada de les característiques d'una persona, objecte, animal, cosa...

Recorda

Per **descriure un objecte** cal fer-ho d'una manera ordenada, que pot ser:

- Primer ens fixem en l'aspecte general que té: la forma, la mida, el color, etc.
- A continuació, expliquem les parts que té i els detalls concrets.
- Finalment, diem per a què serveix i, si volem, podem afegir quina impressió en tenim.

1. Fixa't en el dibuix i completa el quadre:



Què és?	
Com és?	
Detalls?	
Per a què serveix?	

■ Escriu una descripció de l'objecte a partir de la informació que has completat.

Blank writing area with a decorative, wavy border and horizontal lines for text.

COMPRESIÓ LECTORA

Observa aquesta informació del cinema i contesta les preguntes:



PIRATAS DEL CARIBE: EN MAREAS MISTERIOSAS (ANALÓGICA)

Jack Sparrow surt a la recerca de la llegendària Font de la Joventut. En el seu camí es creua amb l'Angèlica, una enigmàtica pirata amb qui comparteix passat.

Web Oficial:

Sala: 3
Duració: 141 min.
Nacionalidad: USA
Director: Rob Marshall
Intèrpretes: Johnny Deep, Geoffrey Rush, Penélope Cruz, Ian McShane.
Gènere: Aventura
Clasificación: No Recomendada per menors de 7 anys

COMPRA LES TIVES ENTRADES
Prement sobre l'horari

TICKET 10€

1. Com es titula la pel·lícula?

2. Qui és el protagonista?

3. Què busca Jack Sparrow?

4. Amb qui es trobarà a la seva aventura?

5. A quina sala he d'anar per veure la peli?

6. Duració del film?

7. Pertany al gènere de la comèdia?

8. Si tinc 9 anys, podré anar a veure-la?

9. Fes una descripció detallada del pirata que surt a la portada.

ORTOGRAFÍA:

1) Posa els articles en la següent llista de paraules:

el	la	els	les	l'
----	----	-----	-----	----

armari	botelles
ciutat	esquirol
regle	ca
pinzells	cussa
ratolins	tardor

2) Posa els articles en la següent llista de paraules:

un	una	uns	unes
----	-----	-----	------

trompeta	taules
cadires	caramels
rellotge	gallines
ratolins	elefant
nigul	llimona

3) Classifica les següents paraules:

fusteria-sabateria-joieria-fuster-sabatilles-fruiteria-fruiter-carnisser-joier-carnisseria -

fruita	carn	fusta	sabata	joia

➤ **CONEIXEMENT DEL MEDI:**

Hola nens i nenes! Com esteu? Aquesta setmana us deixem un **formulari** per repassar els **animals vertebrats** que hem vist aquestes setmanes.

- Cliqueu a l'enllaç de sota i us portarà directament al formulari.
- Primer haureu de veure el vídeo i després contestar a les preguntes.
- Recordeu posar el vostre nom i cognoms.
- Quan acabeu de contestar recordeu clicar **ENVIAR**. Així nosaltres podrem veure les vostres respostes. Endavant! Molts ànims!

<https://forms.gle/E9qrmGxqMJZgntiC6>



ELS ANIMALS VERTEBRATS
(Coneixement del Medi 3er)

Hola nens i nenes! Aquesta setmana us deixem un formulari per repassar els animals vertebrats. Primer haureu de veure el vídeo i després contestar a les preguntes. Recordeu posar el vostre nom i cognoms. Quan acabeu de contestar recordeu clicar ENVIAR. Així nosaltres podrem veure les vostres respostes. Endavant! Molts ànims!

* Obligatòria

Nom i cognoms: *

La vostra resposta

Mireu aquest vídeo dels animals vertebrats. Després contesteu a les preguntes

➤ **MATEMÀTIQUES:**

És molt important que aneu practicant les taules de multiplicar!! Per aquest motiu, a continuació us deixem un link que us portarà a un joc per repassar-les. Ànim =)

<https://www.tablasdemultiplicar.com/buceo-de-numeros.html>

ENIGMES

TROBA 1 INTRÚS



QUIN BAGUL OBRE LA CLAU? 



OPERACIONS:

- Suma i comprova que obtens el mateix resultat.

$\begin{array}{r} 4817 \\ + 748 \\ \hline \end{array}$	$\begin{array}{r} 748 \\ + 4817 \\ \hline \end{array}$	$\begin{array}{r} 579 \\ + 215 \\ \hline \end{array}$	$\begin{array}{r} 215 \\ + 579 \\ \hline \end{array}$
$\begin{array}{r} 6843 \\ + 1232 \\ \hline \end{array}$	$\begin{array}{r} 1232 \\ + 6843 \\ \hline \end{array}$	$\begin{array}{r} 916 \\ + 647 \\ \hline \end{array}$	$\begin{array}{r} 647 \\ + 916 \\ \hline \end{array}$

- Suma.

$(750 + 361) + 34 = \underline{\hspace{2cm}}$	$(1.116 + 110) + 25 = \underline{\hspace{2cm}}$
$750 + (361 + 34) = \underline{\hspace{2cm}}$	$1.116 + (110 + 25) = \underline{\hspace{2cm}}$
$(828 + 108) + 250 = \underline{\hspace{2cm}}$	$(237 + 309) + 394 = \underline{\hspace{2cm}}$
$828 + (108 + 250) = \underline{\hspace{2cm}}$	$237 + (309 + 394) = \underline{\hspace{2cm}}$

- Suma i comprova que obtens el mateix resultat.

$452 + (65 + 10) = \underline{\hspace{2cm}}$	$1.827 + (173 + 570) = \underline{\hspace{2cm}}$
$(452 + 65) + 10 = \underline{\hspace{2cm}}$	$(1.827 + 173) + 570 = \underline{\hspace{2cm}}$
$545 + (143 + 71) = \underline{\hspace{2cm}}$	$242 + (692 + 184) = \underline{\hspace{2cm}}$
$(545 + 143) + 71 = \underline{\hspace{2cm}}$	$(242 + 692) + 184 = \underline{\hspace{2cm}}$

- Completa i calcula.

$784 + 369 = 369 + \underline{\hspace{1cm}} = \underline{\hspace{1cm}}$	$374 + 375 = \underline{\hspace{1cm}} + 374 = \underline{\hspace{1cm}}$
$925 + 309 = \underline{\hspace{1cm}} + 925 = \underline{\hspace{1cm}}$	$628 + 192 = 192 + \underline{\hspace{1cm}} = \underline{\hspace{1cm}}$

PROBLEMES:


La tia de l'Agnès té un àlbum amb 34 fotos. La setmana passada va col·locar-hi 15 fotos més i avui n'hi ha col·locat 17 més. Quantes fotos té l'àlbum?

1. Entén el problema.

Pregunta: _____

Dades: _____

3. Calcula.

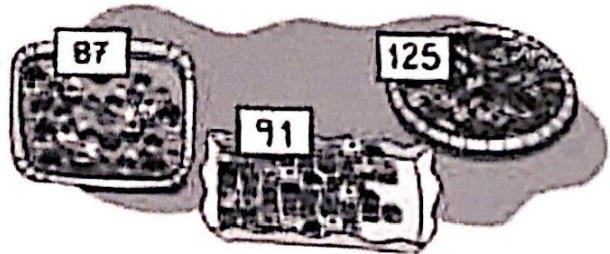


Resposta: _____

2. Pensa què cal fer.

- una suma.
- una multiplicació.
- una suma i una multiplicació.

A la pastisseria *La Palmera* avui han fet 3 plates de pastissos. Quants pastissos han fet en total




1. Entén el problema.

Pregunta: _____

Dades: _____

3. Calcula.



Resposta: _____

2. Pensa què cal fer.

- una resta.
- una multiplicació.
- una suma.

➤ LENGUA CASTELLANA:

VOCABULARIO

1. Sustituye las palabras destacadas por palabras con significado parecido.

gruñón

helada

salados

favorito

- Ese perro es muy **cascarrabias**.

- El flan de vainilla es mi **preferido**.

- La casa del pingüino está **congelada**.

- Jaime y María son muy **divertidos**.

2. Relaciona cada palabra con su contraria.

oscuro

rubia

alegre

bajo

alto

triste

morena

claro

3. Observa los dibujos y completa.

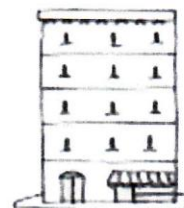


- Pepe me dejó una _____ de papel.

- La _____ de la planta está marchita.

- Alba tiene una espina en la _____ del pie.

- Paco vive en la tercera _____.



El barco de papel

Lee:

Buen viaje

Amado Nervo

Con la mitad de un periódico
hice un buque de papel,
y en la fuente de mi casa
va navegando muy bien.

Mi hermana con su abanico
sopla que sopla sobre él.
¡Muy buen viaje, muy buen viaje,
buquecito de papel!



Pinta la respuesta correcta:

Un periódico es:



Un abanico es:



Responde:

¿Dónde navega el buquecito de papel? _____

¿Para qué crees tú que sopla la hermana sobre el buque de papel?

¿Qué otros medios de transporte conoces que anden por el agua?

¿Has hecho tú un barco con papel? _____

Pídele a un adulto que te enseñe a hacerlo y échalo a navegar.

→ **English:**



1. This week you are going to play some online games to practice vocabulary. Pay attention, there are a few new words, they are not difficult. You can do it!!

Aquesta setmana aneu a jugar a alguns jocs online per practicar vocabulari. Pareu atenció, algunes poques paraules son noves, no son difícils. Ho podeu fer!!

2. Click in this link <https://www.gamestolearnenglish.com/fast-vocab/>
3. Play these four games:
Jugueu a aquests quatre jocs:

