

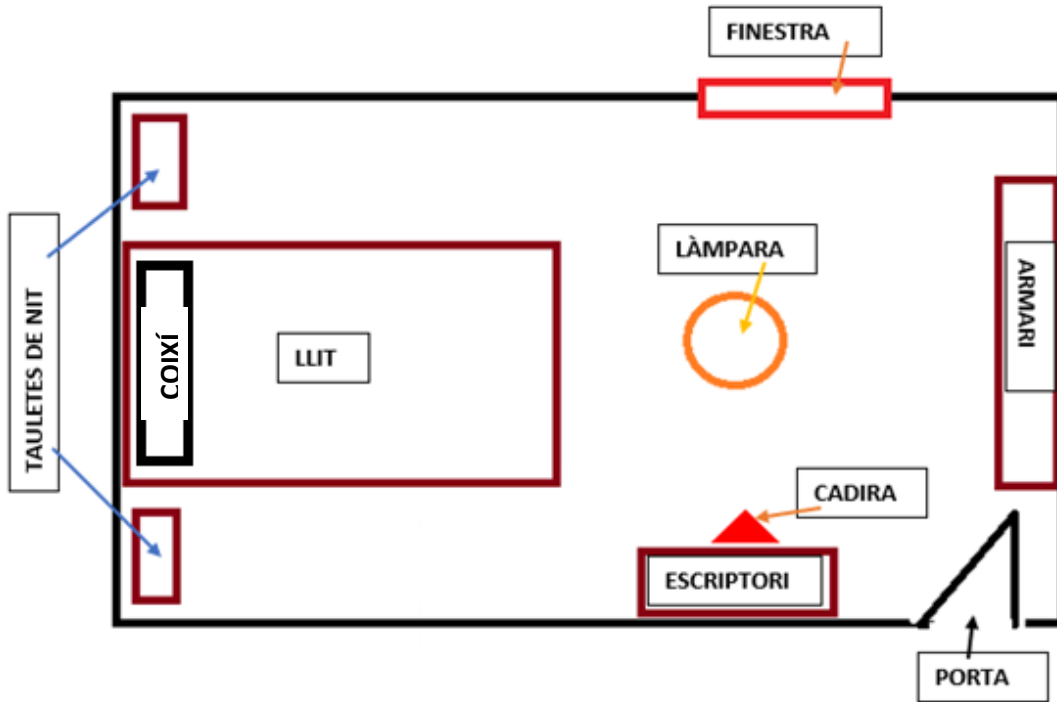
FEINA SETMANAL AMPARO DEL 20/04 AL 26/04

COPIA LES RESPOSTES EN UN FULL. AQUESTS FULLS
S'ENTREGARAN QUAN COMENCEM LES CLASSE



LLENGUA CATALANA

AQUESTA ÉS LA MEVA HABITACIÓ. OBSERVA I APRÉN COM ES DIU CADA MOBLE O LLOC



ARA, EN UN FULL, DIBUIXA LA TEVA HABITACIÓ I ESCRIU EL NOM DE CADA LLOC O MOBLE. PENSA ON TENS LA FINESTRA, LA LÀMPARA, LA TAULETA DE NIT, EL LLIT, LA CADIRA, L'EScriptori, L'ARMARI, LA PORTA, LES JOGUINES, LA CATIFA EL COIXÍ,...




Vocabulari escolar

Escriu les paraules que pertiquen en cada imatge:

Taula - llibre - llibreta - motxilla



Pissarra - esborrador - suro - cadira



Lapis de colors - llapis - quisc de colors - retoladors



Goma - fulls de paper - maquineta - estoig



MATEMÀTIQUES

Mira la imatge i compta el que et demana baix. Escriu el número i després passa el resultat a la gràfica



Quantes papallones  hi ha? _____

Quants ànecs  hi ha? _____

Quantes pomes  té l'arbre? _____

Quants conills



hi ha? _____

I esquirols



? _____

Quantes peres



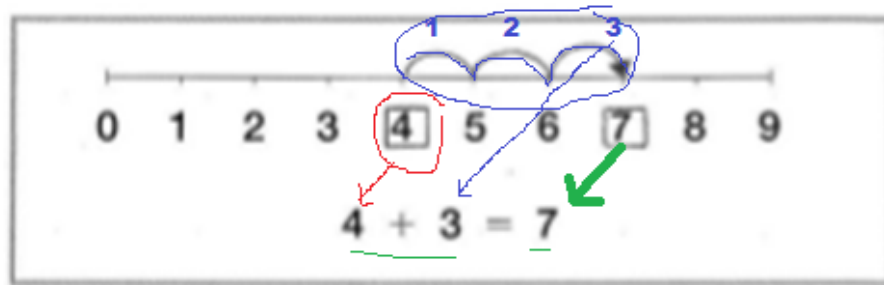
hi ha? _____

Quins altres animals hi veus? _____

Passa les dades anteriors a la gràfica. Pinta segons els números que t'hagin sortit.

10						
9						
8						
7						
6						
5						
4						
3						
2						
1						
	A red and white butterfly on a brown background.	A white duck with an orange beak on a green background.	A red apple on a green background.	A cartoon rabbit wearing blue overalls and a red bow on its head, standing on a green background.	A cartoon squirrel wearing a pink shirt and pants, holding a nut, standing on a brown background.	A cartoon pear with a green stem and leaf, on a green background.

Escriu les següents sumes



RECORDA



PRIMER MIREM EL NÚMERO ON ESTEM

SEGON COMPTEM ELS BOTS QUE FEM

FINALMENT SUMEM O ANOTEM EL NÚMERO ON HEM ARRIBAT



$$\underline{2} + \underline{4} = \underline{6}$$




$$\underline{1} + \underline{\quad} = \underline{\quad}$$



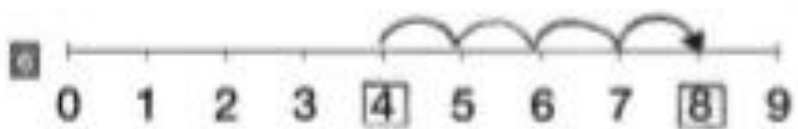
$$\underline{\quad} + \underline{\quad} = \underline{\quad}$$



$$\underline{\quad} + \underline{\quad} = \underline{\quad}$$



$$\underline{\quad} + \underline{\quad} = \underline{\quad}$$



$$\underline{\quad} + \underline{\quad} = \underline{\quad}$$



$$\underline{\quad} + \underline{\quad} = \underline{\quad}$$

JUGUEM AMB PUZLES.

Arrossega les figures i col·loca-les on toca. Clica a la imatge:

