



Generalitat de Catalunya  
Departament d'Ensenyament  
Escola Feliu i Vegués

Carrer Sirius, 2-A  
08914 Badalona  
Tel. 933.871.241  
Fax 933.871.241  
[a8000402@centres.xtec.es](mailto:a8000402@centres.xtec.es)  
<http://agora.xtec.cat/escolafeliuivegues/>

# EXEMPLES

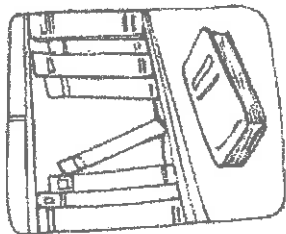
# ACTIVITATS

# ESTIU

# 1r


Completa aquestes frases amb la paraula que correspon al dibuix.

1- A la biblioteca hi ha molts

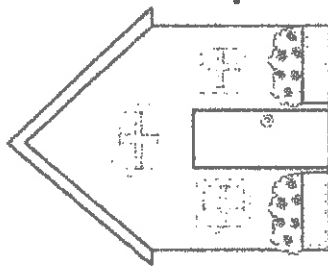


.....

2- La



..... de la



..... està tancada.

Nom \_\_\_\_\_

Data \_\_\_\_\_

## Comprensió lectora

### UNA SORPRESA PER LA MAMA

Aquest matí el meu germà i jo ens hem divertit. La mama havia anat al mercat i tardava.

Aleshores el Martí i jo hem començat a arreglar la casa.

El Martí ha portat un cubell d'aigua per fregar; i jo he portat els coixins al llit després d'espolsar-los bé.

- Quina sorpresa que s'ha emportat la mare quan ha arribat a casa!

---

Fes una creu davant de la resposta correcta.

- Els dos germans s'han:

a) Cansat.

b) Divertit.

c) Avorrit.

---

- On ha anat la seva mare?

a) A una festa.

b) A passejar.

c) Al mercat.

Llegeix


dau, deu, dia, dit, dona, dòmino, roda, indi,  
diadema.

Fada, foc, fum, dofí, Fina, cafè, feina, telèfon, foca

1- La moto té dues rodes




2- El dofí salta dins el mar



3- La Fina porta una diadema



4- A la taula hi ha un telèfon




**NOM:**

\_\_\_\_\_

**DATA:**

\_\_\_\_\_

**LES MEVES VACANCES D'ESTIU**



**AQUESTES VACANCES D'ESTIU**

\_\_\_\_\_

\_\_\_\_\_






Nom: \_\_\_\_\_ Cognoms: \_\_\_\_\_

Data: \_\_\_\_\_

## COMPRESIÓ LECTORA

Dibuixa:

- 1- Un gos amb les orelles marrons.
- 2- Una nena amb un barret lila al cap.
- 3- Un nen amb una cama aixecada.
- 4- Un pallaso amb un nas vermell.
- 5- Una mare amb el cabell ros.
- 6- Una nina amb un anell al dit.



## TREBALLEM AMB ELS NÚMEROS

*Busca aquests números en la sopa de lletres:*

× ONZE

SETZE

DOTZE

DISSET

TRETZE

DIVUIT

CATORZE

DINOU

QUINZE

VINT

A	U	O	T	V	I	N	T	L
D	I	N	O	U	B	Q	D	J
E	F	B	D	I	V	U	I	T
U	D	O	T	Z	E	I	S	M
S	E	T	Z	E	F	N	S	J
B	C	A	T	O	R	Z	E	M
G	F	K	Y	B	V	E	T	Z
O	N	Z	E	G	H	J	K	L
S	D	F	T	R	E	T	Z	E

Efectua les sumes.

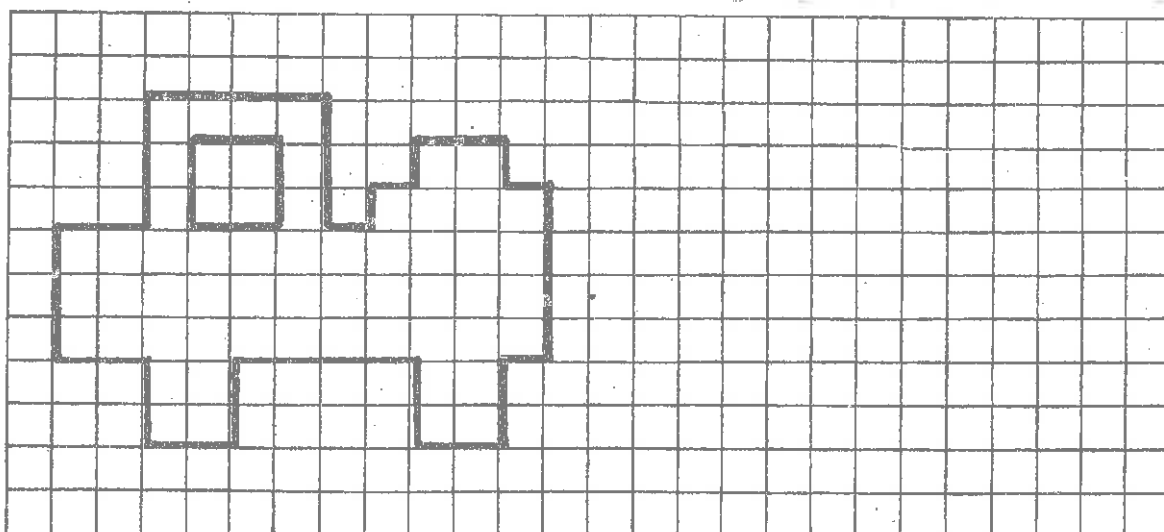
$$\begin{array}{r} 24 \\ + 17 \\ \hline \end{array} \quad \begin{array}{r} 25 \\ + 22 \\ \hline \end{array} \quad \begin{array}{r} 12 \\ + 29 \\ \hline \end{array} \quad \begin{array}{r} 7 \\ + 18 \\ \hline \end{array}$$

$$\begin{array}{r} 20 \\ + 13 \\ \hline \end{array} \quad \begin{array}{r} 39 \\ + 8 \\ \hline \end{array} \quad \begin{array}{r} 24 \\ + 24 \\ \hline \end{array} \quad \begin{array}{r} 16 \\ + 14 \\ \hline \end{array}$$

Completa.

75	-	76	-			-	78	-			-	81	-	82	-	
		-	84	-	85	-	86	-	87	-		-	89	-	90	-
		-		-	93	-	94	-		-		-	97	-		-

Torna'l a fer.





Completa la taula.

1	2	3		5	6	7		9	10
11		13	14		16	17		19	
	22		24	25	26		28		30
31		33	34		36	37		39	
41	42	43		45			48	49	50
51	52		54	55		57	58		60
		63		65	66	67		69	
71	72		74		76		78		80
81		83		85		87	88		
91			94						

Efectua les restes.

$$\begin{array}{r} 45 \\ - 23 \\ \hline \end{array} \quad \begin{array}{r} 67 \\ - 34 \\ \hline \end{array} \quad \begin{array}{r} 25 \\ - 3 \\ \hline \end{array} \quad \begin{array}{r} 39 \\ - 15 \\ \hline \end{array}$$

$$\begin{array}{r} 58 \\ - 18 \\ \hline \end{array} \quad \begin{array}{r} 32 \\ - 30 \\ \hline \end{array} \quad \begin{array}{r} 64 \\ - 33 \\ \hline \end{array} \quad \begin{array}{r} 59 \\ - 34 \\ \hline \end{array}$$

Nom:

$$\begin{array}{r} 4 \\ + 2 \\ \hline \end{array}$$

$$\begin{array}{r} 3 \\ + 1 \\ \hline \end{array}$$

Data:

$$\begin{array}{r} 5 \\ + 2 \\ \hline \end{array}$$

$$\begin{array}{r} 4 \\ + 0 \\ \hline \end{array}$$

$$\begin{array}{r} 5 \\ + 3 \\ \hline \end{array}$$

$$\begin{array}{r} 6 \\ + 2 \\ \hline \end{array}$$

$$\begin{array}{r} 7 \\ + 3 \\ \hline \end{array}$$

$$\begin{array}{r} 5 \\ + 4 \\ \hline \end{array}$$

$$\begin{array}{r} 3 \\ + 1 \\ \hline \end{array}$$

$$\begin{array}{r} 5 \\ + 1 \\ \hline \end{array}$$

$$\begin{array}{r} 4 \\ + 3 \\ \hline \end{array}$$

$$\begin{array}{r} 5 \\ + 2 \\ \hline \end{array}$$

$$\begin{array}{r} 4 \\ + 4 \\ \hline \end{array}$$

$$\begin{array}{r} 5 \\ + 4 \\ \hline \end{array}$$

$$\begin{array}{r} 6 \\ + 3 \\ \hline \end{array}$$

$$\begin{array}{r} 8 \\ + 5 \\ \hline \end{array}$$

1 - 2 -

10 - 9 -

Nom: .....

Data: .....

Completa:

8, \_\_\_\_\_, 10

11, \_\_\_\_\_, 13

\_\_\_\_\_, 6, \_\_\_\_\_

7, \_\_\_\_\_, 9

10, \_\_\_\_\_, 12

\_\_\_\_\_, 9, \_\_\_\_\_

Escriu el nom d'aquests nombres:

0 .....

3 .....

4 .....

7 .....

8 .....

11 .....

12 .....

15 .....

16 .....

19 .....

Nom: .....	Data: .....
------------	-------------

*Encercla els números que sumen:*

<b>5</b>	2	1	4	0	1	6
<b>7</b>	3	6	5	4	0	9
<b>9</b>	7	6	5	4	3	1

*Compta d'un en un del 20 al 70.*

20 - 21 - .....

.....

.....

.....

.....

*Compta enrera del 20 a l'1.*

20 - 19 - .....

.....

.....

TREBALLEM AMB ELS NÚMEROS

*Compta del 50 al 100:*

50	51					56		
			62					67
						74		
		79						
86						92		
					100			

*Compta enrera del 40 al 20:*

40	39							32
		29						
		20						

*Compta de 3 en 3 del 0 al 30:*

0	3	6			15			24
	30							


Nom: ..... Data: .....

Problemes


1.-A la Vanessa li van regalar 5 vales i en perd

1. Quants vales li queden?


Dibuixa



Operació




Resposta




2.-Al meu jardí hi ha 3 arbres a la dreta i 2 arbres a l'esquerra. Quants arbres hi ha?


Dibuixa



Operació



Resposta




Nom: ..... Data: .....

Problemes


1.- Un camió porta 2 caixes i un altre 6.

Quantes caixes porten entre els dos camions?


Dibuixa



Operació




Resposta




2.- Al matí, un pagès va plantar 6 enciams i a la tarda 4. Quants enciams té plantats?


Dibuixa



Operació



Resposta



Nom: ..... Data: .....

Problemes

1.-Ahir a la tarda vam fer 1 dibuix i avui n'hem fet 4. Quants dibuixos tenim ara?

Dibuix

Operació

Resposta

2.-En Josep compra 4 retoladors i en gasta 1. Quants retoladors li queden?

Dibuix

Operació

Resposta