

**MATEMÀTIQUES 6è CICLE SUPERIOR**

**Activitats**

Nom :

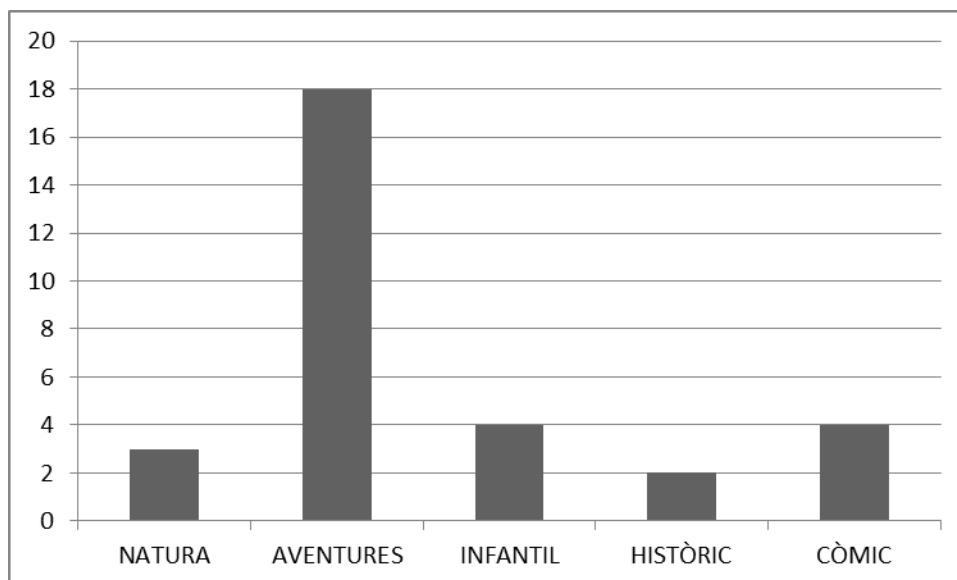
Grup :

Data :

SETMANA DEL

**Exercici número 1**

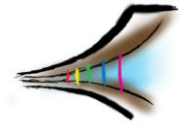
**Fixa't en aquest diagrama de barres que hem trobat a la biblioteca de l'escola.**



**a) Sabries fer una hipòtesi de quina informació ens està donant?**

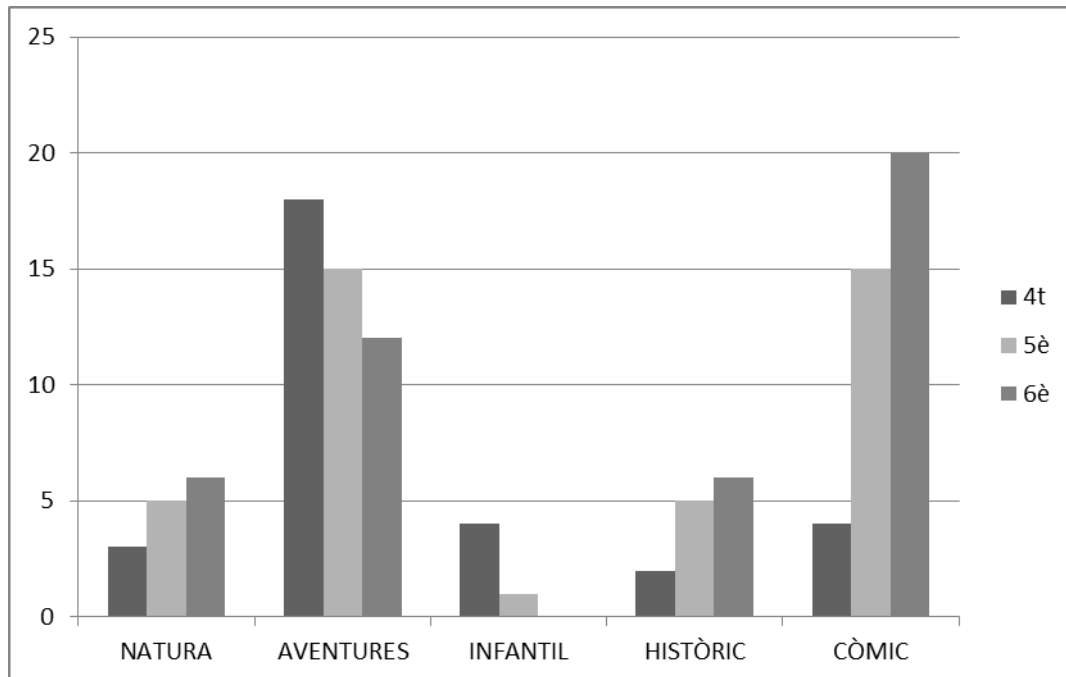
**b) Segurament és un diagrama del tipus de llibres que tenen en préstec aquest any. Escriu-los per ordre de més a menys sol·licitats:**

- 1.
- 2.
- 3.
- 4.
- 5.



## **Exercici número 2**

**Fixa't ara en aquest altre gràfic.**



**a) Digues quin és el tipus de llibre preferit pels alumnes de:**

**4t:**

**5è:**

**6è:**

**b) Quants cursos han demanat llibres infantils en préstec?**

**c) Quin és el curs que ha demanat més llibres d'aventures?**

**d) A simple vista, podries deduir quin és el grup que més llibres s'ha emportat en préstec?**

**e) I el que menys?**

### **Exercici número 3**

**Observa aquesta taula amb noves dades sobre els llibres prestats per la biblioteca aquest mes:**

	NATURA	AVENTURES	INFANTIL	HISTÒRIC	CÒMIC	TOTAL
1r	-	1	20	-	1	
2n	-	10	4	-	4	
3r	-	15	-	1	13	
4t	1	13	-	2	15	
5è	2	14	-	4	10	
6è	6	12	-	10	3	
<b>TOTAL</b>						

- a) *Acaba d'omplir la taula amb les dades que hi manquen.*
- b) *Quin és el total de llibres que s'han endut en préstec entre tots?*
- c) *Apunta el total de llibres que s'ha endut cada curs i després calcula la mitjana de llibres per curs.*

1r:

2n:

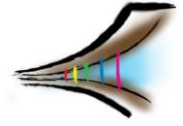
3r:

4t:

5è:

6è:





### **Exercici número 4**

**Els de la nostra colla, formada per 5 amics, hem anant a dinar; el dinar ens ha costat, entre tots, 55 €. L'Eloi de seguida ha tret un bitllet de 10 € i una moneda d'un euro.**

**Creus que ho ha fet bé? Quant toca pagar a cada un? Li hauran de tornar canvi?**

**Sabries explicar quina estratègia ha pensat per fer el càlcul mentalment?**