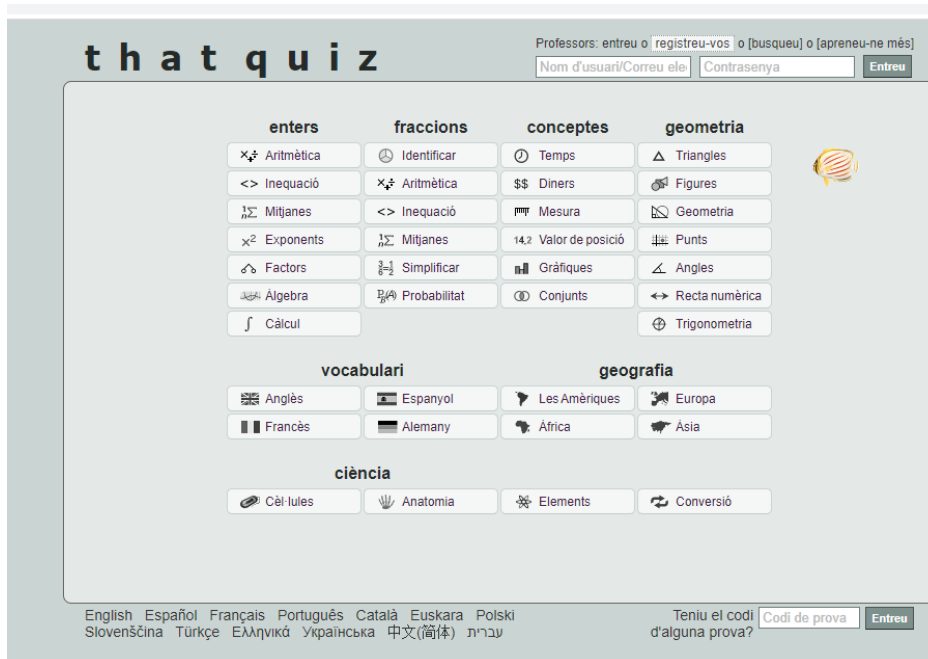


Nom: ..... Data: ..... Curs: .....

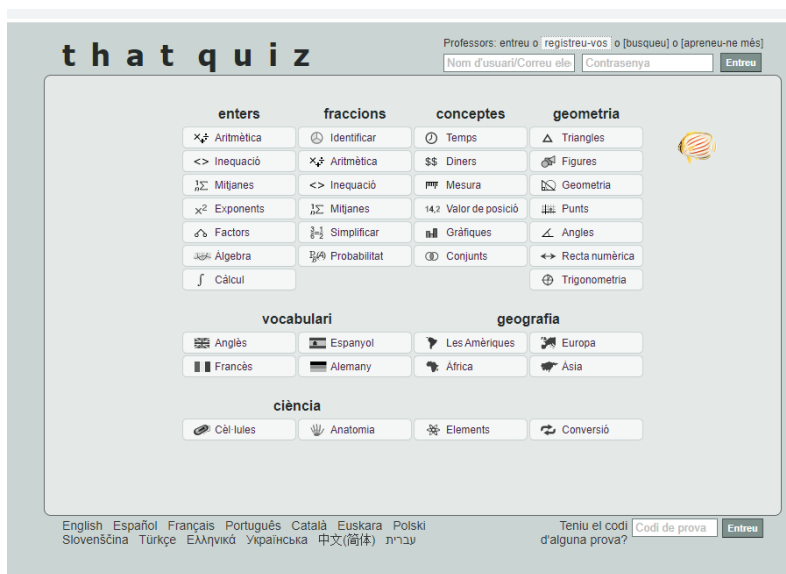
**ACTIVITAT 1** (es pot fer a través de **mòbil, tablet o ordinador**, però si es fa a través de mòbil o tablet cal posar-los en horitzontal per poder fer el paquet d'activitats)

Accedeix a la pàgina **THATQUIZ** o bé podeu accedir a través d'aquest enllaç <https://www.thatquiz.org/es/>



The screenshot shows the THATQUIZ website interface. At the top, there is a navigation bar with the text "Professors: entreu o registreu-vos o [busqueu] o [apreneu-ne més]" and a search bar. Below this, there are several categories of subjects: "enters", "fraccions", "conceptes", "geometria", "vocabulari", "geografia", and "ciència". Each category has a grid of icons representing different topics. At the bottom, there is a language selection menu and a section for entering a test code.

A la part d'abaix a l'esquerra us posa: ¿tienes algún código para examen? posareu el següent codi: **26BXR1TC** (amb majúscula) o bé a través d'aquest enllaç que us portarà directament <https://www.thatquiz.org/es/classtest?26BXR1TC>



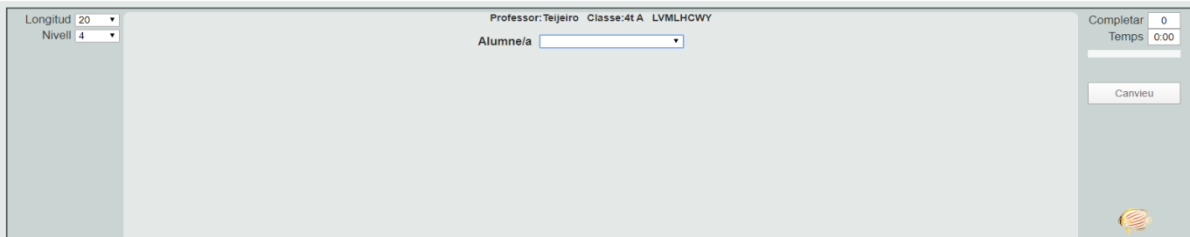
This is another screenshot of the THATQUIZ website interface, identical to the one above. It shows the same navigation bar, subject categories, and language selection options.



Cliqueu la pestanya on posa **ESTUDIANTE** i trobareu el vostre nom. La contrasenya és 1234, però cada alumne ha d'entrar en el seu nom.

Nom: ..... Data: ..... Curs: .....

Ja podeu començar a fer les activitats..... ÀNIMS!!!!



Longitud: 20  
Nivell: 4  
Professor: Teijeiro Classe: 41A LVMLHCWY  
Alumn/a:   
Completar: 0  
Temps: 0:00  
Canvieu

## **ACTIVITAT 2**

Torneu a entrar igual que abans, **el codi ha canviat**, és el següent: [5ZQC6VAZ](https://www.thatquiz.org/es/classtest?5ZQC6VAZ) o bé directament a través de l'enllaç <https://www.thatquiz.org/es/classtest?5ZQC6VAZ>

Aneu al vostre nom i accediu amb la contrasenya d'abans: 1234.... ENDAVANT!!!!

## **ACTIVITAT 3**

**Copia i resol els següents problemes.** Es pot fer l'activitat a l'ordinador en un WORD o bé en un full blanc i enviar la foto al correu electrònic

El pare va al supermercat i compra 2 paquets de sucre, 3 kg de pomes, 1 kg de kiwis i  $\frac{1}{2}$  kg de cireres. Quants diners s'ha gastat?

1 paquet de sucre 1,10 euros

1 kg de pomes 1,20 euros

1kg de kiwis 4,10 euros

1kg de cireres 4 euros

Pot pagar amb un bitllet de 10 euros? li faltarà diners o li sobrarà. Quant li faltarà o quant li sobrarà.

**RECORDA:** FES LES OPERACIONS RESPECTANT LES UNITATS, I ELS DECIMALS, US DEIXO UN EXEMPLE:

1,40

X 4

5,60 (les dècimes queden al mateix lloc)

1,40

1,40

1,40

+1,40

5,60