

## MATEMÀTIQUES 6è CICLE SUPERIOR

### Activitats

Nom:



Grup:

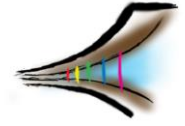
Data:

SETMANA DEL 27 D'ABRIL A L'1 DE MAIG

### Exercici número 1

**En cada una de les figures i en la línia, pinta de color vermell el 50 %, de color blau marí el 25 % i de color lila el 10 %. Pinta la part restant d'un altre color.**





**Exercici número 2**

**Relaciona cada fracció de la figura o de la línia amb el color que li correspon segons els percentatges de l'exercici anterior:**

$\frac{1}{4}$	vermell	0,1
$\frac{1}{2}$	blau	0,25
$\frac{1}{10}$	lila	0,5

**Exercici número 3**

**Fixant-te en el que has pintat, ordena de més gran a més petita la part de coca que es menjarà cada un.**

Iu	Carla	Toni	Aline
$\frac{2}{3}$	$\frac{1}{6}$	$\frac{3}{4}$	$\frac{5}{6}$

**Exercici número 4**

**Ordena de més petit a més gran:**

**0,3 - 0,32 - 0,45 - 0,273 - 0,312 - 0,3001 - 0,301 - 1**

\_\_\_\_\_ < \_\_\_\_\_ < \_\_\_\_\_ < \_\_\_\_\_ < \_\_\_\_\_ < \_\_\_\_\_ <  
 \_\_\_\_\_ <

**Exercici número 5**

**Calcula:**

**10 % de 40 =**

**20 % de 40 =**

**5 % de 40 =**


**25 % de 40 =**

**Explica com ho has fet:**

**Exercici número 6**

**Dibuixa fraccions impròpies:**

$\frac{7}{3}$



Vuit quarts

