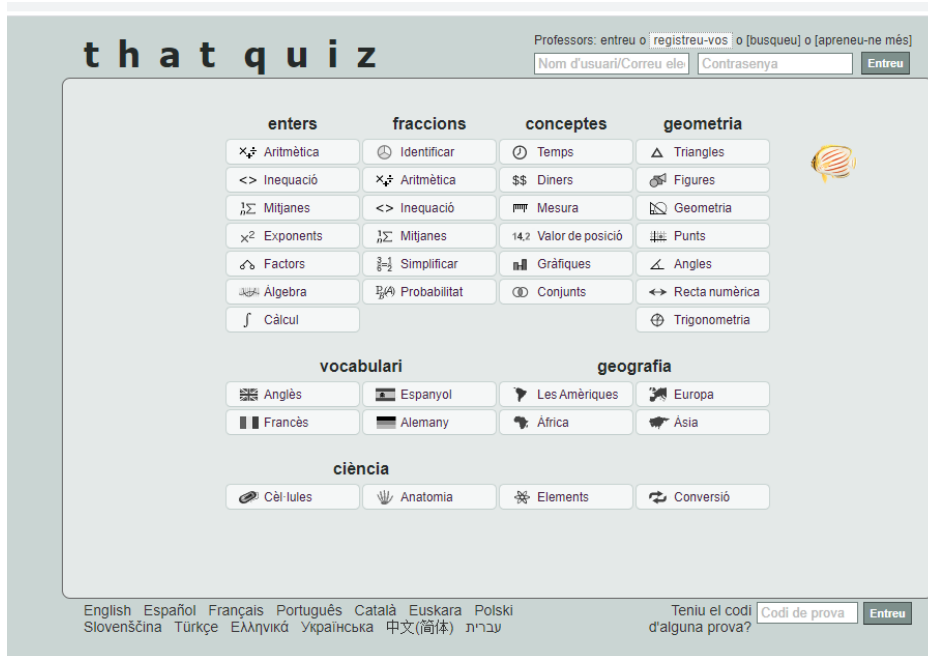


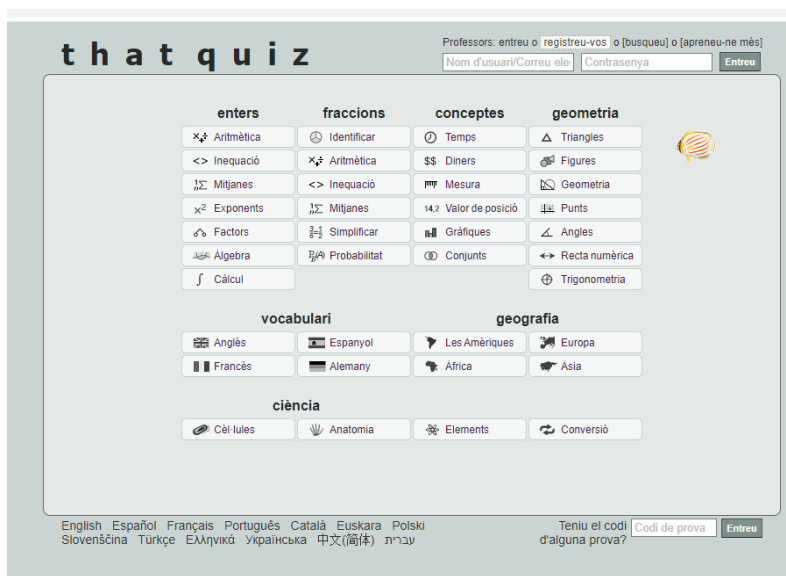
ACTIVITAT 1 (es pot fer a través de **mòbil, tablet o ordinador**, però si es fa a través de mòbil o tablet cal posar-los en horitzontal per poder fer el paquet d'activitats)

Accedeix a la pàgina **THATQUIZ** o bé podeu accedir a través d'aquest enllaç <https://www.thatquiz.org/es/>



The screenshot shows the THATQUIZ website interface. At the top, there is a navigation bar with the text 't h a t q u i z' and a search bar. Below the search bar, there are several categories of subjects: 'enters', 'fraccions', 'conceptes', 'geometria', 'vocabulari', 'geografia', and 'ciència'. Each category has a grid of buttons with icons representing different sub-topics. For example, 'enters' includes buttons for 'Aritmètica', 'Inequació', 'Mitjanes', 'Exponents', 'Factors', 'Àlgebra', and 'Càlcul'. At the bottom, there is a language selection menu and a 'Codi de prova' field.

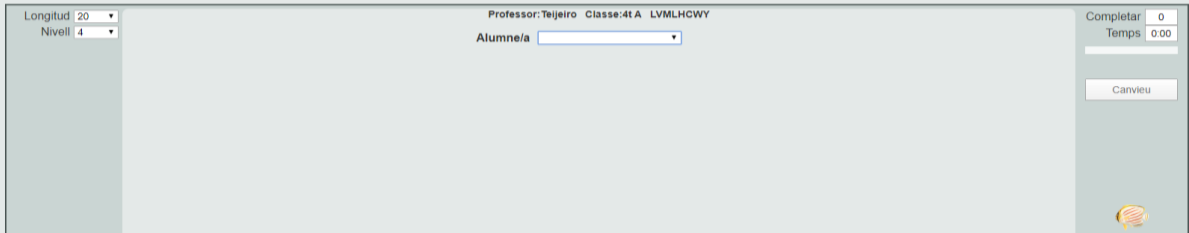
A la part d'abaix a l'esquerra us posa: ¿tienes algún código para examen? posareu el següent codi: **LVMLHCWY** (amb majúscula) o bé a través d'aquest enllaç que us portarà directament <https://www.thatquiz.org/es/classtest?LVMLHCWY>



This is another screenshot of the THATQUIZ website interface, identical to the one above. A red arrow points to the 'Codi de prova' field at the bottom right of the page.

Cliqueu la pestanya on posa **ESTUDIANTE** i trobareu el vostre nom. La contrasenya és 1234, però cada alumne ha d'entrar en el seu nom.

Ja podeu començar a fer les activitats..... ÀNIMS!!!!



ACTIVITAT 2

Torneu a entrar igual que abans, **el codi ha canviat**, és el següent: **16NVILR6** o bé directament a través de l'enllaç <https://www.thatquiz.org/es/classtest?16NVILR6>
Aneu al vostre nom i accediu amb la contrasenya d'abans: 1234.... ENDAVANT!!!!

ACTIVITAT 3

Copia i resol els següents problemes. Es pot fer l'activitat a l'ordinador en un WORD o bé en un full blanc i enviar la foto al correu electrònic

El pare va al supermercat i compra 3 ampolles d'oli, 5 garrafes d'aigua, 3kg de patates, 1 kg de maduixes i $\frac{1}{2}$ kg de avellanes. Quants diners s'ha gastat?

1 ampolla d'oli 1,30 euros

1 garrafa d'aigua 1,10 euros

1 kg de patates 1,20 euros

1kg de maduixes 3,20 euros

1kg d'avellanes 6 euros

Pot pagar amb un bitllet de 20 euros? li faltarà diners o li sobrarà. Quant li faltarà o quant li sobrarà.

RECORDA: FES LES OPERACIONS RESPECTANT LES UNITATS, I ELS DECIMALS, US DEIXO UN EXEMPLE:

1,40

X 4

5,60 (les dècimes queden al mateix lloc)

1,40

1,40

1,40

+1,40

5,60