

Nom: _____

Data: _____

1. Fes les següents sumes amb l'àbac.

$77 + 20 =$

$56 + 92 =$

$94 + 137 =$

$300 + 150 =$

$314 + 426 =$

$203 + 677 =$

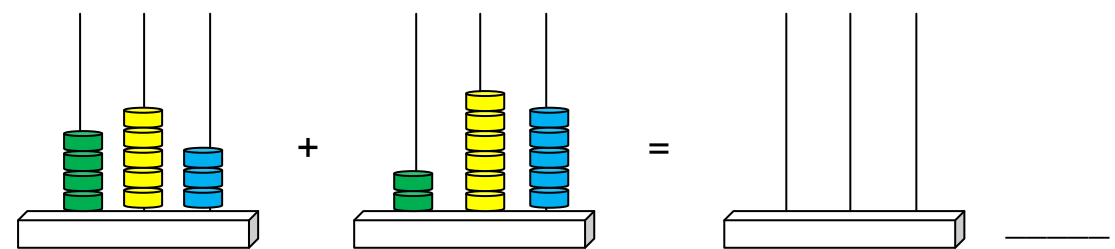
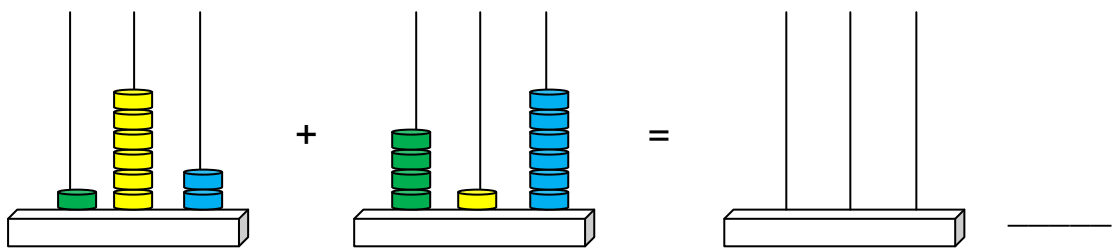
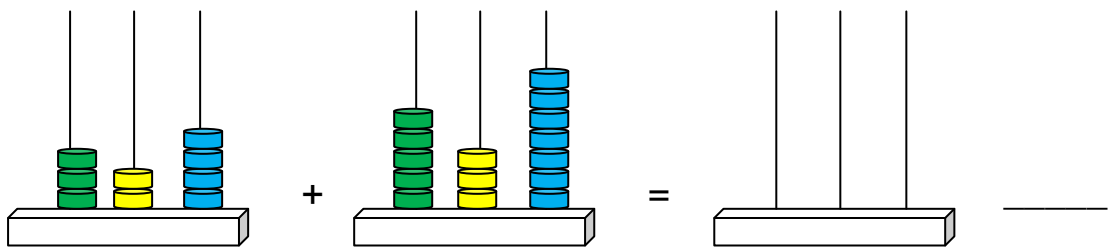
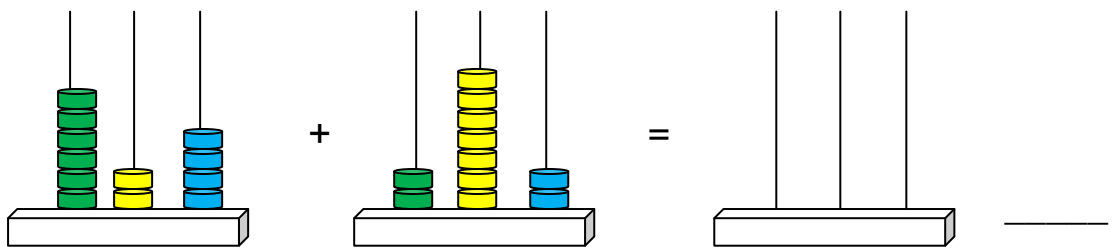
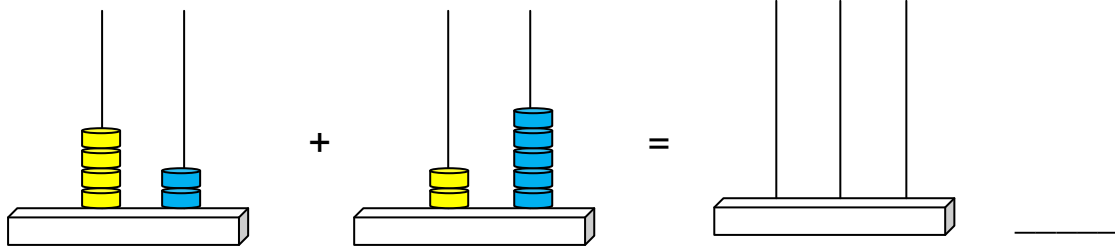
$500 + 185 =$

$366 + 222 =$

$472 + 281 =$

$119 + 382 =$

2. Fes aquestes sumes i dibuixa el resultat a l'àbac o escriu el resultat amb números a la ratlla.



3. Endevina quin número és el que falta a les següents sumes.

