


MATEMÀTIQUES


CÀLCUL (1)

1. Col·loca les multiplicacions en vertical i les fas.


710×5




601×6



9.301×3



5.443×2



Recorda

Una **divisió** és **exacta** si el **residu** és **zero**.

2. Calcula aquestes divisions exactes.

$54 \overline{) 9}$	$24 \overline{) 4}$	$18 \overline{) 2}$	$72 \overline{) 8}$
$27 \overline{) 3}$	$14 \overline{) 7}$	$35 \overline{) 5}$	$48 \overline{) 6}$

- Per què aquestes divisions són exactes? Contesta.
